


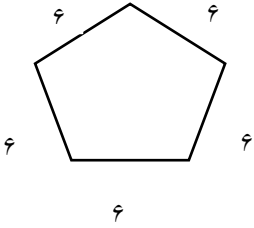
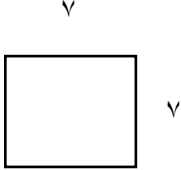


<p>امتحان درس : پایه : تاریخ امتحان : ۱۴۰۲ / ۱۰ / زمان پاسخگویی : دقیقه تعداد صفحات :</p>	<p>بسمه تعالی مدیریت آموزش و پرورش شهرستان میاندوآب  دبستان دخترانه غیردولتی فضلا آزمون دی ماه سال تحصیلی ۱۴۰۳-۱۴۰۲</p>	<p>نام و نام خانوادگی: شماره صندلی: کلاس: طراح:</p>
---	--	---

بارم	سوالات	ردیف
	<p>جاهای خالی را کامل کنید.</p> <p>۲ هزار تایی و ۶ یکی و ۵ ده تایی و ۰ صدتایی میشود.....</p> <p>۷۰۸۶ به حروف میشود.....</p> <p>دو هزار و سیصد و هفت و شش به رقم میشود.....</p> <p>مکعب ازمربع درست شده است.</p> <p>یک سانتی متر میلی متر است.</p> <p>۴۵۰۰ متر..... کیلومتر متر است.</p> <p>..... وسیله ای برای تشخیص زاویه راست است.مربع..... زاویه راست است.</p> <p>..... نصف قطر است.دایره قطر است</p> <p>ساعت ۲۰ میشود ساعت..... بعد از ظهر.</p> <p>ساعت ۳ بعد از ظهر میشود ساعت.....</p>	<p>۱</p>


	<p>تمام عدد های سه رقمی که رقم صدگان آن ۲ و ۳ و دهگان آن ۵ و رقم یکان آن ۴ باشد</p>	2
	<p>ساعت یک ربع مانده به ۸ را نشان دهید.</p> 	۳
	<p>عدد داده شده را روی محور نشان دهید</p>  <p>واحدها $\frac{2}{3}$ و $\frac{1}{3}$</p>	۴
	<p>کسر های زیر را با زدن علامت ($=$) مقایسه کنید.</p> <p>$\frac{1}{3} \bigcirc \frac{1}{2}$ $\frac{2}{3} \bigcirc \frac{1}{2}$ $5 \bigcirc 4$ واحد و $\frac{1}{8}$ واحد $5 \bigcirc 2$ واحد و $\frac{2}{8}$ واحد</p>	۵
	<p>محیط شکل های زیر را بدست آورید.</p>  	۶

	<p>دایره ای به شعاع ۲ سانتی متر رسم کنید.</p> <p>● م</p> <p>بهترین وسیله برای رسم دایره چیست؟</p>	۷
	<p>حاصل ضرب هارا به روش های خواسته شده به دست آورید.</p> <p>بارسم شکل 3×4</p> <p>با محور 2×6</p>	۸
	<p>دخترم عدد هارا باهم مقایسه کنید.</p> <p>۸۵۰۰ ○ ۶۸۰۰ ۳۵۸۹ ○ ۳۵۲۰</p>	۹
	<p>فاطمه ۲۷ کیک خرید او میخواهد کیک هارا به ۹ نفر از دوستانش بدهد به هر نفر چند کیک میرسد؟</p>	۱۰
	<p>زهرا ۸ سال و مادرش ۳۲ سال دارد سن مادر زهرا چندبرابر سن او است؟</p>	۱۱

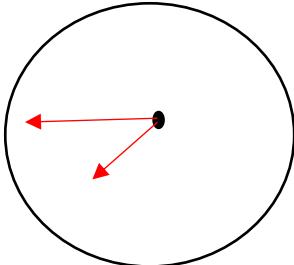
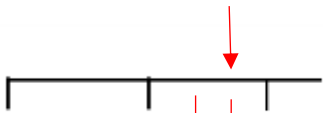
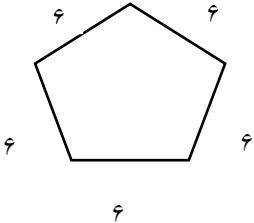
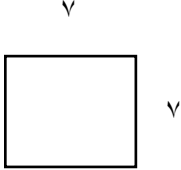
دو خط موازی رسم کنید.

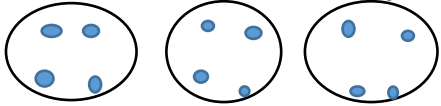
۱۲

✽ من الله التوفيق ✽

نام و نام خانوادگی: شماره صندلی: کلاس: طراح:	بسمه تعالی مدیریت آموزش و پرورش شهرستان میاندوآب  دبستان دخترانه غیردولتی فضلا آزمون دی ماه سال تحصیلی ۱۴۰۲-۱۴۰۳	امتحان درس : پایه : تاریخ امتحان : ۱۴۰۲ / ۱۰ / زمان پاسخگویی : دقیقه تعداد صفحات :
---	---	--

بارم	سوالات	ردیف
	<p>جاهای خالی را کامل کنید.</p> <p>۲ هزار تایی و ۶ یکی و ۵ ده تایی و ۰ صدتایی میشود..... ۲۰۵۶ ...</p> <p>۷۰۸۶ به حروف میشود.. هفت هزار و هشتاد و شش</p> <p>دو هزار و سیصد و هفت و شش به رقم میشود..... ۲۳۷۶</p> <p>مکعب از .. ۶ مربع درست شده است.</p> <p>یک سانتی متر ۱۰ میلی متر است.</p> <p>۴۵۰۰ متر..... ۴ کیلومتر ۵۰۰ متر است.</p> <p>... گونیا وسیله ای برای تشخیص زاویه راست است. مربع ... ۴ ... زاویه راست است.</p> <p>.. شعاع نصف قطر است. دایره .. بی نهایت ... قطر دارد.</p> <p>ساعت ۲۰ میشود ساعت ... ۸ ... بعد از ظهر.</p> <p>ساعت ۳ بعد از ظهر میشود ساعت ... ۱۵</p>	۱

	<p>تمام عدد های سه رقمی که رقم صدگان آن ۲ و ۳ و دهگان آن ۵ و رقم یکان آن ۴ باشد</p> <p style="text-align: right; color: red;">۳۵۴ - ۲۵۴</p>	2
	<p>ساعت یک ربع مانده به ۸ را نشان دهید.</p> <div style="text-align: center;">  </div>	۳
	<p>عدد داده شده را روی محور نشان دهید</p> <div style="text-align: center;">  </div> <p style="text-align: right;">واحدها $\frac{2}{3}$ از 1</p>	۴
	<p>کسر های زیر را با زدن علامت ($<$, $>$, $=$) مقایسه کنید.</p> <div style="display: flex; justify-content: space-around; align-items: center;"> <div style="text-align: center;"> $\frac{1}{3} < \frac{1}{2}$ </div> <div style="text-align: center;"> $\frac{2}{3} > \frac{1}{2}$ </div> <div style="text-align: center;"> $5 < 4$ واحد $\frac{2}{8}$ واحد $\frac{1}{8}$ واحد </div> </div>	۵
	<p>محیط شکل های زیر را بدست آورید.</p> <div style="display: flex; justify-content: space-around; align-items: center;"> <div style="text-align: center;">  </div> <div style="text-align: center;">  </div> </div>	۶

	<p>دایره ای به شعاع ۲ سانتی متر رسم کنید.</p> <p>● م</p> <p>بهترین وسیله برای رسم دایره چیست؟</p>	۷
	<p>حاصل ضرب هارا به روش های خواسته شده به دست آورید.</p> <p>بارسم شکل 3×4</p>  <p>با محور 2×6</p>	۸
	<p>دخترم عدد هارا باهم مقایسه کنید.</p> <p>$8500 > 6800$ $3089 > 3020$</p>	۹
	<p>فاطمه ۲۷ کیک خرید او میخواهد کیک هارا به ۹ نفر از دوستانش بدهد به هر نفر چند کیک میرسد؟</p> <p>$27 \div 9 = 3$</p>	۱۰
	<p>زهرا ۸ سال و مادرش ۳۲ سال دارد سن مادر زهرا چند برابر سن او است؟</p> <p>$32 \div 8 = 4$</p>	۱۱

دو خط موازی رسم کنید.

۱۲

✽ من الله التوفيق ✽