


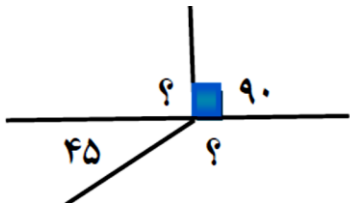
مدت آزمون: ۵۰ دقیقه دبستان امام حسین (ع) ۱۳	نام: _____ نام خانوادگی: _____	ریاضی پایه ی چهارم ابتدایی
--	-----------------------------------	-------------------------------

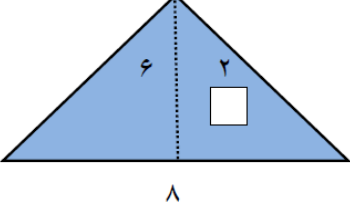
<input type="checkbox"/> نادرست <input type="checkbox"/> درست <input type="checkbox"/> نادرست <input type="checkbox"/> درست <input type="checkbox"/> نادرست <input type="checkbox"/> درست	الف) درستی و نادرستی عبارت های زیر را مشخص کنید. ۲ یک متوازی الاضلاع ویژگی های یک مستطیل را دارد. ۳ مجموع زاویه های داخلی دوزنقه ۲۷۰ درجه است. ۴ عدد ۵۷۰ بر ۳ و ۲ و ۵ بخش پذیر است.	۱ ۲ ۳ ۴
---	--	------------------

ب) در جاهای خالی عدد یا کلمه ی مناسب بنویسید. ۵ یک درجه ..... زاویه قائمه و ..... زاویه نیم صفحه است. ۶ برای نمایش تغییرات از نمودار ..... استفاده می کنیم. ۷ چهارضلعی که فقط دو ضلع موازی داشته باشد ..... نام دارد. ۸ در رابطه ی درستی تقسیم همیشه باقی مانده از ..... کوچک تر است. ۹ ثلث یک ساعت ..... دقیقه است.	۵ ۶ ۷ ۸ ۹
---	-----------------------

$4 \times \frac{2}{10} - \frac{1}{5} =$	حاصل عبارت های زیر را به دست آورید. $\frac{19}{100} + \frac{3}{50} =$	۱۰
---	--	----

زاویه ۴۵ درجه <input type="checkbox"/> ثلث زاویه ی قائمه	مقایسه کنید. ۱۲۴ دقیقه <input type="checkbox"/> ۲ ساعت و ۴ دقیقه $2\frac{1}{2} \square 2\frac{4}{5}$	۱۱
--	--	----

	اندازه ی زاویه های خواسته شده را بنویسید. 	۱۲
---	---	----

	مساحت قسمت رنگی را به دست آورید.	۱۳
---	----------------------------------	----

تقسیم مقابل را حل کنید و رابطه ی درستی آن را بنویسید.

$$471 \overline{) 39}$$

۱۴

۲۵ جعبه سیب داریم. در هر جعبه ۶۸ عدد سیب است. می خواهیم تمام سیب ها را در ۲۰ جعبه ی کوچک تر بسته بندی کنیم. در هر جعبه چند سیب قرار می گیرد؟

۱۵

با توجه به جدول زیر، نمودار خط شکسته ی قیمت پسته را رسم کنید.

۱۶

ماه	مهر	آبان	آذر	دی	بهمن	اسفند
قیمت	۱۵۰۰۰	۱۲۰۰۰	۱۸۰۰۰	۱۹۰۰۰	۱۴۰۰۰	۱۸۰۰۰



الف) در کدام ماه پسته بیشترین قیمت را داشته است؟  
ب) در کدام ماه ها بیشترین تغییر را داشته است؟

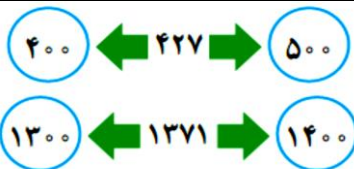


از یک طناب ۴۹ متری  $\frac{1}{6}$  متر جدا کرده ایم. چند متر از طناب باقی مانده است؟

۱۷

عددهای داده شده با تقریب رقم صدگان به کدام عدد نزدیک تر هستند.

۱۸



– اشکان در ساعت ۳۵:۱۰ دقیقه به پارک رفت. او ۱۰۰ دقیقه در پارک بود. چه ساعتی به خانه برگشت؟

۱۹

