

بسمه تعالی

مدرسه:

کلاس:

آزمون مطالعات اجتماعی هشتم دوره اول متوسطه تاریخ:

(پایانی - از اول کتاب تا پایان درس ۲۴) مدت آزمون:

نام و نام خانوادگی:

۱	<p>درستی یا نادرستی هر عبارت را مشخص کنید.</p> <p>الف) از اوایل قرن چهارم تا اواخر قرن هفتم هجری، سه سلسله ترک تبار در ایران حکومت کردند. درست <input type="checkbox"/> نادرست <input type="checkbox"/></p> <p>ب) حکومت شیعه مذهب آل بویه را طغرل سلجوقی برانداخت. درست <input type="checkbox"/> نادرست <input type="checkbox"/></p> <p>ج) خواجه نظام الملک وزیر آل بویه ارسلان و ملکشاه بود. درست <input type="checkbox"/> نادرست <input type="checkbox"/></p> <p>د) صلاحیت داوطلبان انتخابات ریاست جمهوری توسط مجلس تأیید می شود. درست <input type="checkbox"/> نادرست <input type="checkbox"/></p>
۲	<p>عبارت‌های زیر را با کلمات مناسب کامل کنید.</p> <p>الف) هنگامی که حکومت سامانیان به نهایت ضعف و ناتوانی رسید، که حاکم غزنه بود، خراسان را تصرف کرد.</p> <p>ب) مهم‌ترین کتابی که خواجه رشیدالدین فضل الله نوشت نام داشت.</p> <p>ج) حکومت تیموریان سرانجام با ظهور حکومت در ایران از میان رفت.</p> <p>د) به اموال و دارایی‌هایی که می شود موقوفات گفته می شود.</p>
۳	<p>۱-۳. کدام یک از سلسله‌های زیر ترک تبار نیست؟</p> <p>الف) غزنویان <input type="checkbox"/> سلجوقیان <input type="checkbox"/> طاهریان <input type="checkbox"/> خوارزمشاهیان <input type="checkbox"/></p> <p>۲-۳. خلیفه عباسی لقب «سلطان رکن الدین» را به چه کسی داد؟</p> <p>الف) سلطان مسعود <input type="checkbox"/> آل بویه <input type="checkbox"/> ملکشاه <input type="checkbox"/> طغرل <input type="checkbox"/></p> <p>۳-۳. کدام حکومت قدرت و عظمت خود را با سیاست و کفایت وزیران ایرانی به دست آورد؟</p> <p>الف) غزنویان <input type="checkbox"/> خوارزمشاهیان <input type="checkbox"/> آل بویه <input type="checkbox"/> سلجوقیان <input type="checkbox"/></p> <p>۴-۳. گنبد سلطانیه را چه کسی به عنوان آرامگاه خود بنا کرد؟</p> <p>الف) خواجه رشیدالدین فضل الله <input type="checkbox"/> ب) الجاتیو <input type="checkbox"/> ج) سلطان جلال الدین <input type="checkbox"/> د) غازان خان <input type="checkbox"/></p>
۴	<p>گزینه‌های درست را به یکدیگر وصل کنید. (در سمت چپ یک گزینه اضافی است).</p> <p>الف) عمیدالملک کندی وزیر این پادشاه بود. امام محمد غزالی</p> <p>ب) از دانش آموختگان مدارس نظامیه بود. ابوسعید</p> <p>ج) آخرین ایلخان مغول که پس از مرگ او حکومت ایلخانان فروپاشید. خواجه نصیرالدین</p> <p>د) مشاور هلاکوخان بود که وی را تشویق به ساختن رصدخانه مراغه کرد. سعدی</p> <p style="text-align: right;">طغرل</p>

بسمه تعالی

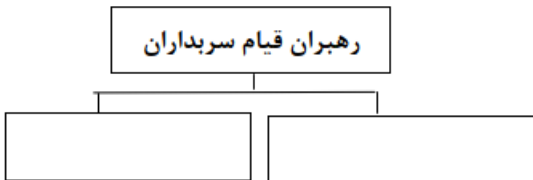
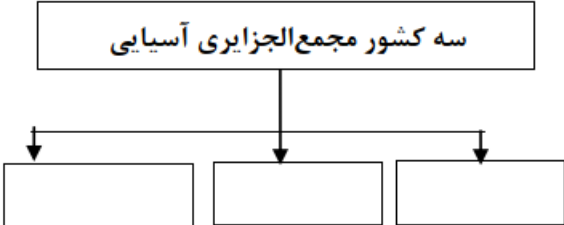



مدرسه:

کلاس:

نام و نام خانوادگی:

آزمون مطالعات اجتماعی هشتم دوره اول متوسطه تاریخ:

(پایانی - از اول کتاب تا پایان درس ۲۴) مدت آزمون:

<p>۵ نمودار زیر را تکمیل کنید.</p> 	<p>سه کشور مجمع‌الجزایر آسیایی</p> 	<p>۵</p>																														
<p>۶ جدول زیر را تکمیل کنید.</p>		<p>۶</p>																														
<table border="1"> <thead> <tr> <th>پاسخ</th> <th>توضیح</th> <th>ردیف</th> </tr> </thead> <tbody> <tr> <td></td> <td>پرآب ترین رودخانه دنیا که در آمریکای جنوبی قرار دارد.</td> <td>الف</td> </tr> <tr> <td></td> <td>قاره ی آسیا از طریق این کانال از قاره ی آفریقا جدا می شود.</td> <td>ب</td> </tr> <tr> <td></td> <td>رهبر مذهبی و روحانی پیروان این مذهب پاپ نام دارد که در واتیکان اقامت دارد.</td> <td>ج</td> </tr> <tr> <td></td> <td>نام بیابانی در آمریکای شمالی است.</td> <td>د</td> </tr> </tbody> </table>	پاسخ	توضیح	ردیف		پرآب ترین رودخانه دنیا که در آمریکای جنوبی قرار دارد.	الف		قاره ی آسیا از طریق این کانال از قاره ی آفریقا جدا می شود.	ب		رهبر مذهبی و روحانی پیروان این مذهب پاپ نام دارد که در واتیکان اقامت دارد.	ج		نام بیابانی در آمریکای شمالی است.	د	<table border="1"> <thead> <tr> <th>پاسخ</th> <th>توضیح</th> <th>ردیف</th> </tr> </thead> <tbody> <tr> <td></td> <td>پرآب ترین رودخانه دنیا که در آمریکای جنوبی قرار دارد.</td> <td>الف</td> </tr> <tr> <td></td> <td>قاره ی آسیا از طریق این کانال از قاره ی آفریقا جدا می شود.</td> <td>ب</td> </tr> <tr> <td></td> <td>رهبر مذهبی و روحانی پیروان این مذهب پاپ نام دارد که در واتیکان اقامت دارد.</td> <td>ج</td> </tr> <tr> <td></td> <td>نام بیابانی در آمریکای شمالی است.</td> <td>د</td> </tr> </tbody> </table>	پاسخ	توضیح	ردیف		پرآب ترین رودخانه دنیا که در آمریکای جنوبی قرار دارد.	الف		قاره ی آسیا از طریق این کانال از قاره ی آفریقا جدا می شود.	ب		رهبر مذهبی و روحانی پیروان این مذهب پاپ نام دارد که در واتیکان اقامت دارد.	ج		نام بیابانی در آمریکای شمالی است.	د	<p>۶</p>
پاسخ	توضیح	ردیف																														
	پرآب ترین رودخانه دنیا که در آمریکای جنوبی قرار دارد.	الف																														
	قاره ی آسیا از طریق این کانال از قاره ی آفریقا جدا می شود.	ب																														
	رهبر مذهبی و روحانی پیروان این مذهب پاپ نام دارد که در واتیکان اقامت دارد.	ج																														
	نام بیابانی در آمریکای شمالی است.	د																														
پاسخ	توضیح	ردیف																														
	پرآب ترین رودخانه دنیا که در آمریکای جنوبی قرار دارد.	الف																														
	قاره ی آسیا از طریق این کانال از قاره ی آفریقا جدا می شود.	ب																														
	رهبر مذهبی و روحانی پیروان این مذهب پاپ نام دارد که در واتیکان اقامت دارد.	ج																														
	نام بیابانی در آمریکای شمالی است.	د																														
<p>۷ حدس بزنید.</p> 	<p>الف) بیشتر مسلمانان اروپا در این شبه جزیره ساکن هستند.</p> <p>ب) پیروان آیین برهمنی و بودایی اغلب در این کشور قرار دارند.</p> <p>ج) شهری کهن در کشور فلسطین که خاستگاه پیامبران بزرگ بوده است.</p>	<p>۷</p>																														
<p>۸ چیستان؟</p> <p>الف) اسم من چیست؟ « من تو شبه جزیره ی عربستان به دنیا اومدم، طبع گرم و خشکی دارم طوری که کمتر کسی می تونه درمجاورت من زندگی کنه و ۶۴۰/۰۰۰ کیلومتر مربع یعنی ۲/۵ برابر کشور انگلستان وسعت دارم.»</p> <p>ب) اسم من چیست؟ « هم یه بیابون تو قاره ی استرالیا رو به اسم بنده نامگذاری کردن؛ هم یه آبشار تو قاره ی آفریقا رو ولی الان تو پیام های بازرگانی رادیو و تلویزیون شما می بینید که با اسم من برای چای تبلیغ می کنند.»</p>  		<p>۸</p>																														

بسمه تعالی

مدرسه:

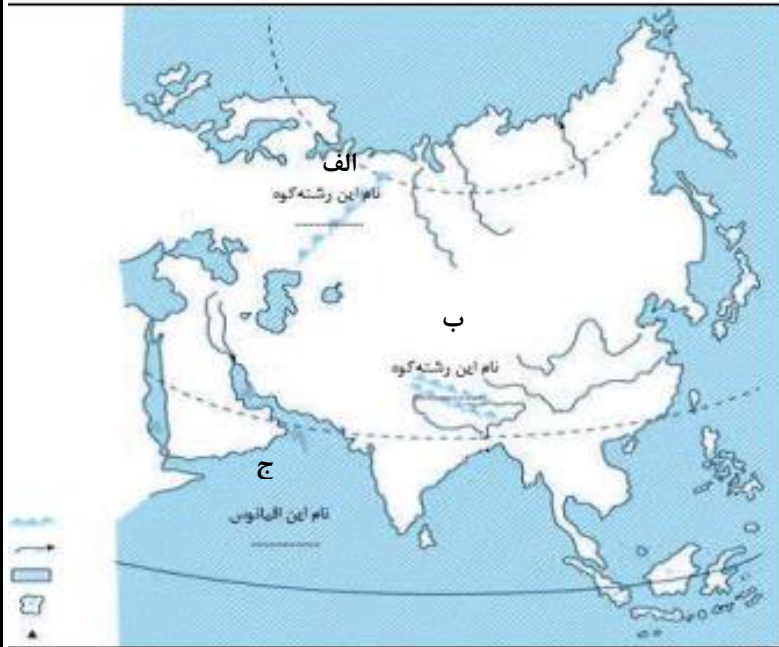
کلاس:

نام و نام خانوادگی:

آزمون مطالعات اجتماعی هشتم دوره اول متوسطه تاریخ:

(پایانی - از اول کتاب تا پایان درس ۲۴) مدت آزمون:

نقشه زیر را تکمیل کنید.

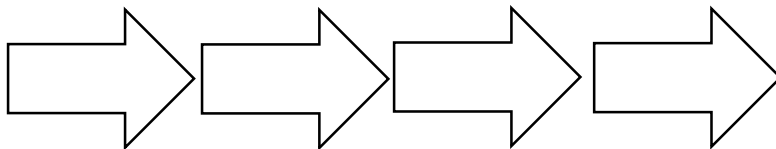


.....(الف)

.....(ب)

.....(ج)

۱۰ فلات های قاره ی آسیا از غرب به شرق به شرق نام ببرید؟



۱۱ دو سانحه طبیعی را که کشورهای مجمع الجزایری آسیا با آن مواجه اند را بنویسید.

۱۲ دو بندر مهم استرالیا که صنایع کشتی سازی و صنایع شیمیایی در آنها رونق دارد را بنویسید.

۱۳ چرا جنوب غربی آسیا منطقه پرتنش است ؟

بسمه تعالی

مدرسه:

کلاس:

نام و نام خانوادگی:

آزمون مطالعات اجتماعی هشتم دوره اول متوسطه

تاریخ:

(پایانی - از اول کتاب تا پایان درس ۲۴)

مدت آزمون:

۱۴ آب و هوای بری یا قاره ای چه ویژگی هایی دارد؟

۱۵ جنگ ملازگرد بین چه کسانی بود و نتیجه جنگ چه شد؟

۱۶ بودجه را تعریف کنید؟

بسمه تعالی

پاسخنامه

آزمون مطالعات اجتماعی هشتم دوره اول متوسطه

(پایانی - از اول کتاب تا پایان درس ۲۴)

- | | | | |
|----------------------|------------------|------------|-------------------------|
| ۱) الف (درست | ب) درست | ج) نادرست | د) نادرست |
| ۲) الف (ممدود غزنوی | ب) جوامع التاریخ | ج) صفویان | د) وقف |
| ۳) الف) گزینه ج | ب) گزینه د | ج) گزینه د | د) گزینه ب |
| ۴) الف) طغرل | ب) سعری | ج) ابوسعید | د) فواجه نصیرالدین طوسی |
- ۵) مجمع البزایر ژاپن، فیلیپین و اندونزی - شیخ فلیفه و شیخ حسن بوری
- ۶) الف) آموزون ب) سوئر ج) کاتولیک د) نوادا
- ۷) الف) شبه جزیره بالکان ب) کشور هند ج) قدس
- ۸) الف) بیابان بزرگ عربستان ب) ویکتوریا
- ۹) الف) رشته کوه های اورال ب) رشته کوه های هیمالیا ج) اقیانوس هند
- ۱۰) آنتاوتولی - ایران - تبت - مغولستان (به ترتیب از غرب به شرق)

۱۱) از آنجایی که این بخش از قاره آسیا از ناهمواری های جوان است، کوه های آتشفشانی زیادی در آنها مشاهده می شود. همچنین در این مناطق، زمین لرزه های بسیاری رخ می دهد. بنابراین کشورهایی که در این منطقه واقع شده اند، همواره در معرض بلایای طبیعی چون زمین لرزه، سونامی و فعال شدن کوه های آتشفشانی هستند.

۱۲) سیدنی و ملبورن

۱۳) بخش عمده ای از منابع انرژی مورد نیاز کشورهای صنعتی و راه های موم حمل و نقل دریایی در این منطقه واقع است. به همین دلیل این منطقه مورد توجه قدرت های بزرگ استکباری جهان است. البته در گذشته نیز دسترسی به آب های فلیچ فارس و اقیانوس هند، موضوعی موم برای کشورهای قدرتمند بوده و همواره بر سر این موضوع بایکدیگر به رقابت و تلاش می پرداخته اند. قدرت های استکباری با استفاده از نفوذشان بر حکومت های وابسته در منطقه و ایجاد جنگ های نیابتی موجب بروز تنش و بحران در منطقه می شوند. برفی از کشورها به شیوه پادشاهی، امپرنشین و موروثی اداره می شوند و مردم نقش مؤثری در حکومت ندارند. رژیم اشغالگر قدس (اسرائیل) با حمایت آمریکا و انگلیس علاوه بر سرکوب مردم مظلوم فلسطین و اشغال سرزمین های همسایه به توطئه و دشمنی با مسلمانان کشورهای منطقه می پردازد. آمریکا، انگلستان و برفی کشورهای سلطه گر برای حفظ منافع خود در منطقه، در کشورهای وابسته، پایگاه های نظامی ایجاد نموده و در این پایگاه ها، تسلیحات نظامی مفتلف انبار و نیروهای نظامی، مستقر کرده اند.

بسمه تعالی

پاسخنامه

آزمون مطالعات اجتماعی هشتم دوره اول متوسطه

(پایانی - از اول کتاب تا پایان درس ۲۴)

۱۴) در این نوع آب و هوا، زمستان ها بسیار سرد و تابستان ها بسیار گرم و خشک است.

۱۵) آلب ارسلان نبرد ملازگرد در سال ۴۶۳ ق رومیان را شکست سختی داد و امپراتور روم شرقی را به اسارت گرفت. در نتیجه این پیروزی، بخش های وسیعی از آسیای صغیر به تصرف سپاهیان سلجوقی درآمد.

۱۶) بودجه به زبان ساده یعنی پی شیبینی دخل و خرج دولت یا همان درآمدها و هزینه ها. بودجه سندی است که دولت در آن درآمدها و هزینه های یک کشور را لایحه بودجه برای یک سال، معین می کند. یکی از وظایف مهم دولت ها، تنظیم است.