










۱- هر جمله را به تصویر مناسب وصل کنید.

بارندگی در این جاها به صورت برف است.			گرمای آن آب ها را بخار می کند
آب آن ها به دریاها و اقیانوس ها می ریزد			از بخارهای آب ساخته می شود
در برگ های آن آب ذخیره می شود			برای آبیاری آن ها از آب استفاده می شود
ابرها را حرکت می دهد.			وقتی ابرها سرد می شوند، می بارد

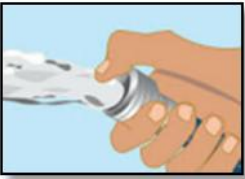
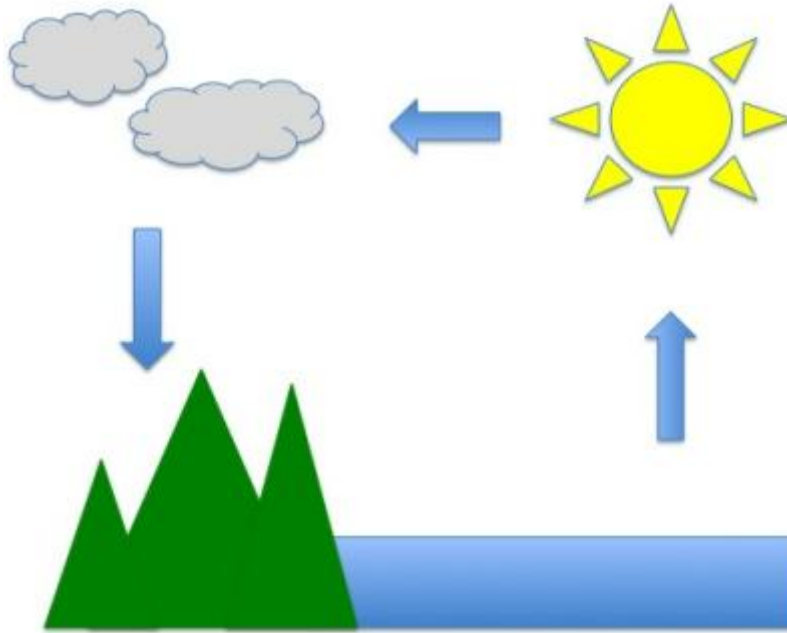
۲- در هر قسمت شکلی که مصرف درست آب را نشان می دهد، رنگ بزن



۳- بیشتر کره‌ی زمین چیست؟ رنگ بزنید



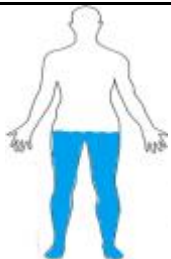
۴- تصویر زیر چرخه‌ی آب را نشان می‌دهد. جای بخار، باد و باران را روی شکل نقاشی کن.



۵- پدر سحر کارواش دارد. او برای صرفه جویی در مصرف آب از کدام استفاده می‌کند.



۶- کدام آب برای آشامیدن مناسب است؟



۷- بخش بزرگی از بدن انسان از آب تشکیل شده است. کدام شکل آب بدن انسان را بهتر نشان می‌دهد؟