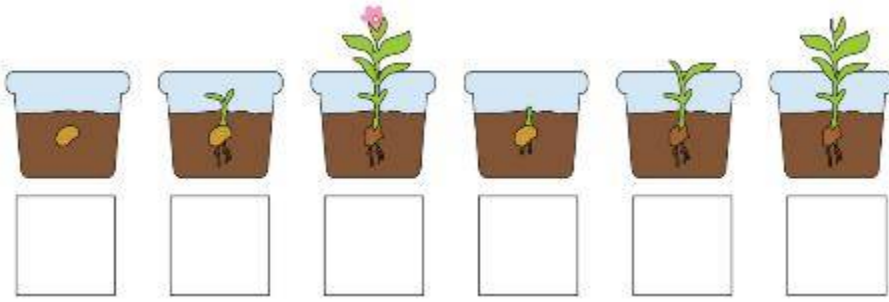


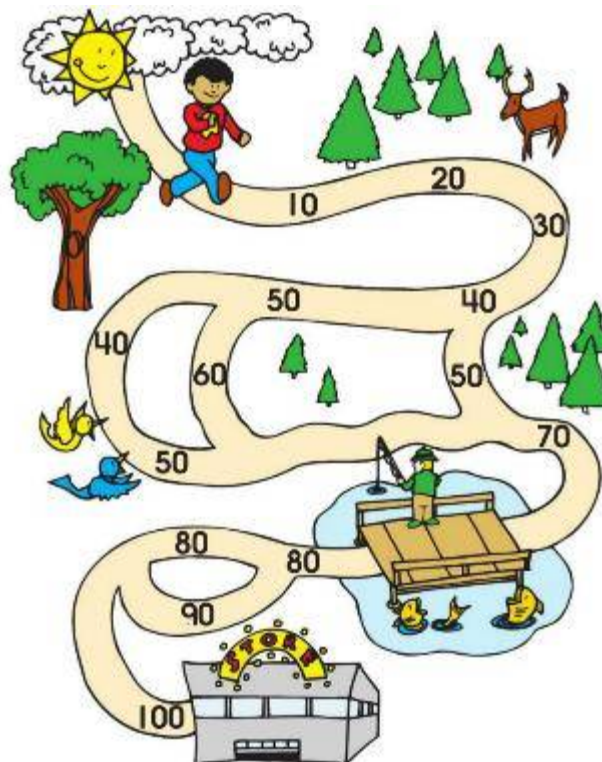
۱. ترتیب عکس‌های زیر به هم ریخته است. ترتیب عکس‌های زیر را با نوشتن اعداد مرتب کن.



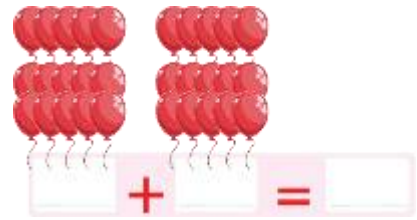

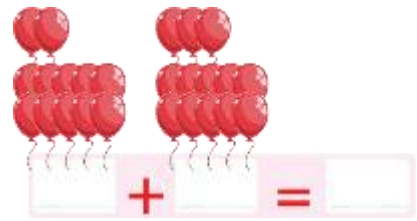

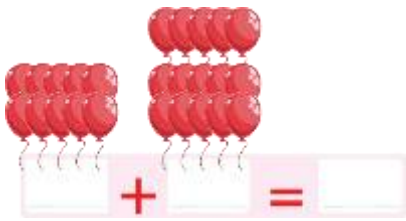
۲. عکس جنگل حیوانات بریده بریده شده و ترتیب آنها بهم خورده است. برش‌ها را به ترتیب اعداد مرتب کن.



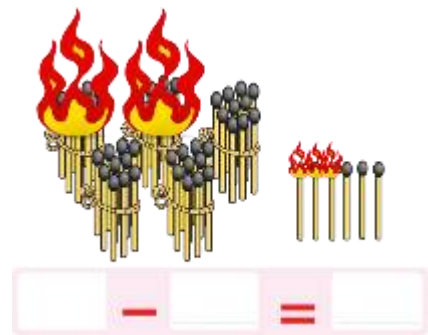

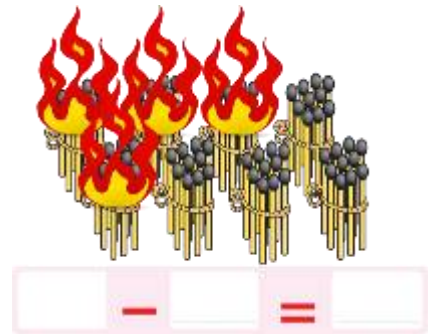
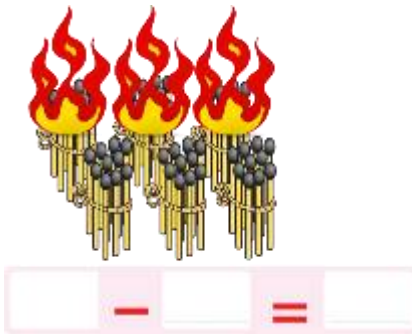
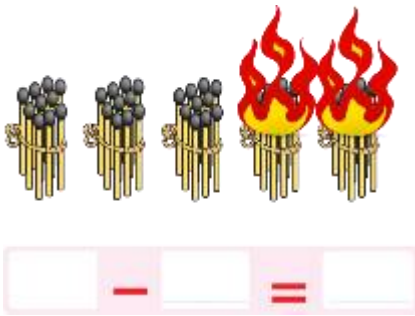
۳. روی اعداد ۱۰ تا ۱۰۰ تا جلو برو تا آقا پسر را به فروشگاه برسانی.



۴. برای هر یک از شکل‌های زیر یک جمع بنویس و حاصل را بدست بیاور.



۵. برای هر یک از شکل‌های زیر یک تفریق بنویس و حاصل را بدست بیاور.



۶. با توجه به شکل‌ها، جملات زیر را با اعداد مناسب پر کن.



- (الف) طول روبان تقریباً مداد و میخ است.
- (ب) طول طناب تقریباً مداد و میخ است.
- (ج) طول شمشیر تقریباً مداد و میخ است.
- (د) طول مسواک تقریباً مداد و میخ است.

۷. برای هر یک از موارد زیر نقاشی مناسبی بکش.

الف) یک ماهی که ۳ مداد طول دارد و یک کلید که کمی بیشتر از ۴ مداد طول دارد.



ج) یک ساندویچ با کلفتی ۱ گیره کاغذ و یک کبریت که کمی از ۲ گیره کاغذ کوتاهتر است.

۸. هر مسئله را هم با شکل و هم با محور نشان بده و جواب را پیدا کن.

۱



خرس مادر در کنار ۳ بچه اش در لانه زندگی می کنند. چند خرس در لانه زندگی می کند؟

۲



خرس بزرگ، ۹ زنبور را روی کندو دید. ۴ زنبور دیگر روی کندو نشستند. چند زنبور روی کندو وجود دارند؟

۳




در یک باغ وحش ۹ خرس سیاه، ۳ بچه خرس و ۶ خرس قطبی دیدم. من چند خرس دیدم؟

۴



خرس مادر ۶ ماهی گرفت. ۲ ماهی را به بچه اش داد و ۳ ماهی را خودش خورد. چند ماهی باقی مانده است؟

۵



خرس مادر ۱۰ کندو برای خوردن دارد و هر روز یک کندو را می خورد. بعد از یک هفته چند کندو باقی خواهد ماند؟

۶ خرس بزرگ ۵ بچه دارد.
روزی خرس بزرگ ۱۲ ماهی
شکار کرد. خودش ۲ ماهی و
هر بچه ۱ ماهی خورد. چند
ماهی باقی مانده است.

۷ خرس مادر روز اول ۱ ماهی،
روز دوم ۲ ماهی، روز سوم ۳
ماهی و روز چهارم ۴ ماهی
گرفت. او در این ۴ روز چند
ماهی گرفت؟

۸ ۲۰ زنبور در یک کندو زندگی
می کردند. روز اول ۲ زنبور،
روز دوم ۳ زنبور و روز سوم ۴
زنبور از کندو رفتند. چند زنبور
باقی مانده است؟

۹. جمع یا تفریق کن و علامت > یا < یا = را انتخاب کن.

	<			<			<			<		
	<			<			<			<		
	<			<			<			<		
	<			<			<			<		
	<			<			<			<		
	<			<			<			<		