
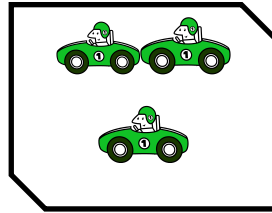






نام و نام خانوادگی:

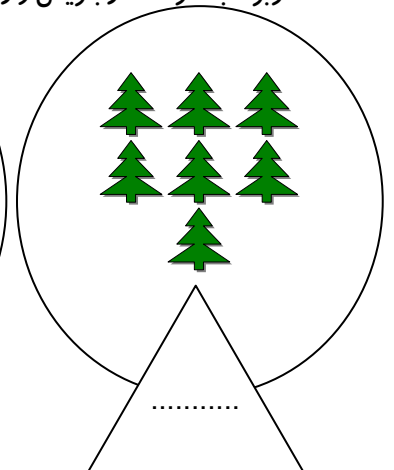
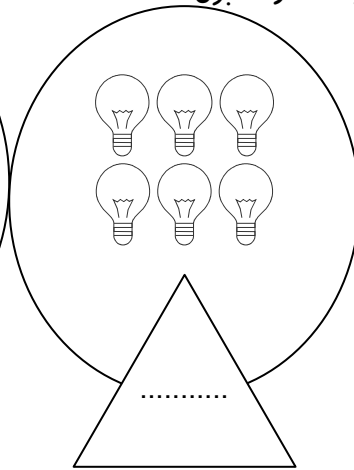
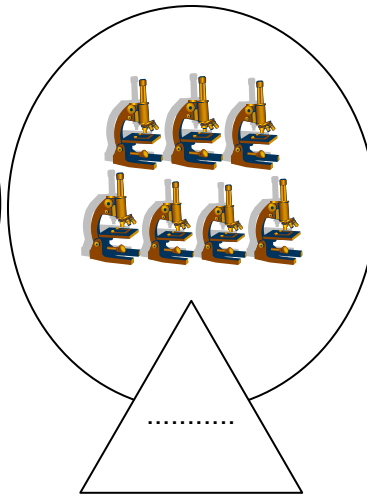
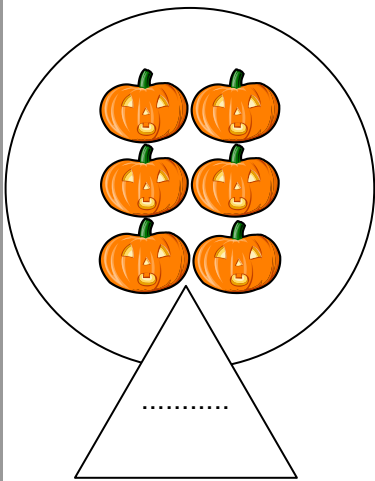
تم ۱۰ ریاضی کاربر منزل دبستان:

تاریخ:

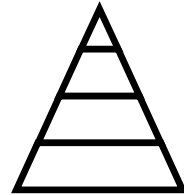
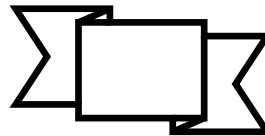
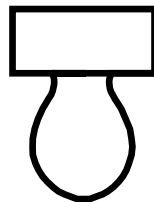

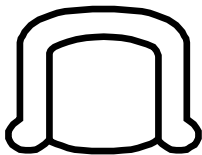
* تعداد شکل های سمت چپ و راست با هم چندتایی شوند؟ با چوب خط نشان بده و عدد آن را بنویس.




* عدد مربوط به هر دسته را بنویس و از خانه هارنگ بزن.



* کدام شکلها را می توانیم با خط کش از وسط خط بکشیم که دو نیمه ی مثل هم درست شود؟



* نیمه دیگر جدول را طوری کامل کن که مثل هم باشند.



*جدول های زیر را کامل کن.

۵	۶	۲	۳		۱
۳	۱	۴	۲	۶	۵
	۵	۶		۲	۳
۱	۲		۶		۴
۶	۳	۵	۴	۱	۲
۲		۱	۵		۶

۵	۴	۶	۱	۲	۳
۲		۳	۶		۵
	۳		۵		۲
۱		۵		۶	۴
۳	۶		۴	۵	
	۵		۲		۶

*در هر قسمت عدد دسته ها را بنویس و دسته ای که صدای بیشتری دارد صداها را رنگ بزن.

<p>پ پ پ</p> <p>پ پ پ</p> <p>○</p>	<p>آ آ آ</p> <p>آ آ</p> <p>○</p>	<p>د د</p> <p>د</p> <p>○</p>	<p>ه ه</p> <p>ه ه</p> <p>○</p>
<p>ت ت ت</p> <p>ت ت ت</p> <p>○</p>	<p>سی سی سی سی</p> <p>سی سی سی</p> <p>○</p>	<p>او او او</p> <p>او او</p> <p>○</p>	<p>و و و و</p> <p>○</p>

نظر آموزگار:

خسته نباشی عزیزم