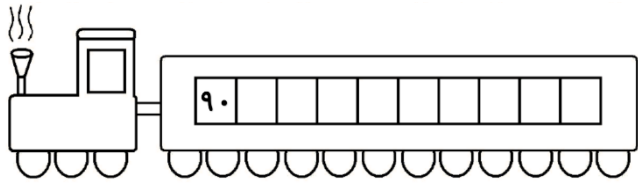
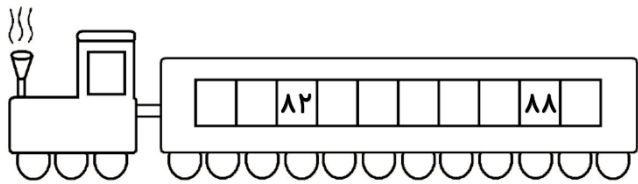



خدا زیباست و زیبایی را دوست دارد.



نام فرزند دلبندم:



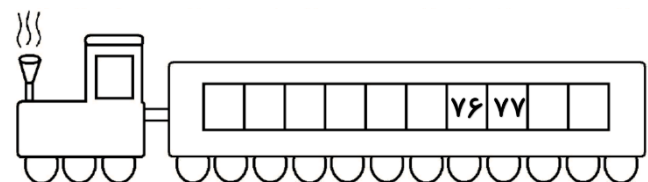
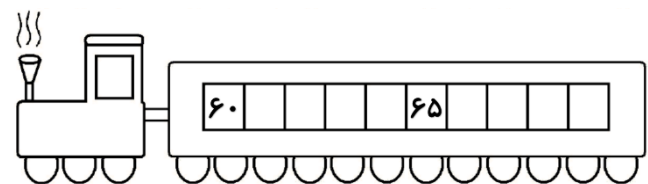
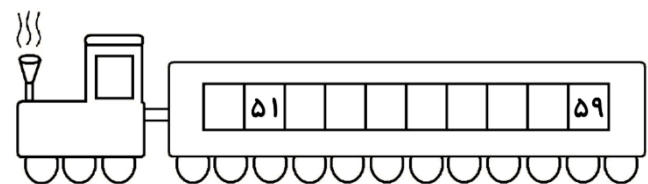
۱. ترتیب عکس‌های زیر به هم ریخته است. ترتیب عکس‌های زیر را با نوشتن اعداد مرتب کن.



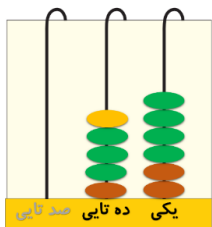
۲. مانند نمونه دسته بندی کن و تعداد را با عدد نشان بده.



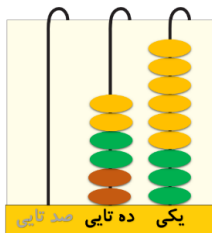
۳. جای خالی را با اعداد مناسب پر کن.



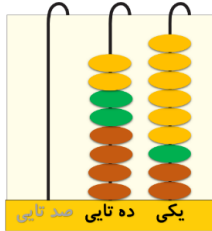
۴. مانند نمونه شکل را کامل کن و یک جمع بنویس و حاصل را بدست بیاور.



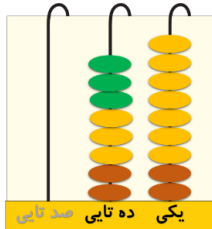
$$۱۲ + ۳۴ + ۱۰ = ۵۶$$



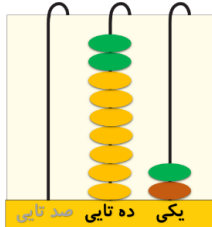
$$+ + =$$



$$+ + =$$



$$+ + =$$




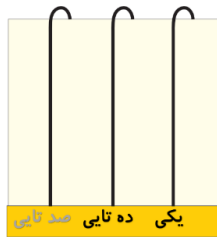
$$+ + =$$

خدا زیباست و زیبایی را دوست دارد.

نام فرزند دلبندم:




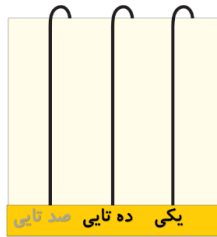
۴	۴	۶	۱۰	۱۴
۴	۶	۸	۱۰	۲۲
۸	۴	۱۰	۲۰	۲۰
۱۲	۱۰	۱۲	۱۲	۱۸
۱۴	۱۲	۱۴	۱۶	



$$۲۳ + ۲۳ + ۲۳ = \underline{\quad}$$




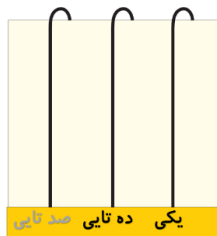
۵	۲	۴	۸	۸
۲	۴	۶	۶	۱۰
۴	۶	۱۲	۱۰	۱۲
۶	۸	۱۲	۱۲	۱۴
۱۴	۱۲	۱۴	۱۶	



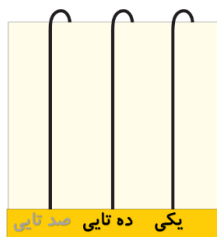
$$۷ + ۲ + ۴۱ = \underline{\quad}$$



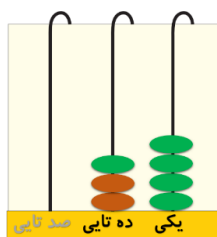
۱	۲	۵	۸	۸
۳	۵	۷	۹	۱۰
۵	۶	۹	۱۱	۱۲
۶	۸	۱۱	۱۲	۱۴
۷	۹	۱۳	۱۵	



$$۲۳ + ۳۲ + ۱۵ = \underline{\quad}$$




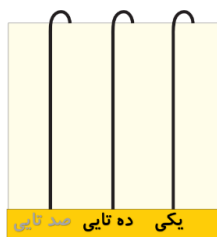
$$۸ + ۱۴ + ۹ = \underline{\quad}$$



$$\underline{\quad} + \underline{\quad} + \underline{\quad} = \underline{\quad}$$



۱۰	۱۲	۱۴	۸	۸
۱۲	۱۴	۱۶	۱۲	۱۰
۱۴	۱۲	۱۴	۱۲	۱۲
۱۶	۱۴	۱۶	۱۲	۱۴
۱۸	۲۰	۲۲	۲۴	



$$۱۹ + ۰ + ۲۵ = \underline{\quad}$$

۵. زیورک را از مسیری به گل برسان که اگر به سمت راست یا پایین حرکت کند ۲ تا اضافه شود و اگر به سمت چپ یا بالا حرکت کند ۲ تا کم شود. مسیر مناسب را رنگ کن.