

نام و نام خانوادگی : آزمون تم ۱۸ ریاضی

۱- فرزند نازنین الگوی عددی را ادامه بده

..... ، ..... ، ..... ، ۱۲ ، ۱۰ ، ۸

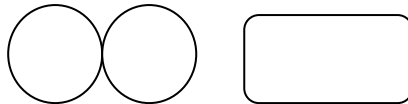


..... ، ..... ، ..... ، ۸ ، ۴ ، ۰






۲- گل زیبا با کمک چوب خط حاصل جمع را پیدا کن

$$9 + 8 = \dots\dots\dots$$



۳- کودک زرنگ با استفاده از دو رنگ مختلف رنگ بزن و حاصل جمع را پیدا کن

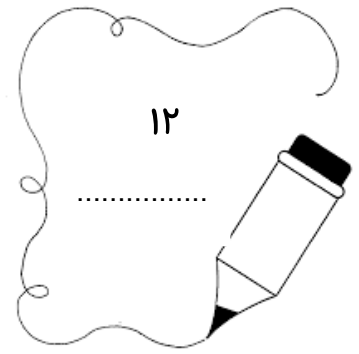
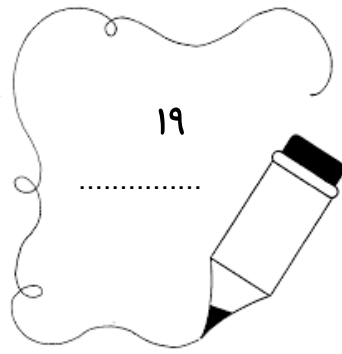
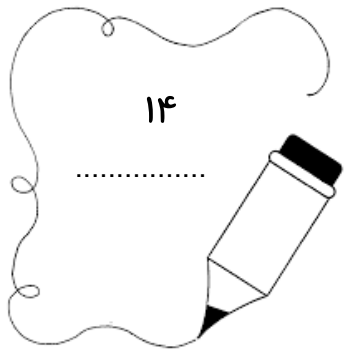


$$6 + 5 = \dots\dots\dots$$

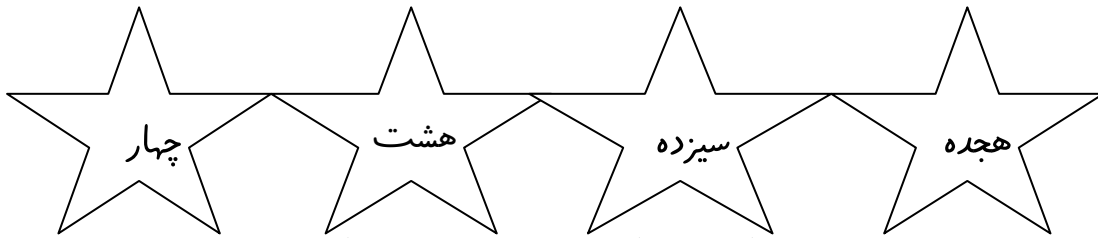
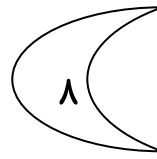
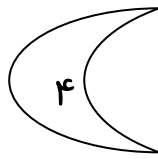
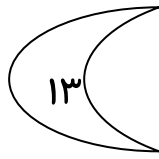
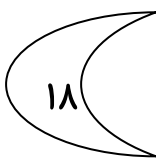
۴- فرزند دانا عددهایی که نوشته نشده را بنویس

۱	۲			۵	۶			۹
۱۱	۱۲		۱۴	۱۵			۱۸	



۵- کودک باهوش حروفی ( فارسی ) اعداد زیر را بنویس



۶- هر عدد را به اسمش وصل کن



۷- الگو را ادامه بده و درست راست شکلی که تکرار می شود را دوباره بکش



شکل ها را در طرف دیگر خط (خط تا) بکش

