

آزمون مداد و کاغذی







نام و نام خانوادگی دانش آموز :
کلاس اول ابتدایی

سوالات

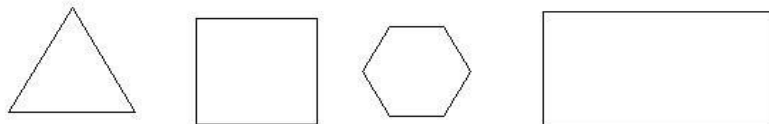
۱- مانند نمونه الگو را ادامه بده






۲- مهربانم جدول را کامل کن

۳- شکل های زیر از چند گوشه تشکیل شده؟ به تعدادشان چوب خط بکش.



۴- شکل های زیر را با شابلون بکش.

۵- به تعداد شکل های سمت راست و چپ چوب خط بکش



۸- به تعداد چوب خط ها از چینه های سمت چپ چوب بزنو به تعداد چینه های باقی مانده از چینه

های سمت راست رنگ کن

