


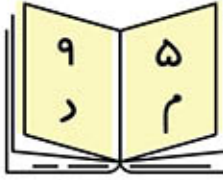














نام و نام خانوادگی:

تاریخ:

بازآورد	سؤالات	ردیف									
	<p>در هر قسمت دور عدد بیش تر خط بکش. حرف مربوط به آن را بنویس. سپس حرف ها را کنار هم بگذار و کلمه بساز.</p> <div style="display: flex; justify-content: space-around; align-items: center;"> <div style="text-align: center;">  <p>_____</p> </div> <div style="text-align: center;">  <p>_____</p> </div> <div style="text-align: center;">  <p>_____</p> </div> <div style="text-align: center;">  <p>_____</p> </div> </div> <p style="text-align: center; margin-top: 20px;">کلمه ی ساخته شده: _____</p>	۱									
	<p>با توجه به جدول سمت چپ، در جاهای خالی عدد مناسب بنویس.</p> <div style="display: flex; justify-content: space-around; align-items: center;"> <table border="1" style="border-collapse: collapse; text-align: center; width: 150px; height: 150px;"> <tr><td>۱</td><td>۲</td><td>۳</td></tr> <tr><td>۴</td><td>۵</td><td>۶</td></tr> <tr><td>۷</td><td>۸</td><td>۹</td></tr> </table> <div style="text-align: center;">  </div> <div style="text-align: center;">  </div> <div style="text-align: center;">  </div> </div> <div style="text-align: center; margin-top: 20px;">  </div>	۱	۲	۳	۴	۵	۶	۷	۸	۹	۲
۱	۲	۳									
۴	۵	۶									
۷	۸	۹									
	<p>دو تا بیش تر از هر عدد را کنارش بنویس.</p> <div style="display: flex; justify-content: space-around; align-items: center;"> <div style="text-align: center;">  <p>→</p>  </div> <div style="text-align: center;">  <p>→</p>  </div> </div> <div style="display: flex; justify-content: space-around; align-items: center; margin-top: 20px;"> <div style="text-align: center;">  <p>→</p>  </div> <div style="text-align: center;">  <p>→</p>  </div> </div>	۳									
	<p>در مربع های زیر طوری علامت « + » و « - » بگذار که حاصل عبارت صحیح باشد.</p> <div style="display: flex; justify-content: space-around; align-items: center;"> <div style="text-align: center;"> $۴ \square ۳ \square ۲ \square ۱ = ۸$ </div> <div style="text-align: center;"> $۳ \square ۳ \square ۲ \square ۲ = ۶$ </div> </div> <div style="display: flex; justify-content: space-around; align-items: center; margin-top: 20px;"> <div style="text-align: center;"> $۱۰ \square ۵ \square ۴ \square ۱ = ۱۰$ </div> <div style="text-align: center;"> $۵ \square ۵ \square ۳ \square ۲ = ۹$ </div> </div>	۴									

۵ مربع شگفت انگیز زیر را کامل کن.

۲	—	۱	۴	۳	۶
۳	۶	۴	—	۵	۱
—	۲	۳	۶	۴	۵
۶	۴	۵	۳	۱	—
۴	۱	—	۵	۶	۳
۵	—	۶	۱	—	۴

۶ مانند نمونه عمل کن.

۲ دسته ی ۴ تایی برابر است با ۱ دسته ی ۵ تایی و ۳ تایی



۲ دسته ی ۵ تایی برابر است با ۳ دسته ی ۳ تایی و — تایی

۴ دسته ی ۲ تایی برابر است با ۲ دسته ی ۳ تایی و — تایی

۷ در قسمت بالا خانه های Δ را قرمز و خانه های \circ را زرد کن و طرف دیگر خط وسط (تقارن) را شیبه بالا رنگ بزن. به طوری که اگر از وسط آن را تا کنیم خانه های مثل هم روی هم بیفتند.

Δ				Δ	\circ	\circ	\circ	Δ				Δ
\circ	\circ		Δ		Δ		Δ		Δ		\circ	\circ
\circ		Δ			\circ	Δ	\circ			Δ		\circ

بازآورد نهایی آموزگار

محل امضای ولی دانش آموز