



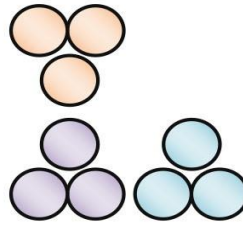
جایهای خالی را با عدد مناسب کامل کن.



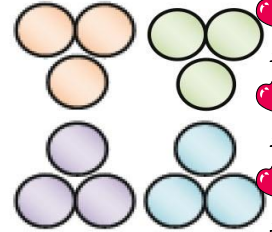
.....



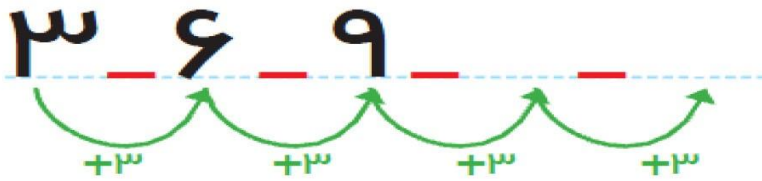
.....



.....



.....



۳ تا بعد از ۶ می شود

۳ تا بعد از ۹ می شود

۳ تا بعد از ۱۲ می شود

یک شکل سه خانه ای در نظر بگیر و ادامه بده.

در جای های خالی عدد مناسب بنویس.



.....



.....




.....



.....

.....



عددہا را با چوب خط نشان بده و عبارت جمع را بنویس.

$$\square + \square = \square$$

$$9 + 9 = \square$$

$$\square + \square = \square$$

$$7 + 6 = \square$$

$$\square + \square = \square$$

$$5 + 12 = \square$$

$$\square + \square = \square$$

$$8 + 9 = \square$$

