

پایه ی اول

به نام خدای خوب

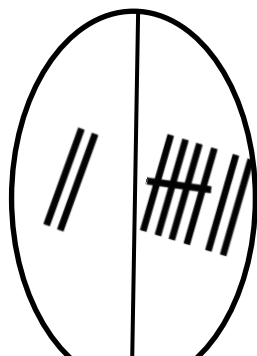


تکلیف  
ریاضی  
تم ۱۳

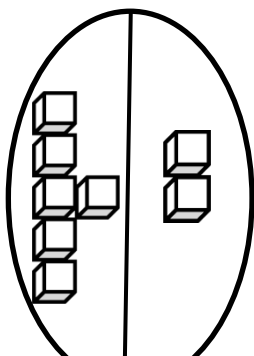
نام زیبای من: .....

تاریخ: .....

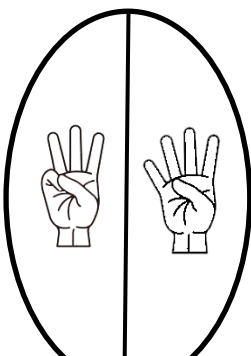
۱- برای شکل های زیر جمع بنویس.




$۲ + ۷ =$




.....



.....

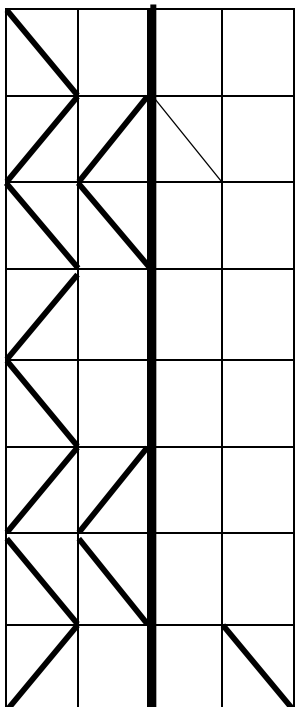


.....




.....

۲- ابتدا مربع شگفت انگیز را کامل کن و سپس درجدول سمت چپ خانه ها را طوری کامل کن که دو نیمه مثل هم باشند.

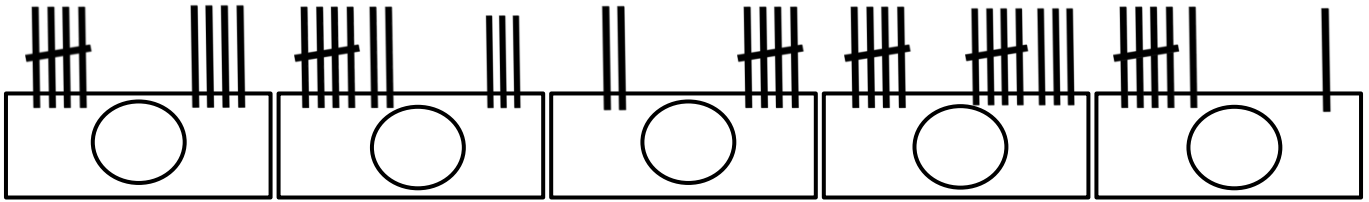


|   |   |   |   |   |   |   |   |   |
|---|---|---|---|---|---|---|---|---|
| ۸ | ۷ | ۴ | ۵ |   | ۲ | ۳ | ۶ | ۱ |
| ۶ |   | ۱ | ۳ | ۷ | ۴ | ۸ |   | ۹ |
| ۳ | ۵ |   | ۸ | ۱ | ۶ |   | ۴ | ۲ |
| ۹ | ۶ | ۷ | ۴ | ۲ | ۵ | ۱ | ۸ | ۳ |
|   | ۳ | ۵ |   | ۸ |   | ۴ | ۲ |   |
| ۲ | ۴ | ۸ | ۷ | ۳ | ۱ | ۵ | ۹ | ۶ |
| ۴ | ۹ |   | ۱ | ۵ | ۳ |   | ۷ | ۸ |
| ۵ |   | ۳ | ۹ | ۶ | ۷ | ۲ |   | ۴ |
| ۷ | ۱ | ۶ | ۲ |   | ۸ | ۹ | ۳ | ۵ |

۳- دور عددهای بیشتر از ۶ خط بکش.



۴- برای چوب خط ها عدد بنویس و بین دو عدد علامت کمتری یا بیشتری (<) بگذار.



۵- بین اعداد به طور مناسب علامت کمتری یا بیشتری (>) قرار بده.

۱ ○ ۴      ۲ ○ ۵      ۸ ○ ۱      ۴ ○ ۳      ۶ ○ ۳

۶- حاصل جمع های زیر را با کمک رنگ کردن چینه ها به دست آورید. ( عدد اول، رنگ آبی - عدد دوم قرمز)



$$۵ + ۳ = \bigcirc$$



$$۲ + ۵ = \bigcirc$$




$$۴ + ۴ = \bigcirc$$




$$۶ + ۳ = \bigcirc$$

۷- از ۰ تا ۹ به ترتیب بنویس.



۸- الگوهای زیر را ادامه بده.



بازخورد آموزگار



خود سنجی

