
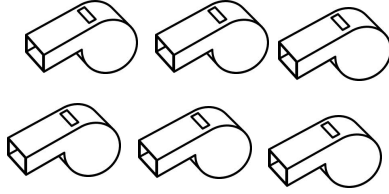



به نام خدا

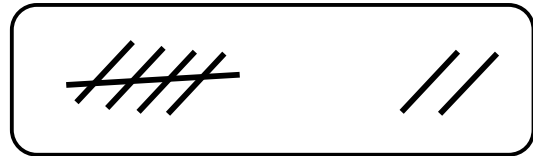

آزمون ریاضی پایه اول تم ۱۱

نام و نام خانوادگی

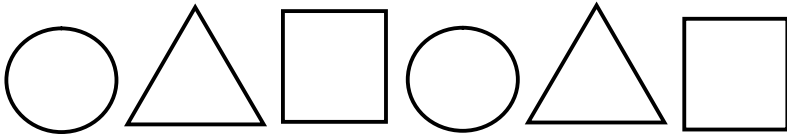


۱ - عدد هر دسته را بنویس .


۲ - عدد دسته را بنویس . اگر تعداد دو طرف برابر بود علامت مساوی = بگذار .




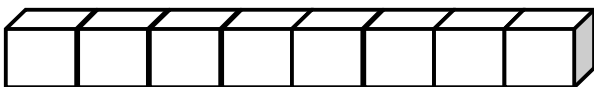
۳ - با شابلون الگو را ادامه بده .



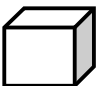
۴ - طرف دیگر شکل را کامل کن .







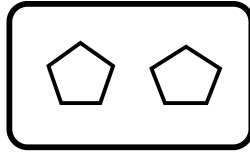
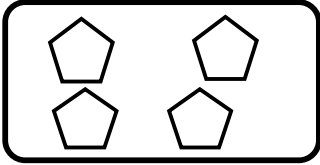
۵ - اندازه ی مداد برابر با چند چینه است ؟ ( با چوب خط و عدد )



.....





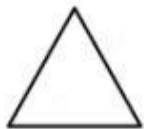

۶ - شکل های هر دو دسته روی هم چند تا می شود ؟ (با چوب خط و عدد)



۷ - جدول را کامل کن .

۲	۶		۴	۵	۱
۱	۴	۵		۳	۲
۳		۴	۲	۶	۵
۶	۵	۲	۳	۱	
۵		۶	۱		۳
	۳	۱		۲	۶

۸ - خط تقارن شکل های روبه رو را رسم کن .



ضعیف



متوسط



خوب



عالی