

تاریخ:

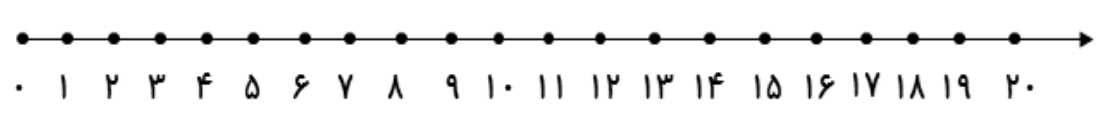
نام زیبای من:

۱- ابتدا با چوب خط حاصل جمع هر شکل را پیدا کن. سپس جمع مربوط به آن را بنویس.

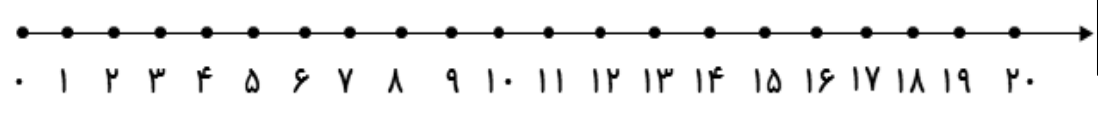
----- + ----- + ----- = -----			
----- + ----- + ----- = -----			
----- + ----- + ----- + ----- = -----			

----- + ----- + ----- = -----		

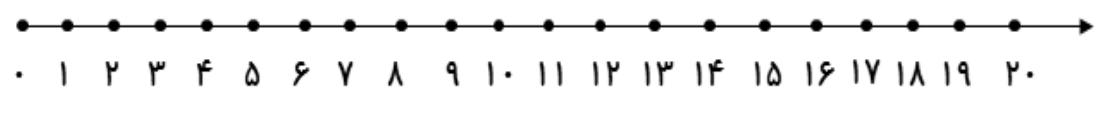
۲- جمع و تفریق های زیر را روی محور نشان بده، سپس جواب آن ها را بنویس.



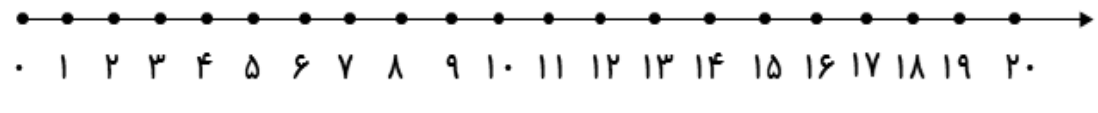
$9 + 7 = \text{-----}$



$3 + 7 + 5 = \text{-----}$




$10 - 7 = \text{-----}$



$9 - 3 = \text{-----}$

۳- حاصل جمع های زیر را با چوب خط حساب کن و بعد علامت کمتری و بیشتری یا مساوی بگذار.

$$۲ + ۱ + ۴ =$$



$$۱ + ۳ + ۳ =$$

$$۴ + ۲ + ۲ =$$

$$۳ + ۳ + ۲ =$$


$$۰ + ۲ + ۳ =$$

$$۲ + ۰ + ۱ =$$

$$۳ + ۶ + ۱ =$$


$$۲ + ۳ + ۵ =$$

۴- جمله ها را با نوشتن عدد مناسب کامل کن.



بلندی درخت بین تا است.

بلندی گل بین تا است.

بلندی هویج بین تا است.

۵- به نشانه های نقطه دار کلمات زیر دقت کن و برای هر کدام یک جمع بنویس.

گنجشک

نشستند

باز خورد آموزگار

خود سنجی

