




در جاهای خالی عدد مناسب بنویس.



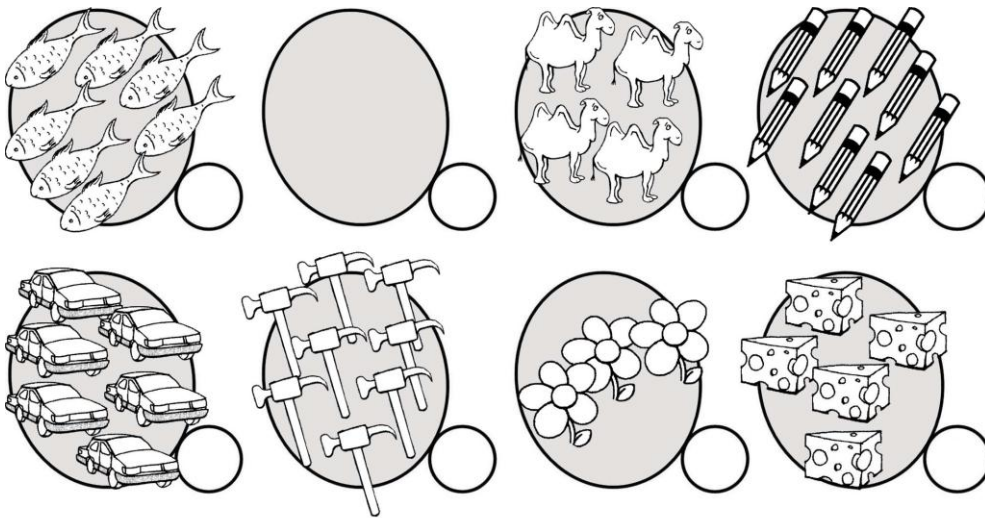
..... - =

..... - =

تفریق هایی که جواب آنها در سیب نوشته شده رنگ کنید.



عدد هر دسته را بنویس.



نظر معلم پس از پایان فعالیت:

مقیاس ها	خیلی خوب	خوب	قابل قبول	نیاز به تلاش بیشتر
۱- در جاهای خالی عدد مناسب را نوشته است.				
۲- تفریق های متناسب با عدد مورد نظر را به درستی شناسایی کرده است				
۳- عدد مربوط به هر دسته را به درستی نوشته است.				

باز خورد :