

به نام خدا

آزمون ریاضی تا پایان تم ۱۸

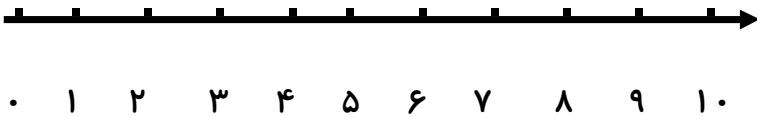
نام و نام خانوادگی

۱- با محور اعداد، جمع و تفریق کن.

$$۵ + ۳ = \square$$



$$۲ + ۳ + ۴ = \square$$



$$۹ - ۳ = \square$$



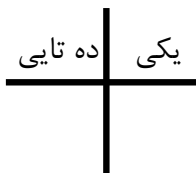
۲- پاسخ جمع ها را با چوب خط به دست بیاور.

$$۲ + ۶ + ۴ = \square$$

$$۱۳ + ۵ = \square$$

۳- برای چوب خط در جدول و خارج آن عدد بنویس.

/



با رقم

با حروف

۴- جاهای خالی را به طور مناسب بنویس .

هشت		دوازده		نوزده		یازده	
	۶		۱۳		۱۷		۱۵

۵- علامت مناسب $< = >$ بنویس .

$۸ \quad ۱۴$

$۱۹ \quad ۱۸$

$۵ \quad ۷$

$۱۶ \quad ۱۲$

۶- جواب جمع و تفریق ها را بنویس .

$۱۰ - ۴ = \square$

$۵ + ۴ = \square$

$۱۰ + \square = ۱۶$

$۵ + \square = ۱۰$

$۱۰ + ۳ = \square$

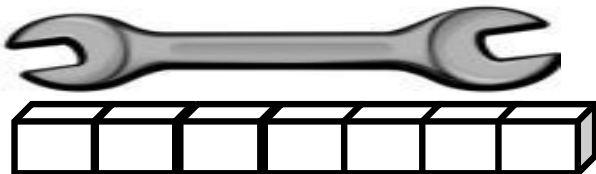
$۸ - ۸ = \square$

۷- دنباله ی اعداد نوشته شده را بنویس .

۲ - ۴ - ۶ - - - - -

۳ - ۶ - ۹ - - - -

۴ - ۸ - ۱۲ - - -



۸- بلندی آچار بین تا چینه است .

ضعیف

متوسط

خوب

عالی

بازخورد توصیفی آموزگار: