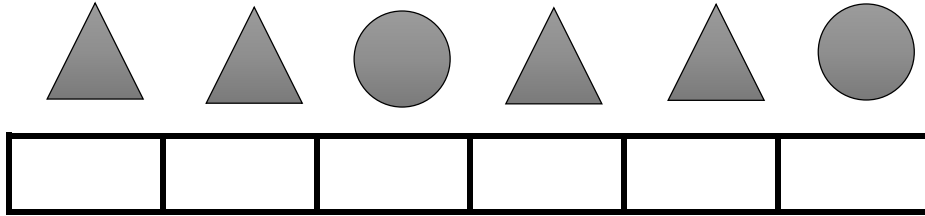




سوالات

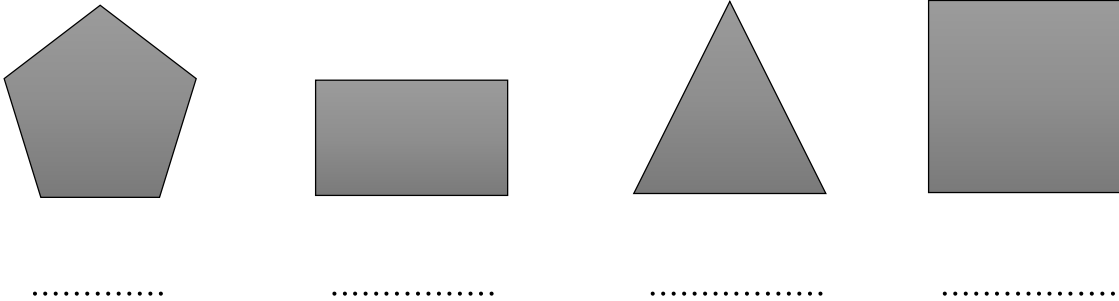
ردیف

الگوی استفاده شده در شکل‌ها را با رنگ کردن خانه‌های زیر آن ادامه بده.




۱

هر شکل چند گوشه دارد؟ روی نقطه‌چین‌های زیر آن با عدد بنویس.



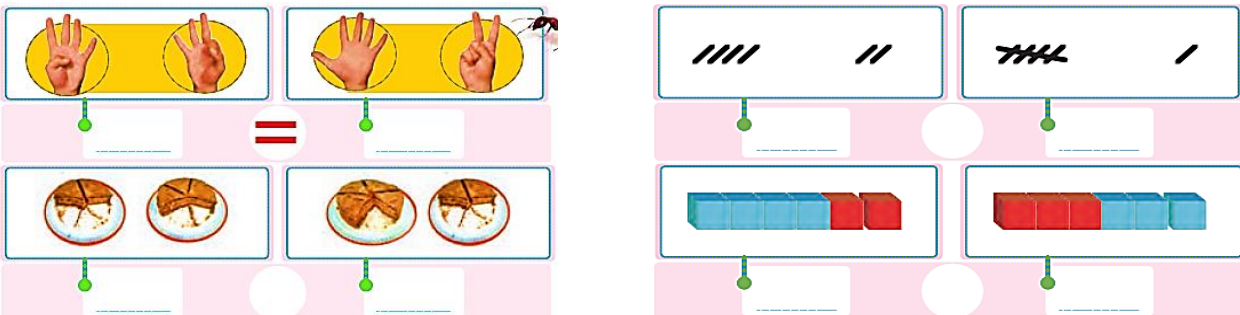
۲

شکل‌های سمت چپ و سمت راست روی هم چندتا می‌شود؟ با یک عدد نشان بده.



۳

عدد هر قسمت را بنویس و بین آن‌ها علامت $=$ بگذار.



۴


دو عدد پیدا کن که جمع آن‌ها برابر با عددی باشد که بالای ستون نوشته شده است.

۲	
۰	۲
۱	۱

۳	

۵

دسته‌های ده‌تایی درست کن و در جای خالی عدد مناسب بنویس.



یکی	
ده‌تایی	
.....

۶

حاصل عبارتهای زیر را بنویس.

$۳ + ۲ = \dots\dots$

$۵ + ۵ = \dots\dots$

$۵۰ + ۴۰ = \dots\dots$

$۸ - ۵ = \dots\dots$

۷

نظر والدین:

نظر معلم:

خ خ ق ق ن ت

اعداد را می‌شناسد و آن‌ها را به درستی مقایسه می‌کند.

مفهوم عدد و جمع و تفریق را به خوبی می‌داند.

شکل‌ها را می‌شناسد و الگو را به خوبی تشخیص می‌دهد.

دانش آموز:

با آرزوی موفقیت برای شما

تعداد سوالات: ۷