

پایه ی اول

به نام خدای خوب

دبستان

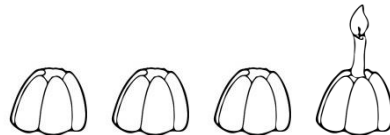



تکلیف ریاضی

تم ۸

نام زیبای من:

تاریخ:

۱- در هر ردیف چند کیک داریم؟ چند کیک شمع دارد؟ چند کیک بدون شمع مانده است؟ با چوب خط نشان بده.

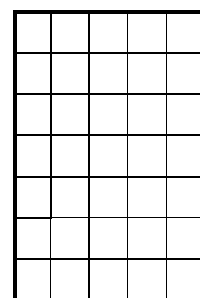



۲- مربع های شگفت انگیز را کامل کن.


۱	۳	۲	
۲			۳
۳			۱
	۱	۳	

۲	۱		۳
	۳	۱	۲
۳			۱
۱		۳	


۳- ابتدا الگوی زیر را توضیح بده و بعد ادامه بده. سپس الگویی را که پیدا کرده ای در سمت راست بکش.



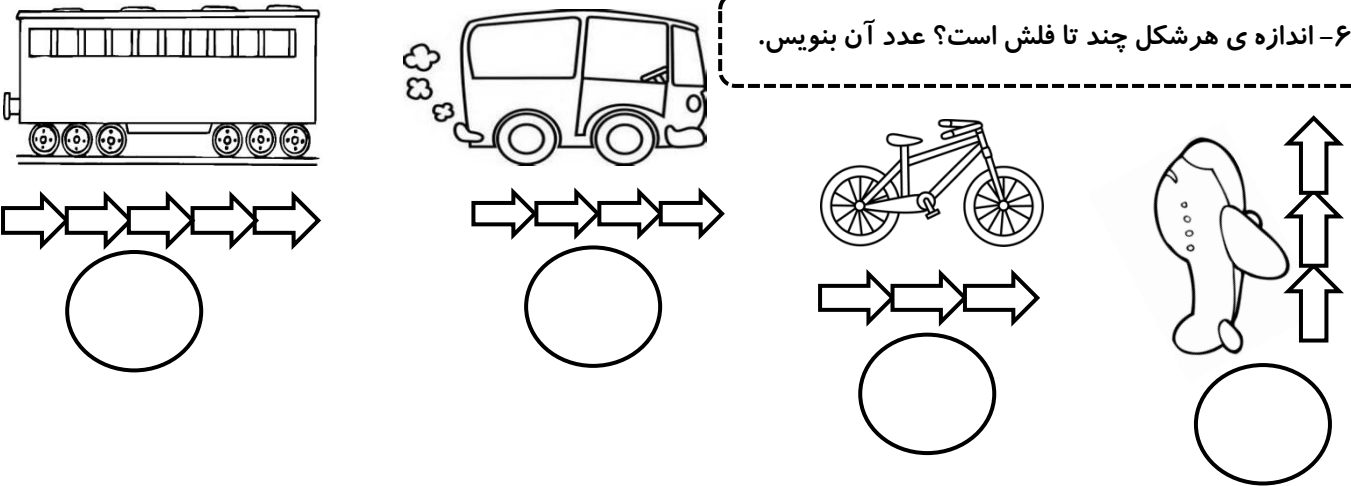
۴- شکل ها را رنگ بزن و عدد هر دسته را بنویس.



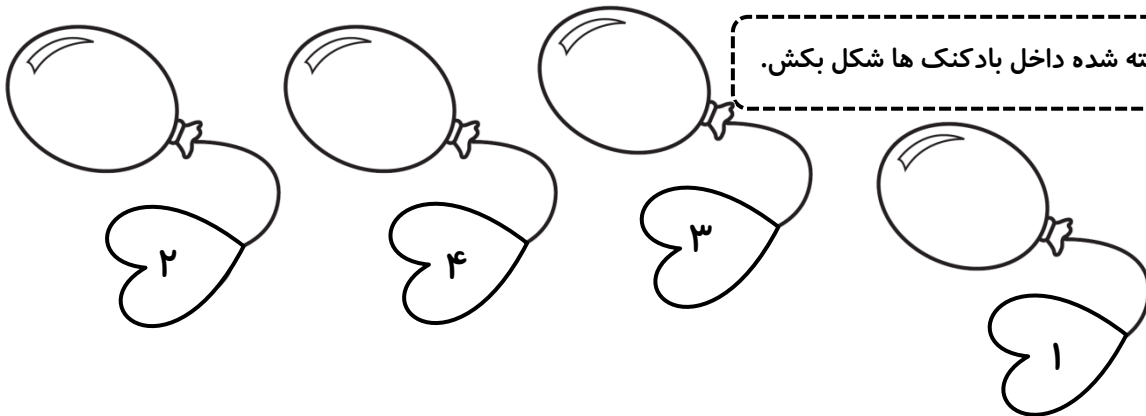
۵- دور عدد مناسب خط بکش.



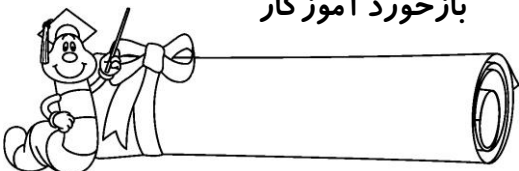
۶- اندازه ی هر شکل چند تا فلش است؟ عدد آن بنویس.



۷- برای عدد نوشته شده داخل بادکنک ها شکل بکش.



بازخورد آموزگار



خود سنجی

