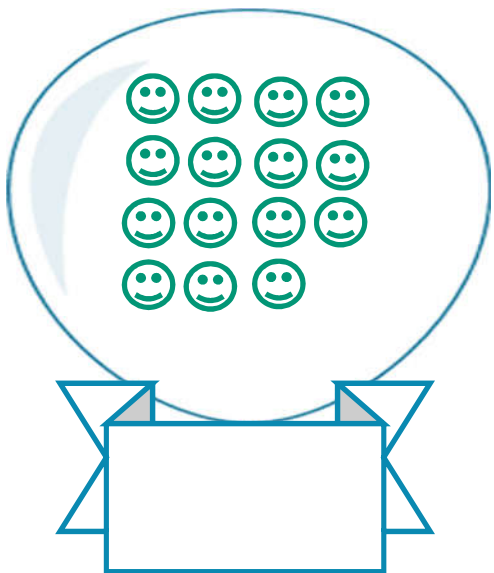


به نام خدای عشق

کاربرگ تم ۱۶

نام زیباییت:

پسرم دسته های ده تایی درست کن و هر شکل را با چوب خط نشان بده.



عزیزم ، بلندی گل کوتاه تر از است.



دلبندم اعداد قبل و بعد عدد داده شده را بنویس.




نازنینم دسته های ده تایی درست کن و عدد آن را بنویس.




پسرم اعداد روی محور را به ترتیب بنویس.



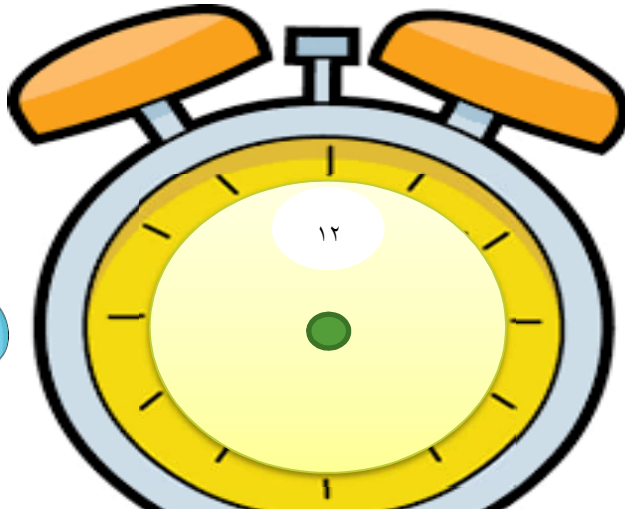
عزیز دلم دسته های ده تایی درست کن سپس در جدول قرار بده.



ده تایی	یکی



ده تایی	یکی



پسرم اعداد روی ساعت را بنویس.

موفق باشی