


به نام خدا

ارزشیابی مستمر ریاضی اردیبهشت ماه دبستان شهید غفور جدی (۲) ناحیه (۱) اردبیل

سال: ۱۳۹۵

نام و نام خانوادگی:

(۱) گل های زیر درخت را رنگ بزن و سمت راست درخت ۲ گل بکش.



(۲) جمع و تفریق های زیر را انجام بده.

$۸+۹=$

$۱۰+۲+۱۰=$

$۸۰-۴۰=$

$۵+۵+۴۰=$

$۹-۵=$

$۳۰+۴۰+۲۰=$

(۳) در جاهای خالی علامت $< > =$ بگذار.

$۴ \dots ۶$

$۰ \dots ۴$

$۸ \dots ۸$

$۹ \dots ۹$

$۸ \dots ۵$

$۱۰ \dots ۹$

(۴) الگو های زیر را ادامه بده.

.....-.....-.....-.....-.....-.....-.....-.....- ۳۵-۴۰

.....-.....- ۲۵-۳۵-.....-.....-.....-.....

(۵) در جاهای خالی کلمه های مناسب قرار بده. (سنگین تر، سبک تر)

هندوانه از سیب است.

مداد از کتاب است.


(۶) از ۳۲ تا ۴۵ بنویس.

.....

۷) با عدد یا حروف بنویس.

۵۳	چهارده	هشتاد و سه	۴۱	بیست و هفت	۹۹
۷۲	۱۱	هفتاد و پنج	سی و دو		

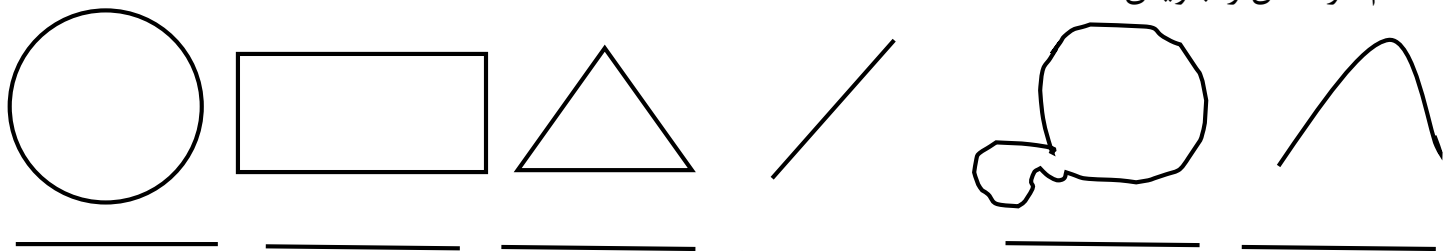
۸) برای شکل زیر دو جمع بنویس



.....+.....=

.....+.....=

۹) نام هر شکل را بنویس.



۱۰) جاهای خالی را کامل کن.

۱ ده تایی و ۶ یکی می شود.....

۱۰ می شود ده تایی و یکی

۷ ده تایی می شود.....

۵۰ می شود ده تایی

۳۵ می شود..... یکی و..... ده تایی

۱۱) ۹ مرغابی در آب بودند. ۳ تا از آن ها از آب بیرون آمدند. حالا چند مرغابی در آب مانده است؟ با شکل نشان بده و عبارت آن را بنویس.

طراح: سهراب شکرانه ننه کرمان