


سؤالات امتحانات داخلی - در شهرستان		ملاير	دی ماه 1400
سؤالات امتحان درس : ریاضی		تاریخ امتحان:	13 98 / 10 / 15
نام و نام خانوادگی :		مدت امتحان :	90 دقیقه
پایه: ششم		ساعت شروع :	10:30 صبح
نام آموزشگاه : دبستان دخترانه معین اندیشه			

ردیف	سؤالات
------	--------

1	<p>پاسخ صحیح یا غلط را با علامت (x) مشخص کنید.</p> <p>عدد ۲۰۵۶ بر عدد ۳ و ۲ بخشپذیر است. <input type="radio"/> صحیح <input type="radio"/> غلط</p> <p>ارزش مکانی رقم ۸ در عدد ۵۸۹۳۶۴۵ دهگان هزار می باشد. <input type="radio"/> صحیح <input type="radio"/> غلط</p> <p>حاصل ضرب هر عدد در معکوس خودش برابر یک است. <input type="radio"/> صحیح <input type="radio"/> غلط</p> <p>به عدد های ۱، ۲، ۳ و ... اعداد طبیعی می گویند. <input type="radio"/> صحیح <input type="radio"/> غلط</p>
2	<p>پاسخ صحیح را با علامت (x) مشخص کنید.</p> <p>کدام عدد بر ۲، ۵ و ۹ بخش پذیر است؟</p> <p>الف) ۵۲۰ <input type="radio"/> ب) ۶۳۰ <input type="radio"/> ج) ۵۴۹ <input type="radio"/> د) ۹۵۰ <input type="radio"/></p> <p>گسترده یک عدد اعشاری (۰/۶ + ۰/۲ + ۵ + ۸۰) می باشد، عدد آن کدام گزینه است؟</p> <p>الف) ۸۵/۲۰۶ <input type="radio"/> ب) ۸۰۵/۰۲۶ <input type="radio"/> ج) ۸۵/۴۰۶ <input type="radio"/> د) ۸۵/۲۶ <input type="radio"/></p> <p>کدام عدد اعشاری بزرگ تر می باشد؟</p> <p>الف) ۱۴/۲۵ <input type="radio"/> ب) ۱۴/۲۰۵ <input type="radio"/> ج) ۱۴/۰۲۵ <input type="radio"/> د) ۱۴/۲ <input type="radio"/></p>
3	<p>جاهای خالی را کامل کنید.</p> <p>در الگوی اعداد در دایره، عدد ..... قرار می گیرد.</p> <p>بزرگترین عدد صحیح منفی، عدد ..... است.</p> <p>حاصل ضرب ۱۰۰ × ۵/۳۲ برابر است با .....</p> <p style="text-align: center;">○ ۱ ۴ ۹ ۱۶ ۲۵</p>
4	<p>عدد ۱۴/۸۷۵ را به حروف نوشته و در جدول ارزش مکانی قرار دهید.</p>
5	<p>نقطه های روی محور کدام عدد اعشاری را نشان می دهند؟</p> 

سؤالات امتحانات داخلی - در شهرستان		ملاير	دی ماه 1400
سؤالات امتحان درس : ریاضی		تاریخ امتحان:	13 98 / 10 / 15
نام و نام خانوادگی :		مدت امتحان :	90 دقیقه
پایه: ششم		ساعت شروع :	10:30 صبح
نام آموزشگاه : دبستان دخترانه معین اندیشه			

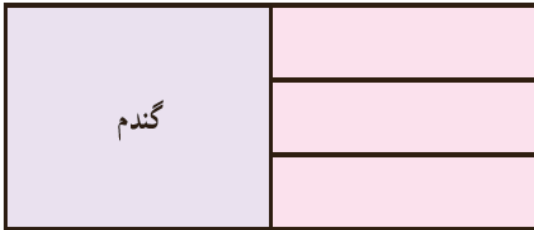
ردیف	سؤالات
------	--------

6	<p>حاصل تقسیم ها را به دست آورید.</p> $\begin{array}{r} 68/7 \\ 2/1 \end{array}$ $\begin{array}{r} 56/8 \\ 6 \end{array}$
7	<p>مساحت باغچه ای به طول <math>5/4</math> و عرض <math>3/2</math> متر را محاسبه کنید.</p>
8	<p>اعداد زیر را از کوچک به بزرگ مرتب کنید.</p> $1\frac{3}{4}, 2, -1, 2/25, 1/2$
9	<p>ضرب و تقسیم کسر ها را انجام دهید.</p> $3\frac{3}{4} \times \frac{2}{5} =$ $\frac{5}{8} \div \frac{3}{4} =$
10	<p>ساده کنید.</p> $\frac{18 \times 32}{42 \times 24} =$
11	<p>حاصل عبارت های زیر را محاسبه کنید.</p> $10 \times (6 - 3/2) =$ $\frac{2}{3} + \frac{1}{8} =$ $\frac{1}{6} \times \frac{4}{9} =$

سؤالات امتحانات داخلی - در شهرستان		ملاير	دی ماه 1400
سؤالات امتحان درس : ریاضی		تاریخ امتحان:	13 98 / 10 / 15
نام و نام خانوادگی :		مدت امتحان :	90 دقیقه
پایه : ششم		ساعت شروع :	10:30 صبح
نام آموزشگاه : دبستان دخترانه معین اندیشه			

ردیف	سؤالات
------	--------

12 کشاورزی نیمی از زمین خود را گندم کاشت. او نیم دیگر را سه قسمت کرد و در یک قسمت آن جو و در یک قسمت دیگر یونجه کاشت. سپس قسمت سوم را هم نصف کرد و در یک قسمت آن سبزیجات کاشت. او چه کسری از زمین خود را سبزیجات کاشته است؟ از شکل استفاده کنید.



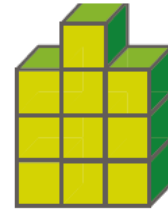
13 با توجه به الگوی زیر، شکل چهارم الگو با چند مکعب ساخته می شود؟



شکل (۱)



شکل (۲)



شکل (۳)

◆ شکل چندم با ۲۵ مکعب ساخته می شود؟

◆ رابطه ی بین تعداد مکعب ها و شماره ی شکل ها را بنویسید.

14 فاطمه در صف ۳۱ نفره ی مدرسه، نفر وسط است. درستی یا نادرستی هر یک از جملات زیر را با ذکر دلیل مشخص کنید.

◆ فاطمه نفر پانزدهم صف است. ◆ ۱۵ نفر قبل از فاطمه و ۱۵ نفر بعد از فاطمه در صف هستند.

پیامبر اکرم (ص) میفرمایند: هر که در جستجوی دانش باشد، بهشت در جستجوی او برآید.

بازخورد توصیفی معلم:

خیلی خوب	خوب	قابل قبول	نیاز به تلاش