


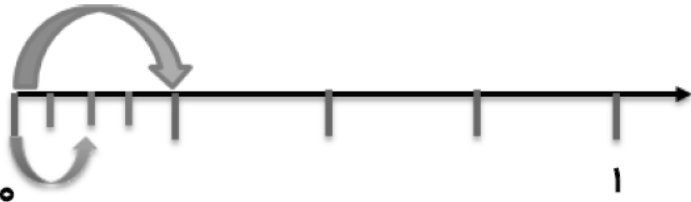


دی ۱۴۰۰ مدرسه: فضیلت ۲ آموزگار: صالحی بابادی	به نام ایزد یکتا ارزشیابی درس ریاضی	نام: نام خانوادگی: کلاس: پنجم
<p>گزینه صحیح را انتخاب کنید.</p> <p>کدامیک از کسره‌های زیر بزرگتر از واحد نیست؟</p> <p>الف) $\frac{3}{5}$ ب) $\frac{13}{5}$ ج) $\frac{5}{3}$ د) $\frac{15}{13}$</p>		۱
<p>عدد (سه میلیارد و سی و سه) به رقم می‌شود.</p> <p>الف) ۳۰۰۰۰۰۰۰۳۳ ب) ۳۰۰۰۰۰۳۳ ج) ۳۰۰۰۰۰۰۰۳۳ د) ۳۰۰۰۰۰۰۰۰۳۳</p>		۲
<p>در جای خالی کلمه‌ی مناسب بگذارید.</p> <p>عدد (۳۶۲۰۰۳۰۰) از تا یک میلیون و دوتا و سه تا ساخته شده است.</p>		۳
<p>جمعیت جهان تقریباً (۷۳۶۲۷۹۳۰۰۰) نفر است. جمعیت جهان با تقریب صد میلیون چند نفر است؟</p>		۴
<p>در یک روز پاییزی غروب خورشید ساعت (دقیقه ۴۵: ۵) بعد از ظهر و طلوع خورشید ساعت (دقیقه ۳۰: ۶) صبح روز بعد است. مدت زمان بین غروب و طلوع خورشید چیست؟</p>		۵
<p>شکل بعدی را رسم کنید و الگوی عددی را ادامه دهید.</p> <p>(۱)  (۲)  (۳)  (۴) ?</p> <p>..... و و ۹ و ۴ و ۱</p> <p>اگر شکل‌ها به همین ترتیب ادامه پیدا کند شکل سی‌ام با چند دایره ساخته می‌شود؟ چرا؟</p>		۶
<p>برای محور زیر یک عبارت ضرب بنویسید.</p> 		۷

<p>ضرب مساحتی زیر را به دو روش محاسبه و شکل بدست آورید.</p> $1\frac{4}{5} \times 2\frac{1}{3}$	۸
<p>احمد ۲۰۰۰ تومان و رضا ۸۰۰۰ تومان دارد. احمد $\frac{4}{5}$ و رضا $\frac{5}{9}$ پول خود را خرج کرده اند. کدام یک بیشتر خرج کرده است؟</p>	۹
<p>علی $2\frac{1}{5}$ ساعت و احمد $4\frac{2}{3}$ ساعت رانندگی کرده اند. الف) احمد چه مدت بیشتر رانندگی کرده است؟ ب) آن ها روی هم چند ساعت رانندگی کرده اند؟</p>	۱۰
<p>ضرب زیر را ساده کنید.</p> $\frac{18 \times 45}{15 \times 9} \times 1\frac{1}{2}$	۱۱