
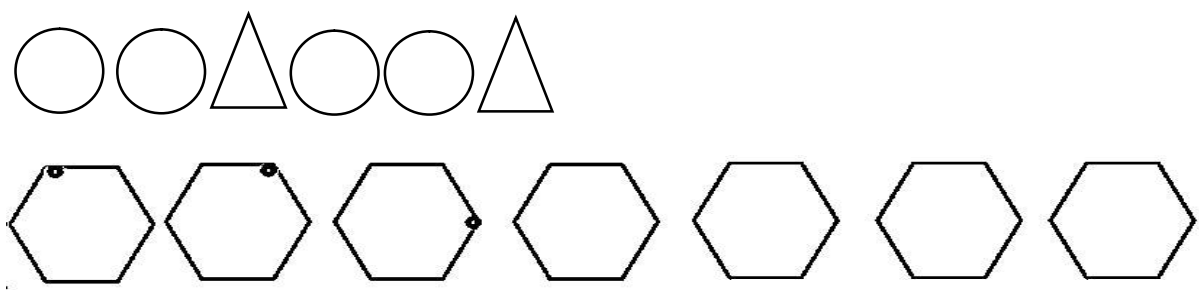


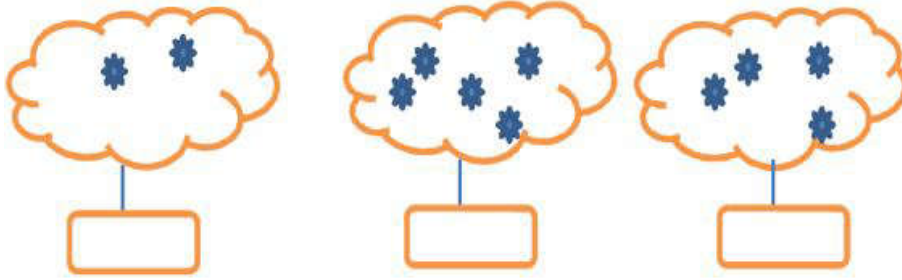



ردیف	شرح سوالات
۱	<p>دور عدد درست خط بکش.</p>  <p>۵ ۴ ۳ ۳ ۲ ۱ ۳ ۲ ۱</p>
۲	<p>الگو را ادامه بده.</p> 
۳	<p>شکل های سمت چپ و راست روی هم چند تا است؟ با یک عدد نشان بده.</p>  

۵ عدد هر دسته را بنویس .



۶ اگر به تعداد شکلها ایستراستاز شکلها ایستچیپیرداریچند تا میماند عدد آنرا بنویس .




۷ جدول شگفت انگیز را کامل کن .

۱	۲		
۴			۱
۲	۱		۳
۳	۴	۱	۲

۲	۱	۴	۳
۳			۲
۱			۴
۴	۳	۲	۱

۸ دور دسته ی بیش تر را خط بکش .



نیاز مند به تلاش بیشتر ○

قابل قبول ☀

خوب ☀

باز خورد آموزگار :
خیلی خوب ☀