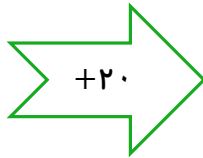
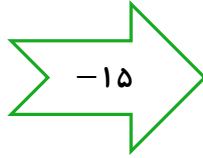




۹
۲۳
۱۴۰

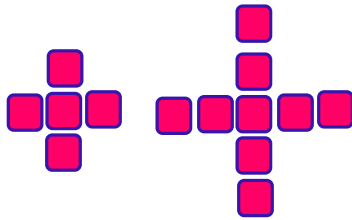




جای خالی را با عدد مناسب پر کنید.



۱



شکل (۱)

شکل (۲)

شکل (۳)

۳۰ ، ۳۴ ، ۲۹ ، ۳۳ ، ۲۸ ، ، ، ،

الگوها را با توجه به نمونه ادامه دهید.



۲

زمان	۱۵	۲۳		۲۰
بعد از ظهر	۳		۵	


جدول داده شده زمان را مانند نمونه پر کنید.

۳

جاهای خالی را با پاسخ مناسب پر کنید.

کوچک ترین عدد چهار رقمی (باتکرار رقم ها): (.....) بزرگ ترین عدد چهار رقمی (باتکرار رقم ها): (.....)

۴



جاهای خالی داده شده را پر کنید.

۲۷۵۰ گرم یعنی کیلو و گرم.

۳۲۵ سانتی متر یعنی متر و سانتی متر.

عدد ۵۳۲۱ یعنی یکی ده تایی صدتایی هزارتایی.



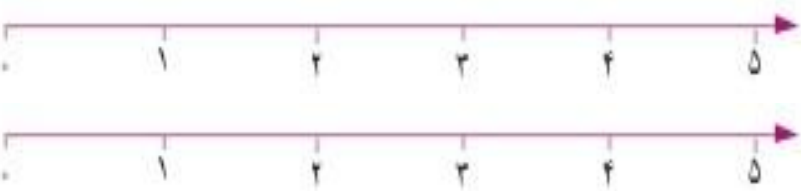

۵

با توجه به محور اعداد داده شده را به صورت تقریبی نشان دهید.

۹۲۰ ، ۲۲۵۰ ، ۴۷۸۱ ، ۶۰۹۹

۶



	<p>عدد داده شده را به صورت گسترده بنویسید.</p> <p>  $7926 = \dots + \dots + \dots + \dots$  $5324 = \dots + \dots + \dots + \dots$ </p>	۷
	<p>عدد های کسری داده شده را روی محور نشان دهید.</p>  <p> $\frac{3}{4}$ واحد قبل از عدد ۴ $\frac{2}{3}$ واحد بعد از عدد ۱ </p>	۸
	<p>برای کسر $\frac{1}{3}$ دو کسر مساوی با آن نوشته و با قسمت بندی مناسب روی شکل نشان دهید.</p> <p> $\frac{1}{2} = \underline{\hspace{2cm}} = \boxed{\hspace{2cm}}$  </p>	۹
	<p>هر کدام از کسرهای داده شده را روی شکل نشان دهید و با استفاده از آن ها مقایسه کرده و علامت $< = >$ بگذارید.</p> <p> $\boxed{\hspace{2cm}}$ $\bigcirc \frac{1}{2}$ $\boxed{\hspace{2cm}}$ </p>	۱۰

پسر عزیزم موفق باشید