

باسمه تعالی

آموزش و پرورش ناحیه ۶ مشهد
دبستان دخترانه غیردولتی ترنج دانش

نام و نام خانوادگی:

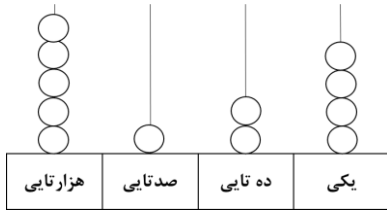
نام آموزگار:

کلاس:

نام درس:

صفحات تا آخر فصل ۴

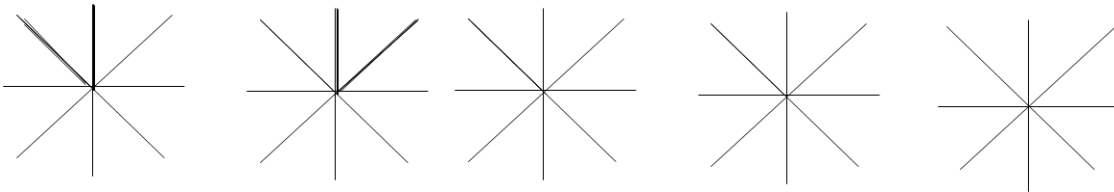
۱- عددی را که چرتکه نشان می دهد با رقم و حروف بنویس.



با رقم :

با حروف:

۲- الگوی زاویه ها را ادامه بده.

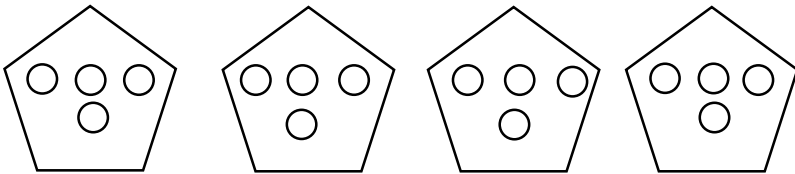


۳- زمان های زیر را با کامل کردن جاهای خالی نشان بده .

..... ساعت و $\frac{20}{60}$ از ساعت

۹ ساعت و از ساعت

۴- برای شکل زیر، یک تساوی ضرب بنویس.



..... × =

۵- در داخل عدد مناسب بنویس.

$$7 + 7 + 7 = \square \times 7$$



$$\square + \square + \square = 3 \times 6$$

۶- الگوها را ادامه بده.

۴, ۸, ۱۲, , , ,

۸, ۱۶, ۲۴, , , ,



۷- در الگوی شمارش ۹ تا ۹ تا، عدد بعد از ۴۵ چیست؟

۸- هر دست لیوان ۶ لیوان دارد. سه دست لیوان چند لیوان دارد؟

۹- در جای خالی عددمناسب بنویس.

$$7 \times 8 = (\square \times \square) + (2 \times 8) = \square$$

$$9 \times 5 = (6 \times 5) + (3 \times \square) = \square$$

۱۰- عدد نویسی را به ترتیب ادامه بده.

۷۰۰۸ - ۷۰۰۹ - - -

۴۴۳۸ - ۴۴۳۹ - - -


۱۱- به دو خطی که هیچ وقت هم دیگر را قطع نمی کنند، خط های می گویند.

۱۲- برای شکل مقابل، یک ضرب و دو تقسیم بنویس.

$$\square \times \square = \square$$

$$\square \div \square = \square$$

$$\square \div \square = \square$$



۱۳- آقای سروری خیاطی می کند، او برای هر مانتو ۶ دکمه می دوزد.

۱۸ دکمه را به چند مانتو می تواند بدوزد؟

۱۴- امیرعلی ۱۴ سال دارد. برادرش ۷ ساله است.

سن امیرعلی چند برابر سن برادرش است؟



۱۵- کتاب خانه ی کلاسی ۴۲ کتاب دارد. اگر در هر قفسه ۷ کتاب چیده شود. این کتاب ها

در چند قفسه قرار می گیرند؟



نیازمند تلاش بیش تر

قابل قبول

خوب

خیلی خوب