


آمادگی و دبستان دخترانه غیر دولتی

سرگوداش

۶- زمانهای زیر را روی ساعت نشان بدهید.



ساعت ۳ و یک ربع به ساعت ۶ و ۳۰ دقیقه

۷- حاصل را به کمک شکل و از روش گسترده نویسی به دست آورید.

$$\begin{array}{r} 31 \\ -23 \\ \hline \end{array}$$

راه فکر ریاضی:

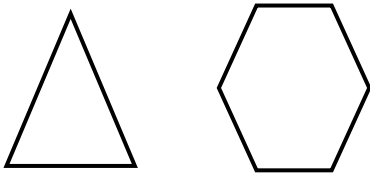
راه فکر فارسی:

۸- جمع و تفریق های زیر را به صورت تقریب به دست آورید.

$$\begin{array}{r} 8 \\ -26 \\ \hline \end{array}$$

$$\begin{array}{r} 39 \\ +11 \\ \hline \end{array}$$

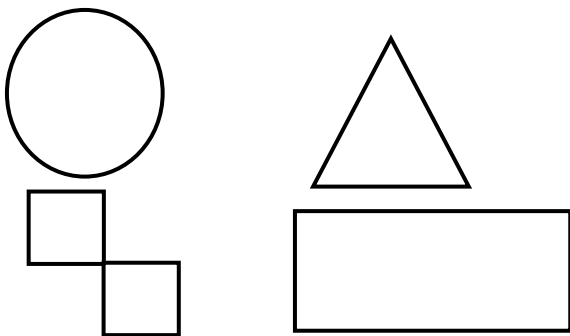
۹- شکل های زیر را با هم مقایسه کرده تفاوت ها و شباهت های آنها را بنویسید.



تفاوت:

شباهت:

۱۰- شکل های زیر را با رسم ۲ خط به ۴ قسمت مثل هم تقسیم کنید.



۱- جاهای خالی را کامل کنید.
عدد ۷۰ یک عدد است که رقم های آن می باشد.
تعداد ضلع های مربع با تعداد ضلع های مساوی است.
یکان عددی ۵ و دهگان آن ۳ تا بیشتر از یکانش می باشد آن عدد می باشد.
هر طبقه ساختمان با ۳ چینه درست می شود ساختمان ۸ طبقه با چینه درست می شود.

۲- الگو را ادامه دهید و آن را توصیف کنید.

$$\begin{array}{r} - \\ - \\ - \\ 720 - 730 - 740 - \\ - \\ - \\ - \\ 1 - 4 - 9 - \end{array}$$

۳- اگر مادرت به تو یک سکه ۵۰۰ ریالی و ۳ سکه ۱۰۰ ریالی و ۱۰ سکه ۱ ریالی بدهد چند ریال خواهد داشت؟ (با رسم شکل)

۴- مریم ۶ دسته ی ده تایی شکلات خرید. دوستش ۲ بسته ی ده تایی شکلات دیگر به او داد. حالا او چند بسته شکلات دارد؟

۵- با کارتهای رقم ۵ و ۹ و ۱ تمام عددهای سه رقمی را بسازید و بنویسید.
الف) که حکتان عددی که نهشتید کدام

۱۱- نیمه دیگر شکل را با توجه به خط تقارن کامل کنید.

۱۲- عدد ۲۵۶ چند رقم است؟
رقم های آن را بنویس؟

عدد قبل از آن چند است؟

۱۳- به اندازه ۳۵۰ ریال سکه بکشید.

ن ت	ق ق	خ	خ خ	اهداف و انتظارات
				مفهوم عدد و رقم را درک کرده و به درستی رقم ها را در جایگاه خود قرار می دهد.
				شمارش چند تایی را می داند و قادر است الگوهای عددی را به درستی توصیف کند.
				انواع سکه ها را شناخته و تبدیل آنها راه به خوبی انجام می دهد.
				تفریق با انتقال را همراه با رسم شکل به درستی انجام میدهد.
				زمانهای متفاوت را به خوبی روی ساعت نشان می دهد.
				جمع و تفریق را از روش تقریب زدن را می داند.
				با توجه به خط تقارن قسمت دیگر اشکال را کامل می کند.
				تفاوت و شباهت چند ضلعی را می داند