

جاهای خالی را کامل کن.



ساعت از — گذشته است.



کمی به ساعت — مانده است.



زمان بین ساعت — و — است.

مسئله ها را با استفاده از چوب خط یا شکل حل کن.

★ علی ۱۴ تا شکلات خرید. او ۶ تا از شکلات هایش را به خواهرش داد. حالا علی چند شکلات دارد؟

★ ۱۵ کبوتر روی شاخه ی درخت نشسته بودند. ۷ کبوتر از آنجا رفتند. حالا چند کبوتر روی شاخه ی درخت نشسته

است؟

با عدد و حروف بنویسید.

_____	نود و نه	_____	بیست و شش	_____
۶۷	_____	۳۹	_____	۱۶

الگوهای عددی زیر را ادامه بده.

$$0 - 8 - 16 - \square - \square - \square$$

+8 +8

$$0 - 7 - 14 - \square - \square - \square$$

+7 +7





$$48 - 49 - \square - \square - \square$$

+1

$$57 - 67 - \square - \square - \square$$

+10

نام هر شکل را بنویس.

			
_____	_____	_____	_____