

خانه ریاضیات غرب تهران

تحصیلات تحقق رویایی شیرین...



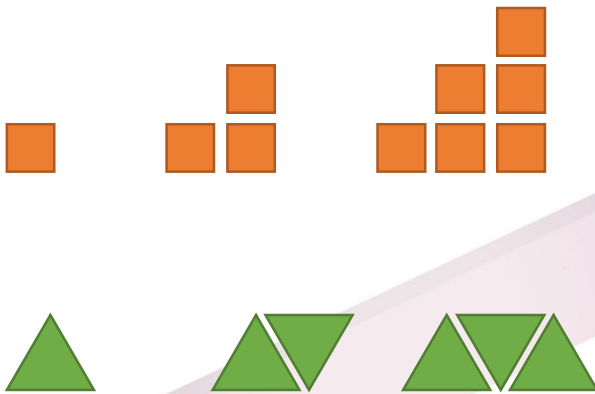
نام و نام خانوادگی:

سری سوم سوالات ریاضی چهارم ابتدایی

۱- جای خالی را با عدد مناسب پر کنید.

۱۰۵-۱۰۰-۹۰-۷۵-.....
 ۱۰-۲۰-۱۵-۲۵-۲۰-۳۰-۲۵-.....
 ۳-۷-۱۵-.....

۲- در هر الگو، شکل بعدی را رسم کنید.



۳- اگر رقم دهگان هزار عدد ۹,۶۲۷,۴۰۹ را به ۷ تغییر بدهیم، عدد چه تغییری می‌کند؟

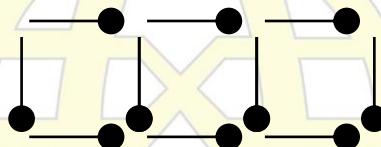
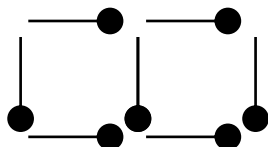
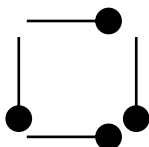
۴- ماشین ورودی و خروجی زیر را کامل کنید.

<input type="text" value="۱"/>	<input type="text"/>	<input type="text"/>		<input type="text" value="۸"/>	<input type="text"/>	<input type="text"/>
<input type="text" value="۵"/>	<input type="text"/>	<input type="text"/>		<input type="text"/>	<input type="text"/>	<input type="text" value="۲۱"/>
<input type="text" value="۹"/>	<input type="text"/>	<input type="text"/>	$\times 2$	<input type="text"/>	<input type="text" value="۹"/>	<input type="text"/>
<input type="text" value="۱۲"/>	<input type="text"/>	<input type="text"/>		<input type="text"/>	<input type="text" value="۱۶"/>	<input type="text"/>
<input type="text" value="۱۵"/>	<input type="text"/>	<input type="text"/>	$+ 5$	<input type="text"/>	<input type="text"/>	<input type="text"/>



۵- اولین رقم از سمت چپ عددی، در مرتبه صدگان میلیون قرار دارد. این عدد چند رقمی است؟

۶- در الگوی زیر، شکل بیست و پنجم از چند چوب کبریت تشکیل شده است؟



۷- جمله هفدهم در الگوی مربعی چه عددی است؟

۸- جمله دهم در الگوی مثلثی چه عددی است؟

۱۴-۹-۱۴-۱۹-۲۴-.....

۹- در الگوی رو به رو، جمله صد چه عددی است

۱-۳-۶-۱۰-۱۵-.....

۱۰- در الگوی زیر، عدد بیستم را به دست آورید.

۱-۴-۹-۱۶-۲۵-.....

۱۱- یک ماشین ۲۰۰ جعبه را که در هر جعبه ۱۰۰ بسته ۳ کیلوگرمی میوه وجود دارد، حمل می‌کند. با این ماشین چند کیلو گرم است؟

خانه ریاضیات غرب تهران

۱۲- رضا ۸ اسکناس ۱۰۰۰۰ تومانی، ۷۰ اسکناس ۵۰۰۰ تومانی و ۳۰ اسکناس ۲۰۰۰ تومانی دارد. او ۴ پیر آهن ۱۳۰۰۰ تومانی و ۷

شلوار ۹ هزار تومانی فرید. چند تومان پول برایش برایش باقی مانده است.