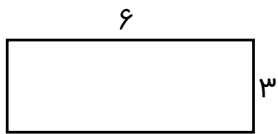


سری ششم سوالات ریاضی سوم ابتدایی

۱- محیط و مساحت شکل های زیر را به دست آورید.



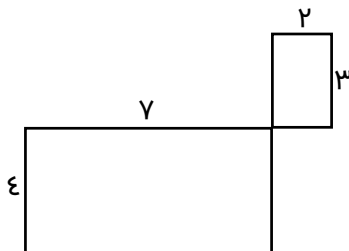
محیط:

مساحت:



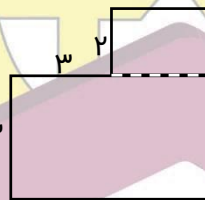
محیط:

مساحت:



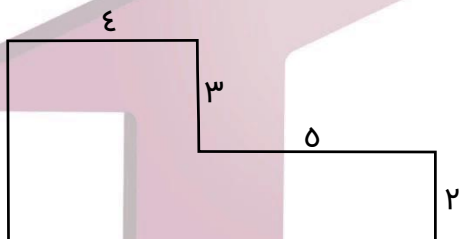
محیط:

مساحت:



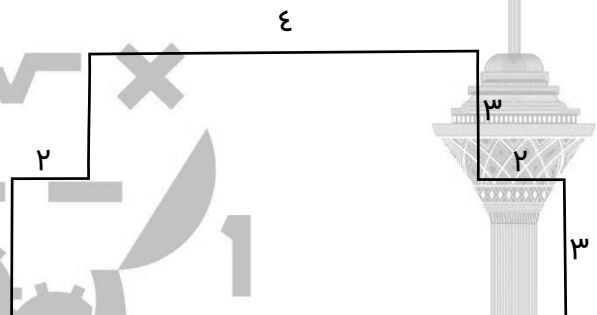
محیط:

مساحت:



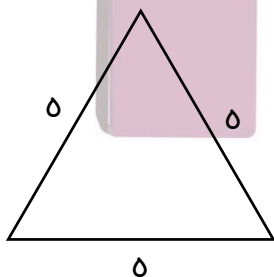
محیط:

مساحت:

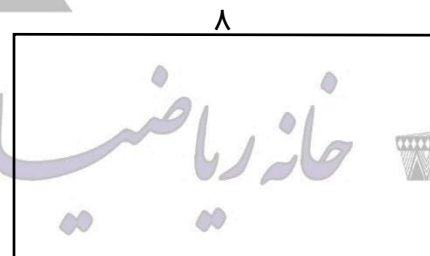


محیط:

مساحت:



محیط:

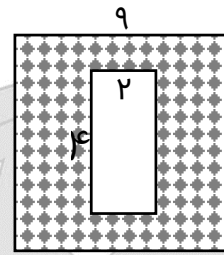
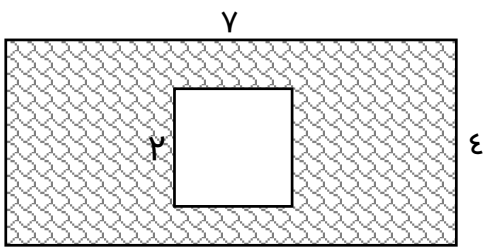


محیط:

مساحت:



۲- مساحت قسمت هاشورخورده را به دست آورید.



۳- پدر و مادر رهام برای منزلشان یک فرش نو خریده اند، که به شکل مستطیل است. طول آن ۷ متر و عرض آن ۴ متر است، رهام می خواهد مساحت فرش را به دست آورد. شما هم این کار را انجام دهید.

۴- باغ دایی عباس ملیکا به شکل مربع و طول هر ضلع آن ۹ متر است. مساحت باغ دایی عباس را به دست آورید.

۵- ایلیا و ارمیا دو دوست هستند. ارمیا می خواهد برای نقاشی ای که ایلیا کشیده بود یک قاب بخرد. او می دانست که مساحت برگه ایلیا ۴۸ سانتی مترمربع و عرض آن ۶ سانتی متر بوده ولی طول آن را فراموش کرده بود. به ارمیا کمک کنید تا عرض برگه نقاشی رو پیدا کند و قاب را بخرد.

۶- کارین و بارسین دو خواهر هستند. پدر آن ها می خواهد دورتادور استخر خانه شان که به شکل مربع است را نرده بکشد. پدر از آنها می خواهد که حساب کنند چه مقدار نرده نیاز دارد. اگر هر ضلع استخر ۷ متر باشد، به کارین و بارسین کمک کنید تا مقدار نرده را پیدا کنند.

۷- طول سالن ورزشی ای که شکورا برای ورزش به آن جا می رود، دو برابر عرض آن است. اگر عرض آن ۴ متر باشد. مساحت این سالن ورزشی را پیدا کنید.