

باسمه تعالی

مجمع آموزشی خوارزمی ۹۶/۱۱/۱۶

نام و نام خانوادگی:



ریاضی

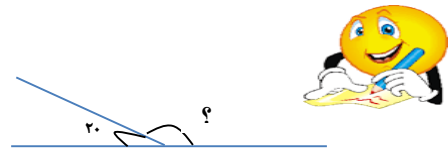
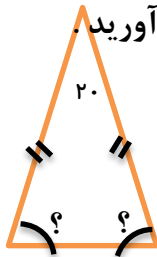



مراکز آموزشی هوشمند خوارزمی

۱ اندازه زاویه ها را با نقاله اندازه گیری کنید.



۲ زاویه های خواسته شده در شکل های زیر را بدست آورید



علوم

۱ انواع آهن ربا را نام ببرید.



۲ میزان قدرت مغناطیسی را در جاهای مختلف آهن ربا توضیح دهید.

۳ به چند روش می توان آهن ربا ساخت؟ یکی از آن ها را توضیح دهید.

اجتماعی

۱ مفاهیم زیر را تعریف کنید.

چاپارخانه:

راه شاهی:

