

نام دانش آموز

به نام خالق بی همتا

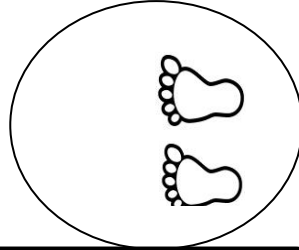
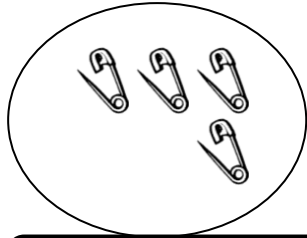
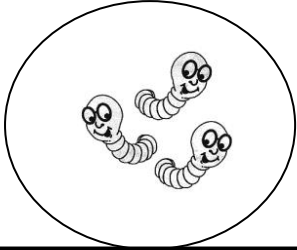
آزمون ریاضی پایه اول

دبستان آزاده

تاریخ : ۹۶ / ۹ /

آموزگار الهام مرضات

۱- فرزندم اگر یک شکل به هر دسته اضافه شود چند می شود با چوب خط و عدد نشان بده

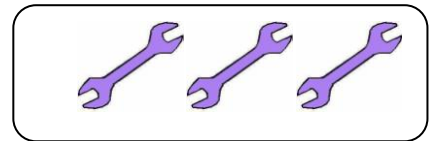
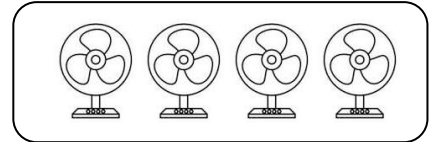


.....

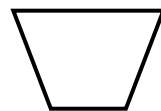
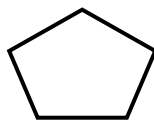
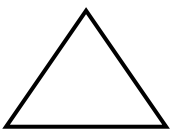
.....

.....

۲- هر دسته را با کمک خط کش به انگشتان مناسب وصل کن



۳- تعداد گوشه را با عدد و تعداد لبه را با چوب خط نشان بده

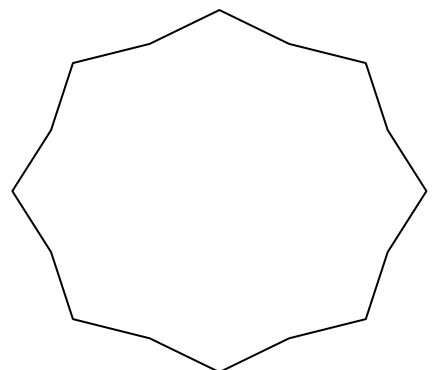

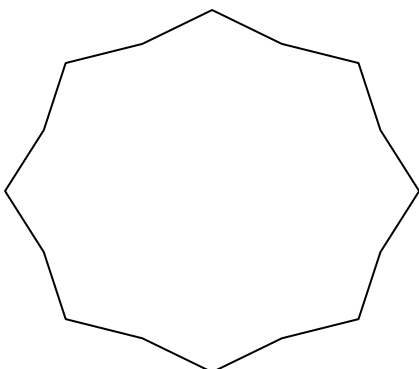


گوشه لبه

گوشه لبه

گوشه لبه


۴- دسته ی قبل و بعد شکل را بکش



۵ مربع شگفت انگیز را تکمیل کن

۲	۱	۴	۳
۳			۲
۱			۴
۴	۳	۲	۱

۶ حیواناتی که به سمت چپ حرکت می کنند را رنگ بزن



۷ دو شکل بعدی الگو را بکش



۸ با توجه به خط تا تصویر شکل های بالا را بکش



۹ اندازه هر شکل را با عدد نشان بده



ب ب ب ب ب

