



به نام خدا

دبستان دخترانه غیر دولتی بهار مدرسی

نام و نام خانوادگی:

تاریخ: ۸/۸ / ۹۶

ریاضی

۱- عدد ششصد و بیست و یک میلیون و دویست و پنجاه هزار و چهارصد و هفتاد و سه را در جدول زیر بنویسید.

میلیون	هزار	

عدد را با رقم اینجا هم بنویسید:



۲- با توجه به اسکناس زیر، به سوالات پاسخ دهید.

- اسکناس رو به رو چند ریالی است؟

- یعنی چند تومان؟

- دو تا از این اسکناس ها می شود ریال یعنی تومان

- ده تا از این اسکناس ها می شود ریال یعنی تومان

۳- با توجه به عددهای ۸۲۵۹۱۲۳ و ۵۰۲۸۶۴۳۵ و ۹۹۸۹۷۶

الف) کوچک ترین عدد کدام است؟ آن را بنویسید.

ب) بزرگ ترین عدد کدام است؟ آن را بنویسید.

۴- کوشا شش میلیون و سیصد هزار و چهل تومان پس انداز کرده است. عدد را به رقم بنویس.

الف) کدام رقم در مرتبه ی صدگان هزار قرار دارد؟

ب) ارزش مکانی کدام رقم بیشتر است؟

۵- در جاهای خالی عدد مناسب بگذار.

$$۹۵۸۲۲۰ = \dots + \dots + ۸۰۰۰ + \dots + ۲۰$$

$$\dots = ۴۰۰۰۰ + ۸۰۰۰ + ۷۰۰ + ۵۰ + ۳$$

۶- در شماره گذاری یک کتاب ۱۸۵ صفحه ای چند عدد سه رقمی به کار می رود؟



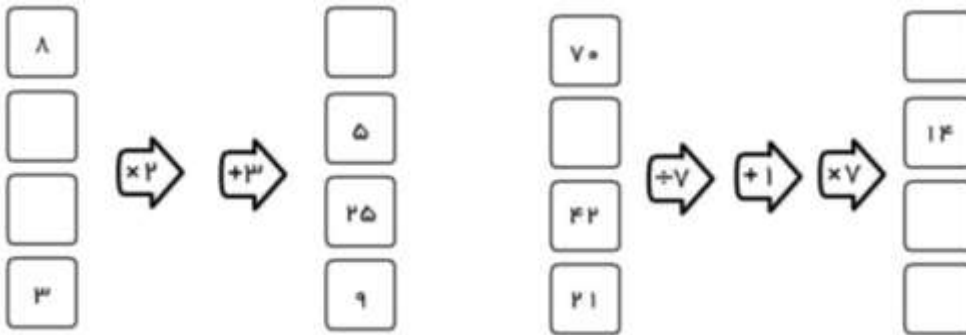
به نام خدا

دبستان دخترانه غیر دولتی بهار مدرسی

نام و نام خانوادگی :

تاریخ: ۸/۱ / ۹۶

۷- جاهای خالی را پر کنید.



۸- کوشا ۷ اسکناس صد هزار ریالی ، ۸ اسکناس ده هزار ریالی و ۳ سکه ی صد ریالی دارد. او چند ریال پول دارد؟

۹- در کلاس سوم به دست آوردن اندازه ی مساحت و محیط مستطیل را یاد گرفته اید. حالا حساب کنید اگر طول

مستطیلی ۱۲ متر و عرض آن ۸ متر باشد :

(الف) محیط مستطیل چند متر است؟

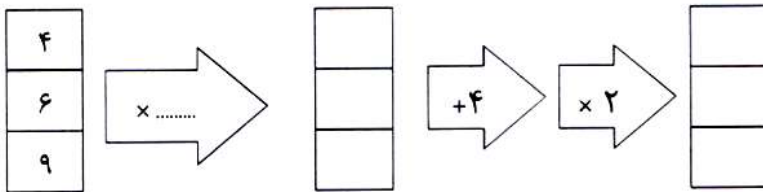
(ب) مساحت مستطیل چقدر است؟ حل کنید.

جلونویسی فراموش نشود.

۱۰- ماشی ورودی - خروجی زیر را کامل کنی


اندازه ی یک ضلع مربع

محیط مربع



۱۱- حسن آقا نقاش است. او می خواهد دور تا دور زمین به شکل زیر طناب کشی کند و سپس سطح آن را رنگ کنند.

در صورتی که هر قوطی رنگ برای ۴ متر مربع کافی باشد ، چند متر طناب و چند قوطی رنگ نیاز دارد؟



(الف) ۳۳ متر طناب و ۹ قوطی کامل رنگ

(ب) ۳۲ متر طناب و ۸ قوطی کامل + نصف یک قوطی

(ج) ۳۲ متر طناب . ۹ قوطی کامل + نصف یک قوطی

(د) ۳۳ متر طناب و ۱۰ قوطی کامل

۲