

بسمه تعالی

دبستان:

کلاس:

نام و نام خانوادگی:

آزمون ریاضی سوم ابتدایی

(فصل ۱)

تاریخ:




مدت آزمون:

سوال ۱: الگوهای عددی زیر را ادامه دهید.

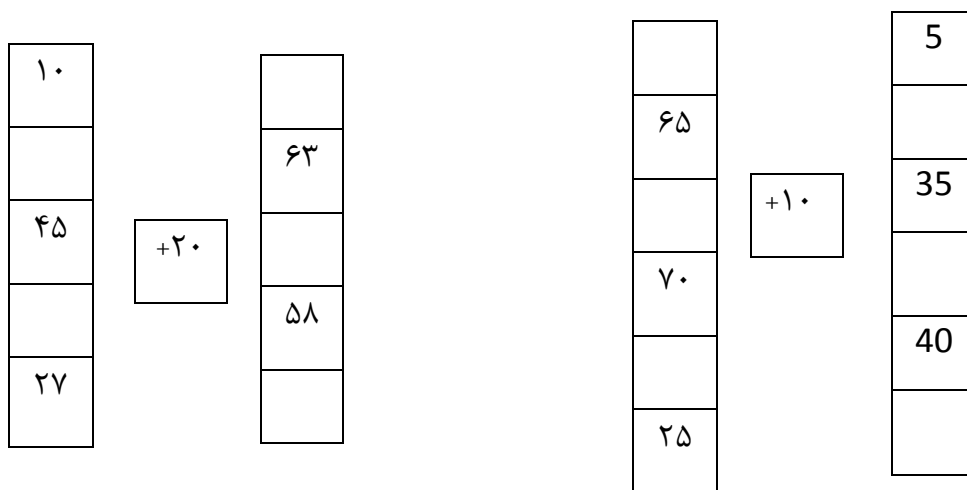
..... و و و ۱۲ و ۶ و ۰

..... و و و ۳۵۰ و ۴۰۰ و ۴۵۰

سوال ۲: مربع های شکل زیر را به سه روش دسته بندی کنید و با شمارش چند تا چند تا تعداد آنها را به دست آورید.





سوال ۳: جواب خروجی ها و ورودی ها را حساب کنید.



سوال ۴: جدول زیر را کامل کنید.

۱۶		۱۷:۱۵		۲۲ و ربع
	۲:۲۵		۶:۳۰	

سوال ۵: خط تقارن شکل های زیر را رسم کنید.



بسمه تعالی

دبستان:

کلاس:

آزمون ریاضی سوم ابتدایی

تاریخ:

نام و نام خانوادگی:

(فصل ۱)

مدت آزمون:

سوال ۶: یک مغازه دار دفتری را ۳۵۰ تومان می خرد و ۴۰۰ تومان می فروشد .

پس از پر کردن جدول زیر به سوالها پاسخ دهید.

الف) اگر سه دفتر بفروشد چند ریال سود می کند؟

ب) چند دفتر بفروشد تا ۲۰۰ ریال سود کند؟

ج) چند دفتر بفروشد تا با سود آن یک دفتر بخرد؟

دفتر	۱				
سود	۵۰				

سوال ۷: حاصل جمعهای زیر را با کنار هم گذاشتن اعداد مناسب بدست آورید.

$$۵ + ۶ + ۳ + ۴ = \dots\dots$$

$$۱ + ۴ + ۷ + ۳ = \dots\dots$$

$$۲ + ۷ + ۴ + ۳ = \dots\dots$$

$$۸ + ۳ + ۵ + ۲ + ۷ = \dots\dots$$

سوال ۸: خانهی زهرا در یک ساختمان ۱۰ طبقه است هر طبقهی آن ساختمان ۴ واحد دارد.



الف) ۲ طبقهی آن چند واحد دارد؟

ب) ۳ طبقهی آن چند واحد دارد؟

ج) ۷ طبقهی آن چند واحد دارد؟

بسمه تعالی

پاسخنامه

آزمون ریاضی سوم ابتدایی

(فصل ۱)

۲۰۰ - ۲۵۰ - ۳۰۰ - ۳۵۰ - ۴۰۰ - ۴۵۰

سوال ۱: ۰ - ۶ - ۱۲ - ۱۸ - ۲۴ - ۳۰

سوال ۲: شکل اول (۳۲ و ۲۸ و ۲۴ و ۲۰ و ۱۶ و ۱۲ و ۸ و ۴) شکل دوم (۱۶ و ۱۶)

شکل سوم (۳۲ و ۲۴ و ۱۶ و ۸)

سوال ۳:

۱۰	۳۰	۱۵	۵
۴۳	۶۳	۶۵	۵۵
۴۵	۶۵	۴۵	۳۵
۳۸	۵۸	۷۰	۶۰
۲۷	۴۷	۵۰	۴۰
		۲۵	۱۵

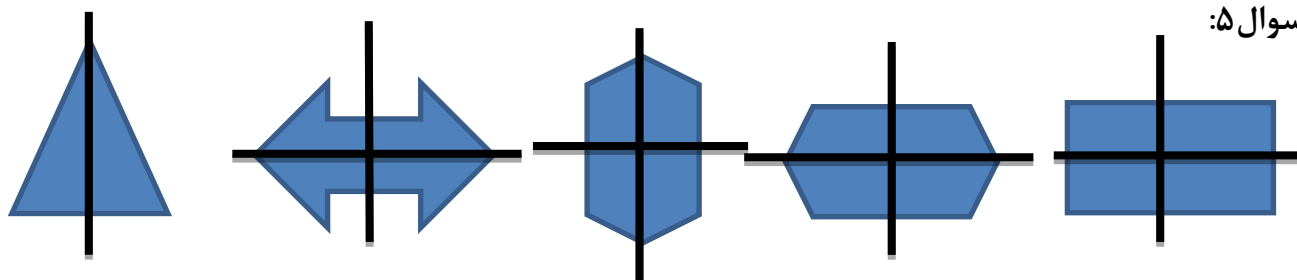
+۲۰

-۱۰

سوال ۴:

۱۶	۱۴:۲۵	۱۷:۱۵	۱۸ وسی	۲۲ وربع
۴	۲:۲۵	۵ وربع	۶:۳۰	۱۰:۱۵

سوال ۵:



سوال ۶:

دفتر	۱	۲	۳	۴	۵
سود	۵۰	۱۰۰	۱۵۰	۲۰۰	۲۵۰

الف) ۱۵۰ ریال سود می کند (ب) ۴ دفتر بفروشد (ج) ۷ دفتر بفروشد

بسمه تعالی

پاسخنامه

آزمون ریاضی سوم ابتدایی

(فصل ۱)

سوال ۷:

$$(۵+۳) + (۶+۴) = ۱۸$$

$$(۲+۴) + (۷+۳) = ۱۶$$

$$(۱+۴) + (۷+۳) = ۱۵$$

$$۵+ (۸+۲) + (۳+۷) = ۲۵$$

سوال ۸:

الف (۸ واحد ب (۱۲ واحد ج (۲۱ واحد