

بسمه تعالی

دبستان:

کلاس:

نام و نام خانوادگی:

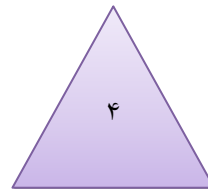
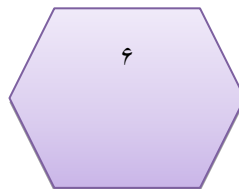
آزمون ریاضی دوم ابتدایی

(فصل ۳)

تاریخ:

مدت آزمون:

سوال ۱: شکل‌های زیر را به قسمت‌های مساوی گفته شده تقسیم کن.



سوال ۲: زمانی را که هر ساعت نشان می‌دهد به دو صورت بنویس.



.....
.....



.....
.....

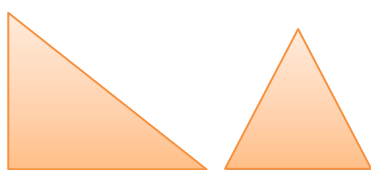
سوال ۳: شکل کلمه‌های خواسته شده را با شابلون بکش.

لوزی

مثلث

مربع

دایره



سوال ۴: شباهت و تفاوت این دو شکل در چیست؟ پیدا کن و بنویس.

بسمه تعالی

دبستان:

کلاس:

نام و نام خانوادگی:

آزمون ریاضی دوم ابتدایی

(فصل ۳)

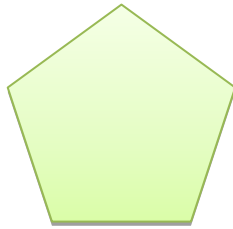
تاریخ:

مدت آزمون:

..... - - - ۹ - ۵ - ۱

سوال ۵: سه عدد بعد از آخرین عدد چند است؟ پیدا کن و در جای خالی بنویس

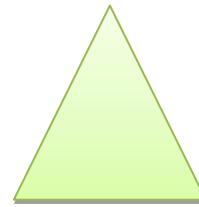
سوال ۶: موارد خواسته شده را بنویس.



نام :

تعداد ضلع ها :

تعداد گوشه ها :



نام :

تعداد ضلع ها :

تعداد گوشه ها :

سوال ۷: خطی که شکل را به دو قسمت مساوی تقسیم می کند نام دارد.

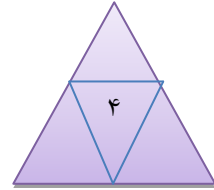
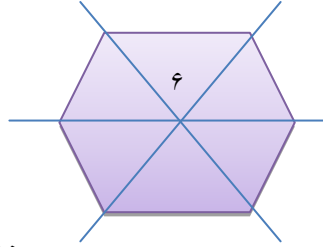
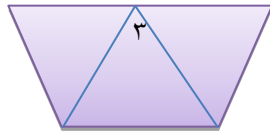
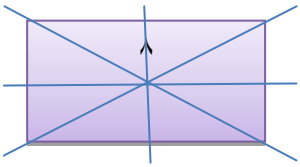
سوال ۸: ساعت ۴:۳۰ است ۳ ساعت و ربع بعد ساعت چند است؟

بسمه تعالی

پاسخنامه

آزمون ریاضی دوم ابتدایی


(فصل ۳)



سوال ۱:

هشت و ربع - ۸:۱۵

سوال ۲: دوازده و سی - ۱۲:۳۰



لوزی



مثلث



مربع



دایره

سوال ۳:

سوال ۴: شباهت : هر دو شکل ۳ ضلع و ۳ تا گوشه دارند.

تفاوت : اندازه‌ی ضلع‌هایشان مساوی نیست

سوال ۵:

۱ - ۵ - ۹ - ۱۳ - ۱۷ - ۲۱

۵ ضلعی

سوال ۶: مثلث

۵ ضلع

۳ ضلع

۵ گوشه

۳ گوشه

سوال ۷: خط تقارن

سوال ۸: ساعت ۷:۴۵ است یا یک ربع مانده به ۸