

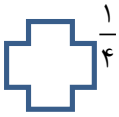


هر چه که هستی بدی می خداوند به تو ست و هر آنچه خواهی شد، بدی توبه خداست پس بی نظیر باش.

۱- با تقسیم هر شکل به قسمت های مساوی، کسر مورد نظر را با رنگ کردن نشان دهید؟



۲- کدامیک از اعداد زیر هم بر ۲ و هم بر ۵ بخش پذیرند؟ الف - ۲۰۵ ب- ۵۵ ج- ۸۶۴ د- ۱۲۰

۳- با رقم های (۷-۸-۴-۶) چند عدد سه رقمی فرد بدون تکرار رقم ها می توان نوشت؟

الف - ۱۲ ب- ۲۶ ج- ۶ د- ۲۳

۴- عدد ۱۲۰ چندمین مضرب ۵ است؟ الف - دومین ب- سومین ج- بیست و چهارمین د- پنجاه و پنجمین

۵- کدام گزینه صحیح است؟

الف- عدد صفر مثبت است. ب- عدد صفر منفی است. ج- عدد صفر نه مثبت است و نه منفی د- هیچکدام

۶- الف- حاصل جمع دو عدد زوج عددی است

ب- حاصل ضرب دو عدد فرد، همواره عددی است

پ- عدد بزرگترین عدد صحیح منفی است

۷- کوچک ترین مخرج مشترک دو کسر $\frac{3}{8}$, $\frac{4}{6}$ را بنویسید

۸- الف سه مضرب عدد ۷ را بنویسید. و و

ب- عدد ۳۶ چندمین مضرب عدد ۴ است؟

پ- سه مضرب عدد ۱۱ را بنویسید. و و

ت- عدد ۹۹ چندمین مضرب عدد ۳ است؟

ث- عدد ۴۸ مضرب چه اعدادی می تواند باشد؟ بنویسید.

۹- زهره روز اول ۳ صفحه قرآن می خواند روز دوم ۹ صفحه قرآن می خواند و روز سوم ۱۵ صفحه قرآن می خواند محاسبه کنید روز دوازدهم چند صفحه قرآن می خواند؟

۱۰- دور اعداد صحیح خط بکشید. $5/6$ $-27/9$ -45 $3/4$ $42/7$ $+34$

۱۱- از کوچک به بزرگ مرتب کنید؟ $1/2$, $-3/3$, 12 , -30 , $14/3$, $2/5$, $1/2$, $-4/3$

۱۲- ۴ کسر بزرگتر از $5/3$ بنویسید که از $2/3$ کوچکتر باشد؟

۱۳- میزی به طول $4\frac{1}{7}$ و عرض $2\frac{1}{3}$ داریم برای دوختن نوار دور تا دور میز چقدر پارچه نیاز است؟

۱۴- زهرا در صف نانوایی نفر وسط است. ۲۵ نفر پشت سر او هستند زهرا از اول صف نفر چندم است؟ چند نفر در صف هستند؟

۱۵- رضا در یک آسانسور میخواهد از طبقه ۳- به طبقه ۵ برود او چند طبقه را باید طی کند؟

$$2\frac{1}{2} - 1\frac{1}{6} =$$

۱۶- جمع و تفریق های زیر را روی محور اعداد نمایش دهید.

$$1\frac{1}{3} + 4\frac{1}{4} =$$

$$\frac{4}{5} \times \frac{2}{3} =$$

$$2 \times \frac{1}{6} =$$

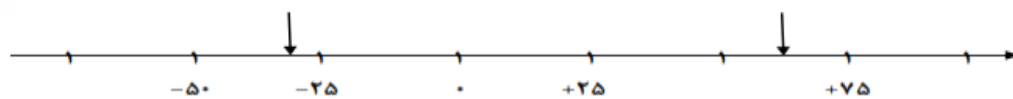
۱۷- برای ضرب ها شکل بکشید؟

$$\frac{1}{7} \times 4 =$$

۱۸- زهرا $\frac{2}{8}$ پولش را کتاب داستان و $\frac{1}{4}$ آن را دفتر خرید کرده اگر ۷۰۰۰ تومان برایش باقی مانده باشد کل پول او چقدر است؟

۱۹- در زنگ درس بخوانیم $\frac{1}{4}$ از دانش آموزان کلاس ششم، کتاب داستان می خوانند و $\frac{1}{3}$ باقیمانده، کتب علمی و $\frac{1}{2}$ باقیمانده ی دیگر، کتب مذهبی، می خوانند. ۶ نفر از دانش آموزان نیز در کلاس مشق می نویسند. تعداد دانش آموزان این کلاس را حساب کنید. (با راهبرد رسم شکل)

۲۰- نقاط مشخص شده روی محورهای زیر، تقریباً "چه عددی را نشان می دهند بنویسید"



خواستن توانستن است پس تلاش را پیش می خود قرار دهید موفقیت تا آرزوی من است