

خانه ریاضیات غرب تهران

تحصیلات تحقق رویایی شیرین...



تمرینات ریاضی هفته دوم پایه سوم ابتدایی - سرکار خانم اصغری

الف) به سوالات زیر پاسخ کامل دهید.

۱) از عدد ۵۴۰ چند واحد کم کنیم تا کوچکترین عدد سه رقمی شود؟

۲) مجموع دو عدد ۸۱۲ شده است. اگر یکی از عددها ۶۲۰ باشد، عدد دیگر را به دست آورید.

۳) مسعود ۳۲۰۰ تومان پول دارد و برای خرید یک کتاب ۳۴۵ تومان کم دارد. قیمت کتاب چه قدر است؟

۴) با توجه به شکل‌های هر قسمت، جاهای خالی را کامل کنید.

دسته کاشی تایی، می‌شود مربع

دسته کاشی تایی، می‌شود مربع

دسته کاشی تایی، می‌شود مربع




۴۴۰۵۱۳۳۶
۴۴۹۶۶۸۶۲
۴۴۹۶۶۸۶۳

WWW.OLOMFONON.COM
WWW.OLOMFONON.IR
پیامک: ۳۰۰۰۸۸۱۰۰۵۱۳۳۶


آدرس: فلکه دوم صادقیه - ابتدای محمد علی جناح - نبش کوچه طاهریان سرای محله فردوس - طبقه دوم - خانه ریاضیات غرب تهران




۵ برای شکل‌های هر قسمت یک تساوی ضرب نوشته و حاصل را به دست آورید.



تعداد پاها: × =



تعداد پایه‌ها: × =



تعداد سیب‌ها: × =



تعداد گل‌ها: × =

۶ برای هر یک از عبارت‌های زیر یک ضرب بنویسید.

الف) $9 + 9 + 9 + 9$

..... × =

ب) $5 + 5 + 5 + 5 + 5$

..... × =

ج) $7 + 7$

..... × =

۷ ۳ هفته و ۹ روز، چند روز می‌شود؟

.....

.....

۸ برای هر یک از شکل‌های زیر، یک تساوی جمع و یک تساوی ضرب بنویسید.

الف)

ضرب = جمع =

ب)

ضرب = جمع =

