

بسمه تعالی

نام :		درس :	مدت امتحان :
نام خانوادگی :		تاریخ :	کلاس :
ردیف		شرح	
گزینه صحیح را انتخاب نمایید			
۱	زهرا و علی هر کدام ۶ مداد در دست دارند. آن ها روی هم چندمداد دارند؟ الف) ۸ مداد ب) ۶ مداد ج) ۱۰ مداد د) ۱۲ مداد		
جاهای خالی را با عبارات مناسب پر کنید			
۲	۶دسته ی ده تایی منهای ----- دسته ی ده تایی می شود ۲ دسته ی ده تایی ۲دسته ی ده تایی به ضافه ی ----- دسته ی ده تایی می شود ۸ دسته ی ده تایی		
۳	بزرگترین عدد دو رقمی ----- است. یکان عددی ۷ و دهگان آن ۳ می باشد آن عدد چیست؟---- یکان عددی ۹ و دهگان آن ۵ تا کمتر می باشد آن عدد چیست؟-----		
۴	در جای خلی کلمه ی مناسب بگذار: برای حل تفریق فرآیندی (۸۵-۴۳) از راه جدول اعداد ابتدا عدد ..... را یدا می کنیم بعد به اندازه ی ۴۰خانه یعنی .....ردیف..... می آییم سپس به اندازه ی ..... خانه به عقب بر می گردیم و به عدد ..... می رسم		
به سوالات زیر پاسخ دهید			
۵	با رقم های ۲و۷و۰ عدد های دو رقمی بنویسید:		
۶	هر ساعتی که ۶ را نشان می دهد، رنگ کن. 		
۷	اگر مریم ۳۸مهره ی آبی و ۴۱مهره ی قرمز داشته باشد او روی هم چند مهره دارد؟		

بسمه تعالی

مدت امتحان :

درس :

نام :

کلاس :

تاریخ :

نام خانوادگی :

ردیف شرح

اعداد به هم ریخته را مرتب کن و در مربع بنویس.




۸

همه ی عددهایی را که به ۶۰ نزدیک هستند بنویس:

.....۶۰.....

۹

قبل و بعد عدد را بنویس.




۱۰

با رقم های ۴ و ۶ چند عدد ۲ رقمی می توان نوشت؟

۱۱

الگو را پیدا کن و ادامه بده:

۱۲





بسمه تعالی

مدت امتحان :

درس :

نام :

کلاس :

تاریخ :

نام خانوادگی :

ردیف شرح

۱۸ شکل وسط را رنگ کن.



۱۹ قبل و بعد عدد داده شده را بنویسید:

---،---،---،---،۷،---،---،---

۲۰ با استفاده از ۳ مداد رنگی مربع هارا به دلخواه رنگ بزنیید و جمع را کامل کنید:

-----+-----+-----=۱۰

--	--	--	--	--	--	--	--	--	--

۲۱ سیاست های پولی به چند شکل انجام می شوند؟

۲۲ شکل زیر چه عددی را نشان می دهد؟



۲۳ قبل و بعد عدد نوشته شده را بنویس.

..... ۷۹ .....

۲۴ با دورقم ۸ و ۶ دو عدد د رقمی بنویس:

۲۵ جمع و تفریق های زیررا از راه فرآیندی حل کن:

۶۱	۴۱	۷۶	۶۷	۹۸	۵۵
+۳۵	+۴۷	+۱۳	-۳۲	-۴۲	-۴۰
	-----	-----	-----	-----	-----

بسمه تعالی

نام :		درس :	مدت امتحان :
نام خانوادگی :		تاریخ :	کلاس :
ردیف	شرح		
۲۶	جواد و دانا روی هم هشت فندق دارند آنها فندق هارا به طور مساوی بین خود تقسیم کردند جواد یکی از فندق هایش را خورد حالا جواد چند فندق دارد؟		
۲۷	جمع ها را کامل کن. ..... + ..... = ۷ ، ۵ + ..... = ۷ ، ..... + ..... = ۷		
۲۸	عدد های دو رقمی بنویسید که یکان آن ها ۴ و دهگان آن ها ۸ باشد: ----- ----- ----- -----		
۲۹	با دو رقم ۷ و ۴ عددی را بنویس که رقم دهگان بیشتر از یکان باشد:		

بسمه تعالی

مدت امتحان :

درس :

نام :

کلاس :


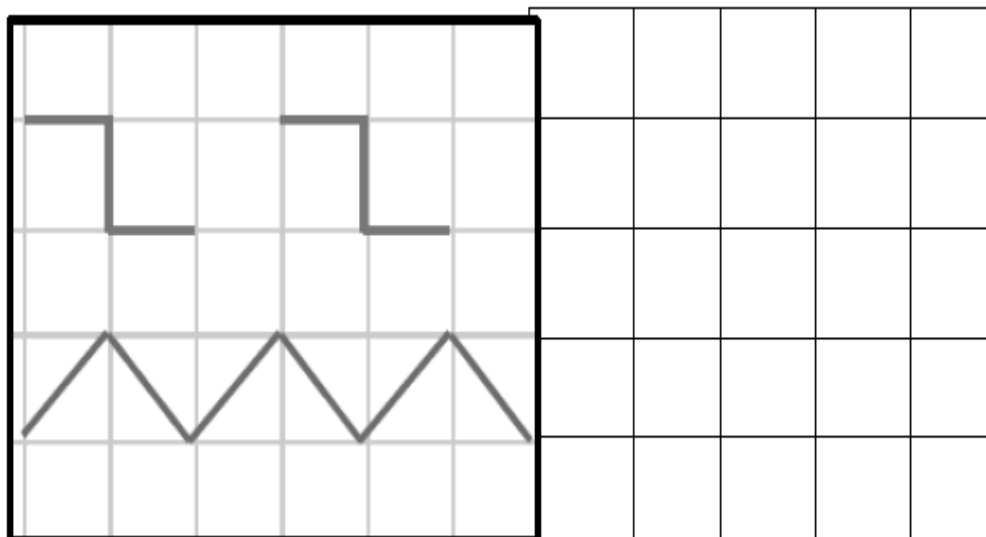
تاریخ :

نام خانوادگی :

ردیف شرح

الگوها را کامل کنید:

۳۰



با دو کارت زیر عدد دو رقمی بساز:

۳۱



بسمه تعالی

مدت امتحان :

درس :

نام :

کلاس :

تاریخ :

نام خانوادگی :

ردیف شرح

۳۲ با عدد یا حروف بنویسید:

۳۹


هفتادوهشت

نوزده


۸۵

۳۳ گل های هم اندازه را رنگ بزن و شماره های آن دو را باهم جمع کن.

..... + ..... = .....



۳۴ چتر باز را زرد و چتر بسته را قرمز کن.



۳۵ سیاست های پولی را تعریف کنید.

بسمه تعالی

مدت امتحان :

درس :

نام :

کلاس :


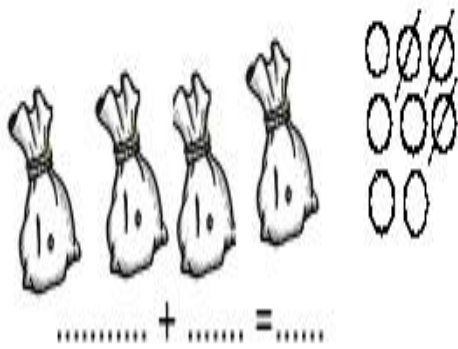
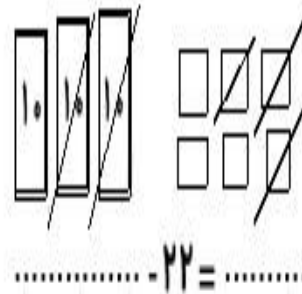
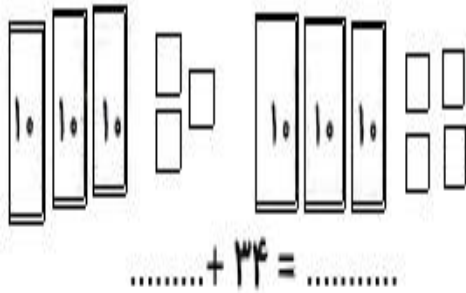
تاریخ :

نام خانوادگی :

ردیف شرح



باتوجه به شکل در جای خالی عدد مناسب بگذار:

۳۶



تصویری را که جواب تفریق آن مساوی با عدد ۲ است، رنگ بزن.

۳۷





بسمه تعالی

مدت امتحان :

درس :

نام :



کلاس :

تاریخ :

نام خانوادگی :

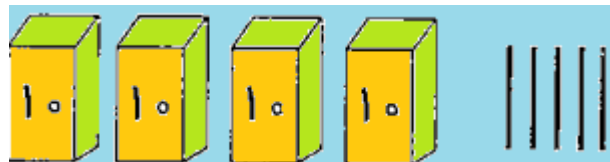
ردیف شرح

به اندازه ی شکل های سمت راست از خانه های جدول رنگ کن:



۳۸

با توجه به شکل ، دور عدد مناسب خط بکش.  
( ۳۵ \_ ۴۵ \_ ۵۴ )



۳۹

با کارت ها عدد دو رقمی بساز:



۴۰

سیاست های تثبیت اقتصادی به چند دسته تقسیم می شوند؟

۴۱

بسمه تعالی

مدت امتحان :

درس :

نام :

کلاس :

تاریخ :

نام خانوادگی :

ردیف شرح

۴۲ فرزند گلم الگوهای عددی زیر را ادامه بده:

۸۷، ۸۸، ۸۹، -----، -----، -----، -----، -----، -----، -----، -----، -----

۱، ۴، ۷، ۱۰، -----، -----، -----، -----، -----، -----، -----، -----

۱۰، ۲۰، ۳۰، -----، -----، -----، -----، -----، -----، -----، -----


۴۳ با کارت های ۳ و ۶ هر چه میتوانی عدد بساز:

حالا با این دو عدد یک جمع و یک تفریق بنویس و حاصل آنها را پیدا کن:

۴۴ باهوشم مانند نمونه الگوها را ادامه بده و ششمین الگو از سمت چپ را رنگ بزن:



۴۵ در این شکل، چند خط راست می بینیم.



۴۶ الگوهای عددی را ادامه بده:

۳۶، ۴۲، ۴۸، -----، -----، -----، -----، -----

۱۹، ۲۱، ۲۴، -----، -----، -----، -----، -----

بسمه تعالی

نام :

درس :

مدت امتحان :

نام خانوادگی :

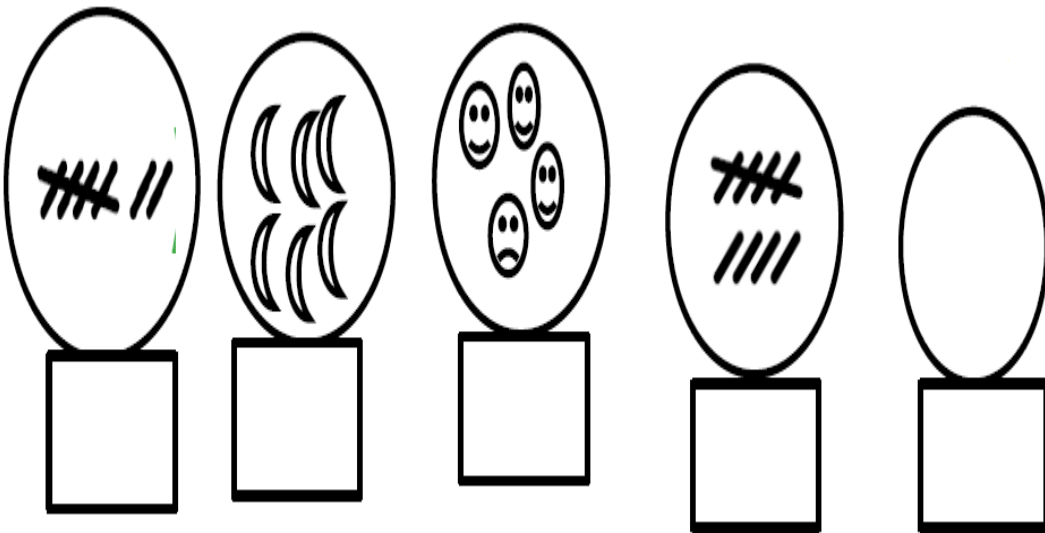
تاریخ :

کلاس :

ردیف شرح

مهربانم عدد مربوط به هر شکل یا هر چوب خط را بنویس:

۴۷



در هر قسمت دور جواب درست خط بکش:

۴۸

۶۵-۵۶-۸۵      ۲۵+۴۰=

۹۹-۸۶-۸۹      ۵۴+۳۲=

۳۸-۵۶-۶۳      ۷۶-۱۳=

آزاده ۳ مداد دارد. او دلش می خواهد ۶ مداد داشته باشد. آزاده باید چند مداد دیگر بخرد؟

۴۹

در جاهای خالی عدد مناسب بنویس:

۵۰

۳		۱	۶	۵	۲
۵	۶	۲	۳	۴	
۶		۳	۴	۱	۵
	۱	۵	۲	۶	۳
۲	۵		۱		۴
۱		۴		۲	۶

بسمه تعالی

مدت امتحان :

درس :

نام :

کلاس :

تاریخ :

نام خانوادگی :

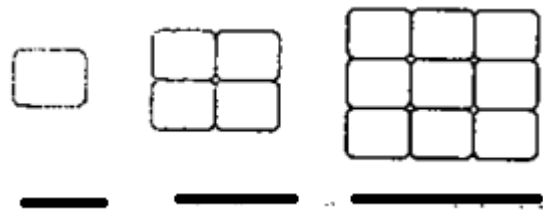
ردیف شرح

محور را کامل کن، و سپس عبارت زیر را روی محور نشان بده و پاسخ آن را بنویس.  
 $7 - 5 - 6 = \dots\dots\dots$



۵۱

شکل بعدی را بکش.



۵۲

با سه کارت که روی آن ها رقم های ۴ و ۷ و ۵ نوشته شده است هرچقدر می توانید عدد های دورقمی بسازید:

۵۳

با توجه به متن برای ساعت های زیر عقربه بگذار و وقت دقیق را برای هرکدام بنویس

هر دو عقربه روی ۴ است



۵۴

عقربه ی کوتاه روی ۱۱ و عقربه ی بلند روی ۳ است



بسمه تعالی

نام :

درس :

مدت امتحان :

نام خانوادگی :

تاریخ :

کلاس :

ردیف شرح

۵۵ گلم: جند عدد ۲ رقمی می توانی پیدا کنی که رقم یکان آن دو تا بیشتر از دهگان آن باشد

۵۶ برای این دو شکل، دو جمع بنویس.

.....+.....=..... ، .....+.....=.....



۵۷ الگو هارا ادامه بده:

۳،۶،-----،-----،-----،-----،-----

۱۰،۲۰،-----،-----،-----،-----،-----

۶،۱۲،-----،-----،-----،-----،-----

۹،۱۸،-----،-----،-----،-----،-----

۵۸ عددهای زیر را به صورت تقریبی بنویسید:

۳۵

۶۸

۴۱

۵۹ در جای خالی، عدد مناسب یا علامت مناسب بگذار.

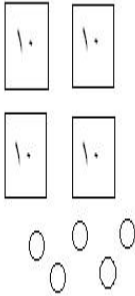
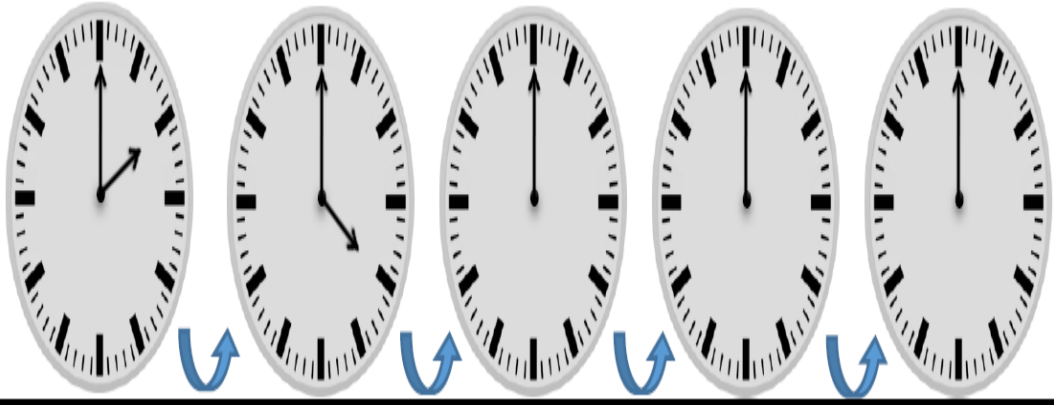
.....=۵ ، .....<۰ ، ۷.....۵ ، ۴.....۶

۶۰ حاصل جمع و تفریق ها را از هر روشی که می خواهی، پیدا کن.

۱۶\_۹=..... ، ۵+۶=..... ، ۸+۷=.....

۲+۴+۵+۳=..... ، ۱۳\_۵=..... ، ۷+۷+۷=.....

بسمه تعالی

		نام :	درس :	مدت امتحان :
		نام خانوادگی :	تاریخ :	کلاس :
ردیف	شرح			
۶۱	در جای خالی ، عدد مناسب بنویس. کوچک ترین عدد دو رقمی.....است. بزرگترین عدد یک رقمی ..... است.			
۶۲	جمع و تفریق زیر را با شکل نشان بده و بعد حل کن. $۷+۵ = \dots\dots\dots$ ، $۹-۴ = \dots\dots\dots$ ،			
۶۳	الگوها را ادامه بده: $۱۰, \dots\dots\dots, ۸۰, ۹۰$ $\dots\dots\dots, \dots\dots\dots, \dots\dots\dots, \dots\dots\dots, \dots\dots\dots$ ده، بیست، سی، .....			
۶۴	در جای خالی عدد مناسب بنویس: 			
۶۵	الگوی زیر را با کشیدن عقربه نشان دهید: 			

بسمه تعالی

مدت امتحان :

درس :

نام :

کلاس :

تاریخ :

نام خانوادگی :

ردیف شرح

در هر ردیف ، دور دسته ای که تعدادش هم اندازه ی دسته ی سمت چپ است خط بکش.

۶۶

