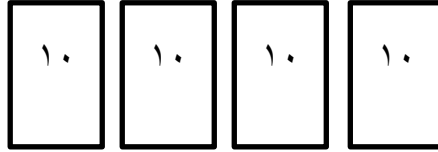


۱- با خط زدن شکل جواب تفریق زیر را بنویس.




$$40 - 10 =$$

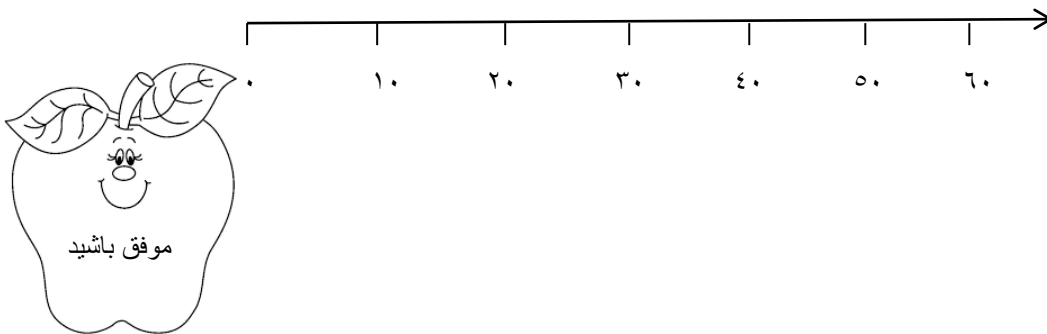
۲- در جای خالی عدد مناسب بنویس.

۳ دسته ی ده تایی به اضافه ۴ دسته ی ده تایی می شود ..... دسته ی ده تایی یعنی .....  $30 + 40 =$   
۹ دسته ی ده تایی منهای ۴ دسته ی ده تایی می شود ..... دسته ی ده تایی یعنی .....  $..... - ..... =$

۳- شکل زیر را با استفاده از مداد رنگی به دسته های ده تایی تبدیل کن و تعداد شکل ها را بنویس. (هربار از یک مداد رنگی استفاده کن).



۴- به طور تقریبی اعداد ۳۲ و ۲۷ را روی محور نشان بده.



انتظارات آموزشی	بلی	خیر	تأحدودی	بازخورد
توانایی درک مفهوم تفریق با شکل را دارد.				
توانایی انجام تفریق ریاضی به صورت کلامی و نوشتاری را دارد.				
می تواند دسته ی ده تایی درست کند و آن را بشمارد.				
توانایی شناخت تقریبی اعداد بر روی محور ده تایی ها را دارد.				