














آدینه ی پایه اول هفته چهارم فروردین

نام هر تصویر را در جای مناسب بنویس.



درس حلزون را بخوان و برای نشانه های زیر به تعداد ابرها از این درس کلمه پیدا کن.



آدینه ی پایه اول هفته چهارم فروردین

کلمات هر ردیف مربوط به چه کاری است؟ نام آن را بنویس.

	شکلات	لیک	خامه	شیرینی
	میز	تخته	میخ	اره
	آتش	آرد	تنور	نان

کلمه مناسب انتخاب کن و در جای خالی بنویس.

به نور خورشید می گویند (آفتاب - مهتاب)

به برادر پدر می گویند. (عمو - دایی)

	کثیف
	آثر
	مثل

صداهای هر کلمه را جدا جدا بنویس

آدینه ی پایه اول هفته چهارم فروردین

با استفاده از محور مسئله ها را حل کن .

در یک اتوبوس شهری ۱۳ مسافر سوار بودند . ۵ مسافر دیگر هم سوار شدند . با رسیدن به ایستگاه ۷ نفر پیاده شدند . حالا اتوبوس چند مسافر دارد ؟



مسافر دارد



مادرم ۱۰ سیب را با خودش به گردش آورده بود . خاله ام هم ۱۰ سیب دیگر آورده بود . من و دختر خاله ها ۵ تا از سیب ها را خوردیم . حالا چند سیب داریم ؟



سیب داریم



۵ - ۱۰ - - - - -

۱۰ - ۲۰ - ۳۰ - - - - -

آدینه ی پایه اول هفته چهارم فروردین

جای خالی را با عدد مناسب کامل کن.

$$۵+۵+۵+۳=$$

$$۵-۲۰=$$

$$۲۰+۱۰+۵=$$

$$۵+۱۰+۳۰=$$

$$۱۰+۵+۳۰=$$

$$۲۰+۵+۳=$$

$$۵۰+۲۰+۵+۳=$$

$$۱۰+۶-۳=$$

جدول ارزشیابی معلم

نیازمند تلاش بیشتر	قابل قبول	خوب	خیلی خوب	نام درس
				ریاضی
				فارسی