

* پاسخ درست را با علامت مشخص کنید.

۱- وزن یک لیوان خالی $\frac{3}{9}$ گرم است. اگر وزن لیوان پر از آب $\frac{9}{7}$ گرم باشد، وزن آب داخل لیوان چند گرم است؟

- الف) $\frac{13}{6}$ (ب) $\frac{6}{2}$ (ج) $\frac{8}{5}$ (د) $\frac{5}{8}$

۲- در عدد $\frac{3}{7}$ ، رقم ۷ در کدام مرتبه قرار دارد؟

- الف) صدگان (ب) دهگان (ج) یکان (د) دهم

۳- حاصل عبارت $\frac{3}{7} - \frac{2}{9} + \frac{5}{4}$ کدام عدد است؟

- الف) $\frac{4}{6}$ (ب) $\frac{5}{6}$ (ج) ۱۲ (د) $\frac{6}{2}$

۴- کدام عبارت زیر نادرست است؟

- الف) $\frac{5}{9} > 2\frac{1}{9}$ (ب) $2\frac{1}{3} < 3$ (ج) $1\frac{7}{8} > 2$ (د) $4\frac{2}{5} > 3$

۵- عدد ۳ چند تا 0.1 است؟

- الف) ۳ (ب) ۳۰ تا (ج) ۳۰۰ تا (د) ۳۰۰۰ تا

۶- کدام گزینه طول کم تری را نشان می دهد؟

- الف) ۴۳ تا 0.1 سانتی متر (ب) ۳ سانتی متر و ۲۷ میلی متر (ج) ۵ سانتی متر و 0.2 سانتی متر (د) ۶۱ میلی متر

۷- حاصل عبارت مقابل کدام است؟

- الف) $\frac{14}{5}$ (ب) $\frac{7}{1}$ (ج) $\frac{14}{8}$ (د) $\frac{7}{4}$
- $12\frac{6}{20} - 1\frac{1}{2} + \frac{3}{7} = ?$

۸- کدام عدد با بقیه تفاوت دارد؟

- الف) $\frac{2}{5}$ (ب) $\frac{1}{2}$ (ج) 0.5 (د) $\frac{5}{10}$

۲- جمله های زیر را کامل کنید.



الف) تا $\frac{1}{7}$ متر می شود ۲ متر.

ب) عدد ۴۹ میلی متر یعنی سانتی متر یا تا سانتی متر.
ج) ۳ ساعت و ۱۲۰ ثانیه برابر با دقیقه است.

۳- جمله های درست را با و نادرست را با علامت مشخص کنید.

- الف) عدد $1\frac{7}{8}$ بین دو عدد ۱ و ۲ قرار دارد و به عدد ۲ نزدیک تر است.
ب) حاصل عبارت $\frac{1}{5} + 2 + 4 - \frac{5}{6}$ برابر با $\frac{5}{1}$ است.

۴- برای شکل، عدد مخلوط بنویسید.

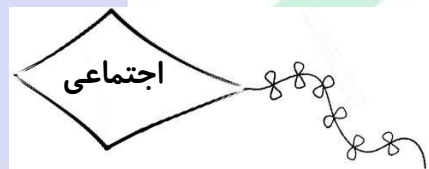


۵- مریم ۴ تا پیتزا خرید. ۳ تکه از ۴ قسمت یکی از پیتزاها را خواهرش خورد. تکه های پیتزای باقی مانده را به عدد مخلوط بنویسید.



۱- اگر ساعتی خواب باشد و کار نکند، در طول یک ماه خرداد چند بار وقت درست را نشان می دهد؟

۲- خانواده ای هر هفته حدود ۶۰۰۰ لیتر آب مصرف می کند. مصرف سالانه آب آن ها تقریباً چند لیتر است؟



۱- کدام یک از اقوام آریایی، حکومت بیگانه‌ی سلوکیان را برانداختند و حکومت تشکیل دادند؟

- الف) مادها ب) پارت ها ج) پارس ها د) یونانی ها

۲- اسکندر که بود؟

- الف) پادشاه لیدی ب) پادشاه آشور ج) جانشین سلوکیان د) پادشاه یونان و مقدونیه

۳- فرمانده شجاع ایرانی که در برابر حمله‌ی اسکندر مقاومت کرد و جنگید نام داشت.

۴- آریوبرزن توانست سردار رومی را شکست بدهد.

۵- کوروش مردی از قوم بود که حکومت را به وجود آورد.



هدیه

۱- جمله ای از پیامبر (ص) در مورد حضرت خدیجه بنویسید.

۲- بهترین نعمتی که خداوند به حضرت خدیجه داد چه بود؟

۳- چهار مورد از هدیه های ارزشمندی که حضرت مهدی (عج) برای انسان ها خواهند آورد را نام ببرید.

۴- صله ی رحم انسان ها را شاداب می کند به او می دهد.

رفت و آمد با خویشاوندان موجب زیاد شدن و جسم می شود.

وقتی به دیدار خویشاوندان می رویم، دل های ما و قهرها به تبدیل می شود.

