

به نام خدا


نام زیبای من: .....

فعالیت یادگیری درس ریاضی - پایه ی اول ابتدایی دبستان: .....

۱- تفریق های زیر را انجام بده.



$10 - 6 = \text{---}$



$\text{---} \bigcirc \text{---} = \text{---}$

۲- برای هر عدد از یک مداد رنگی استفاده کن و با رنگ زدن جواب جمع را پیدا کن.



$3 + 4 + 5 + 3 = \text{---}$

۳- جمله ها را کامل کن.


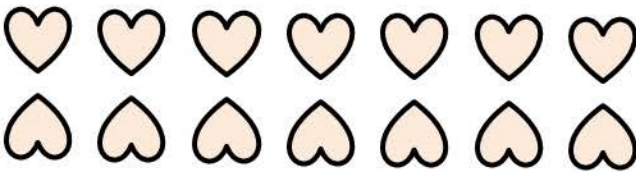
۵ ده تایی و ۲ یکی می شود

۱۳ می شود  ده تایی و  یکی

۱ ده تایی و ۹ یکی می شود

۴۷ می شود  ده تایی و  یکی

۴- دسته ی ده تایی درست کن و تعداد شکل ها را با چوب خط نشان بده و جدول را کامل کن.



یکی	ده تایی
---	---

۵- الگوهای عددی را ادامه بده.

$2 - 4 - 6 - \dots$

$3 - 5 - 7 - \dots$


۶- از عدد ۰ تا ۱۹ به ترتیب بنویس.

۰									

۷- با محور اعداد، جمع و تفریق کن.

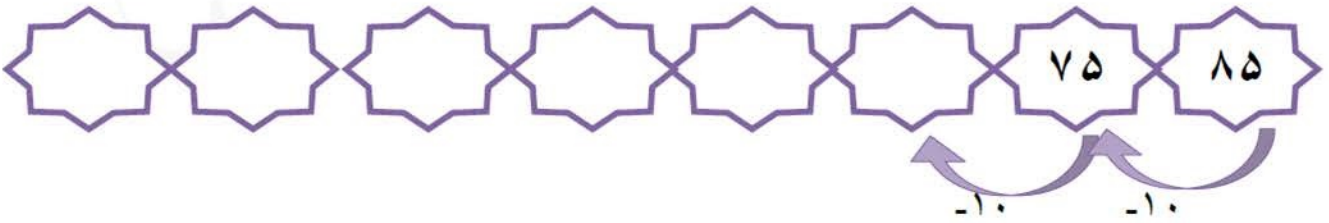


$$4 + 7 = \underline{\quad}$$



$$12 - 5 = \underline{\quad}$$

۸- مانند نمونه ۱۰ تا ۱۰ تا کم کن و بنویس.



۹- بین دو عدد علامت مناسب < = > بگذار.

$$12 \bigcirc 9$$

$$12 \bigcirc 13$$

$$8 \bigcirc 10$$

$$5 + 10 \bigcirc 15$$

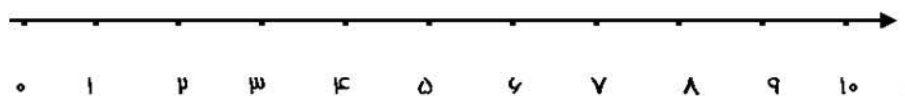
$$14 \bigcirc 17$$

$$9 \bigcirc 9$$

$$18 \bigcirc 17$$

$$9 + 1 \bigcirc 19$$

۱۰- برای مسئله یک شکل ساده بکش و روی محور نشان بده.  
علی ۸ مداد داشت، او ۳ تا از مدادهایش را به خواهرش داد.  
حالا علی چند مداد دارد؟



باز خورد معلم: