



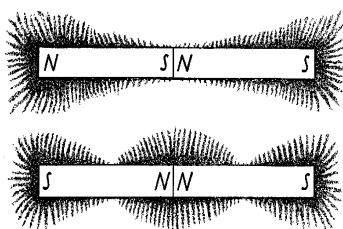
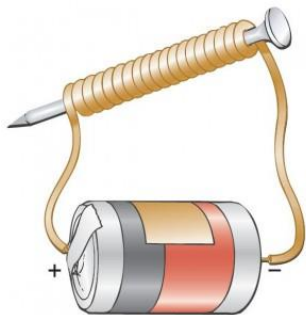
۱- نام این وسیله چیست چرا اجسام فلزی به دوسرش چسبیده اند؟



۲- چرا دو آهنربا معلق در مداد قرار گرفته اند؟

این وسیله چه نام دارد؟

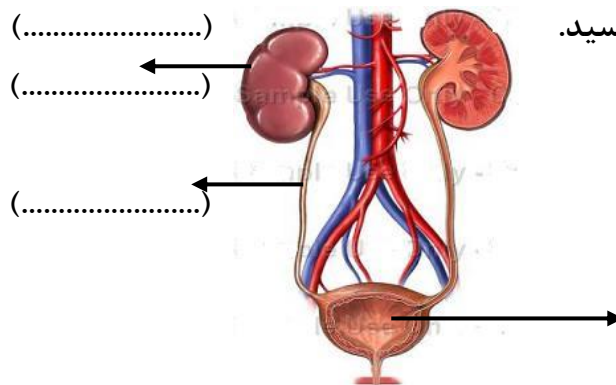
-وقدرتش به چه عواملی بستگی دارد؟



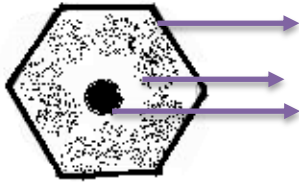
۴- با توجه به نام گذاری دوسر آهنربای ربایش کدام شکل درست است؟ (.....)
چرا؟.....

۵- این شکل چیست؟.....

نام جاهای مشخص شده را بنویسید.



(.....)



(.....)

(.....)

(.....)

دستور کار ج) با توجه به تصاویر به سوالات پاسخ دهید

۱- نام این شکل چیست؟

نام قسمت های مشخص شده ی شکل را بنویسید

۲- نام این وسیله چیست؟.....

-از آن برای چه کاری استفاده می کنند؟.....



۳- تفاوت این سنگ ها را بنویسید.



۴- این سنگ چه نوعی از سنگها است ؟

-مشخصات آنها را بنویسید



سنگ های رسوبی به صورت لایه های موازی ته نشین می شوند.

فرزندان من موفق باشید-سنجری