



بهمن ماه

به نام خداوند جان و خرد

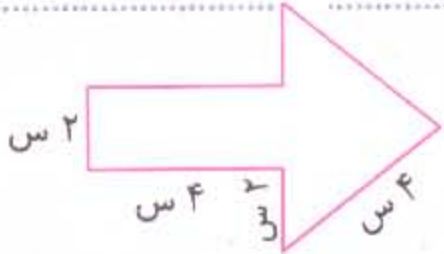
نام :

نام خانوادگی :

پیگ آهینه کلاسی سوم



① محیط شکل روبه‌روی را می‌سب کن :



② هرچوب کربت تقریباً ۳ سانتی متر است. شکل‌های زیر با چوب کربت ساخته شده محیط هر یک را به دست آورید. (از ضرب استفاده کنید)

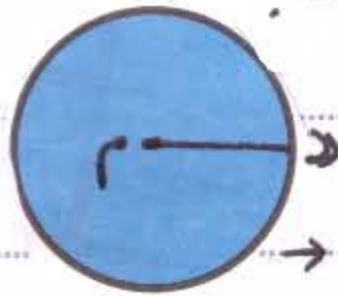


محیط :




محیط :

③ پاره خط «م» در هر شکل چه نام دارد؟

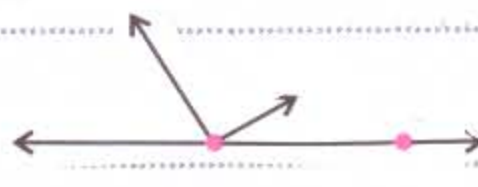


④ در هر شکل تعداد پاره خط و نیم خط را مشخص کن :



پاره خط :

نیم خط :



پاره خط :

نیم خط :

⑤ شکل زیر از چه پاره خط‌هایی تشکیل شده، آن‌ها را بنویس :



+ پاره خط «د» : دور شکل

⑥ به ضلع بزرگ مستطیل یا به ضلع کوچک آن

یا می‌گویند

هر ۴ ضلعی قطر و هر ۵ ضلعی قطر دارد.

⑦ در یک مسابقه‌ی ورزشی، دانش‌آموزان دو دور، دوریک سالن ورزشی به طول ۵ متر و

عرض ۳ متر را دویدند. آن‌ها چند متر دویدند؟

فارسی

① در هر گروه کدام کلمه با بقیه متفاوت است ؟

- نگدان ○ گلدان ○ همدان ○ یزدان ○
- حافظ ○ مولوی ○ بوعلی سینا ○ سعدی ○
- درستان ○ مردان ○ ایران ○ زنان ○

② در متن زیر چند کلمه نادرست نوشته شده است آن را پیدا کن و درست آن را بنویس.
یکی برخو است و گفت: « به بزرگ ما همه ی کسانی که در مناطق مرزی میهن زنده گی می کنند نگهبان اصلی وطن هستند ».

③ شاعر شعزیر است . آن را کامل کن :

کار ما است و درس همه از گریز اینیم
چون بناکان راست گوی و

④ گاهی برای بیان عواطف و احساسات از نوشته های زیبایی که اغلب دارای آهنگ است استفاده می شود که به آن می گویند و خواندن آن به روح انسان می دهد.

علم

① در اجرم که هر چه جسم به تکیه گاه نزدیک تر باشد نیروی (کم تر / بیشتری) برای به حرکت در آوردن و بلند کردن آن لازم است .

② هر چه جسم بیشتر باشد و زمین آن را با نیروی به طرف خود می کشد .

③ اگر دو قطب هم نام آهن را با هم نزدیک کنیم ، هدیگر را می کشند .

اجتماعی

① معمولاً نقشی خانه را مهندس ساختمان می کشد . درست ○ نادرست ○

② معمولاً بزرگ ترین قسمت خانه های امروزی و رنگ ترین قسمت آن است .

هدیه های آسمان

محمد و نام محمد را مشخص کن و در جدول بنویس :

نام محمد	محمد
.....
.....
.....

دایی ، پدر بزرگ ، پسر عمه ، شوهر خاله ، عمو ، پسر خاله

