

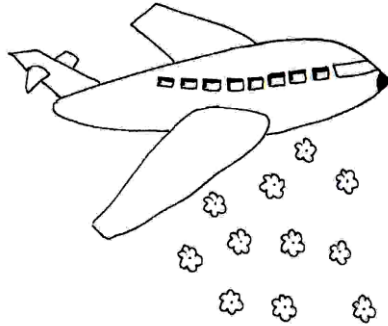


پیک آدینه


شماره: هفته دوم بهمن

پایه: ششم

نام و نام خانوادگی:



دهه ی فجر مبارک



دستان و پیش دستان غیردولتی و تحرانه صدرا

۱) نقش واژه های مشخص شده در بیت زیر را بنویسید.

۲) به دلخواه یک حکایت از گلستان سعدی بنویسید.

.....

.....

.....

.....

۳) قالب شعری مثنوی را توضیح دهید.

۱) حاصل عبارت های زیر را به دست آورید.

الف) $6 - 3 + 8 \times \frac{1}{2} + 13 \div 7 =$

ب) $[(3 \times 4) - 2] + [3 \times 4 - 3] =$

ج) $40 \times 40 \times (0.25) \times (0.25) + 7 \times 7 =$

د) $[8 - 2 \times 3] + [12 \div 2 \times 3] =$

۲) حاصل کدام عبارت با بقیه فرق می کند؟

ب) $100 \div 10 \times 5 \times 2$

الف) $100 \div (5 \times 2) \times 10$

د) $100 \div 5 \times 2 \times 10$

ج) $100 \times 5 \times 2 \div 10$

۳) حاصل کدام از بقیه بزرگ تر است؟

ب) $8/39 \times 0.1$

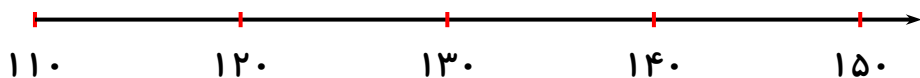
الف) $8/39 \times 0.001$

د) $8/39 \div 0.1$

ج) $8/39 \div 0.001$

۴) عددها و مقدارهای تقریبی آن‌ها را روی محور نمایش دهید و جدول را کامل کنید.

مقدار خطا	گردشده	عدد
		۱۲۳/۱۳
		۱۲۷/۲۵



۵) خارج قسمت را تا ۲ رقم اعشار حساب کنید.

$$5/62 \quad | \quad 5$$

$$1/7 \quad | \quad 3$$

۱) سارا و برادرش حسین یک توپ پارچه ای را از بالای یک سطح شیبدار رها می کنند. توپ در پایین سطح شیب دار وارد سطح افقی می شود و بعد از طی مسافتی می ایستد. آن ها می خواهند با آزمایش تعیین کنند توپ روی کدام سطح (فرش - چوب - شن) بیشترین مسیر را طی می کند.

الف) به نظر شما کدام سطح بیشترین اصطکاک را دارد؟

ب) کدام سطح کمترین اصطکاک را دارد؟

پاسخ خود را توضیح دهید.

۲) با کلمه ی انرژی چند جمله بنویسید که در جاهای مختلف شنیده اید؟

.....

.....

.....

.....

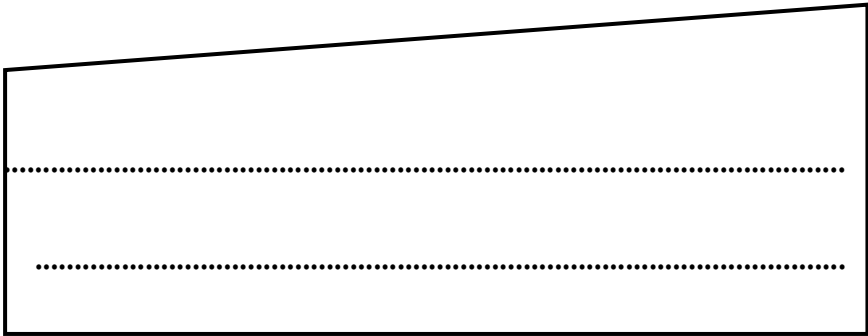
آزمایش کنید.

وسایل مورد نیاز: نمک - فلفل - پارچه ی پشمی و بادکنک


در یک بشقاب مقداری نمک و فلفل را مخلوط کنید.

یک بادکنک را با پارچه ای پشمی مالش دهید و به نمک و فلفل نزدیک کنید.

چه چیزی مشاهده می کنید؟



در این آزمایش چه نیرویی وجود دارد؟



۱) یک حدیث از امام حسن عسکری (ع) بنویسید.

.....

.....

۲) علما و فقها در زمان غیبت امام زمان (عج) چه نقشی در جامعه دارند؟



۱) یک گروه اجتماعی و یک گروه شغلی مثال بنویس و ویژگی لباس آن ها را توضیح دهید.

گروه اجتماعی:

نوع لباس:

گروه شغلی:

نوع لباس:


۲) اگر به تصاویر پوشاک مردان در دوره های مختلف تاریخی دقت کنیم چه

چیز مشترکی در آن ها مشاهده می کنیم؟



۳) یک استان در ناحیه ی آب و هوایی سرد و یک استان در ناحیه ی آب و هوایی گرم مثال بنویس. سپس بگویند نوع پوشش در این دو ناحیه چه فرقی با هم

دارند؟




۴) اگر فردی علاقه داشته باشد درباره ی پوشاک اقوام مختلف ایران اطلاعاتی به

دست بیاورد، شما به آن فرد چه پیشنهادی می کنید؟



ولی محترم لطفاً نظر خود را در رابطه با پیک این هفته برایمان بنویسید.



خودارزیابی:


دختر گلم به نظر خودت این پیک را چگونه انجام دادی؟

خوب

خیلی خوب

من این پیک را در مدّت ----- انجام دادم.

نظر من:



افراد برتر هفته ...

