

ردیف	بارم
1	۰/۵
2	۰/۵
3	0/5
4	۰/۵
5	۰/۵
6	۰/۵
7	۰/۵
8	۰/۵
9	۰/۵
۱۰	۰/۵
11	۰/۵
12	۱

1 برای تهیه نقشه های جغرافیایی از عکس های معمولی استفاده می کنند . ص غ

2 توزیع فعالیتی است که بین تولید کننده و مصرف کننده رابطه برقرار می کند . ص غ

3 نواحی مرتفع و بلند ایران در شمال شامل ..... است .

الف : کوه های آذر بایجان ب : رشته کوه البرز ج : کوه های خراسان د : هر سه مورد

4 از جمله مقرراتی است که گروه های اجتماعی به صورت توافق و یا عادت و رسم از آن پیروی می کنند .

الف : ایستادن در صف اتوبوس ب : ممنوعیت عبور از چراغ قرمز

ج : وارد شدن به مسجد بدون کفش د : صلاحیت و مدرک پزشکی برای درمان

5 اگر خود را به جای فردی که دچار حادثه شده بگذاریم و احساس و شرایط او را درک کنیم ، یعنی با او ..... کرده ایم .

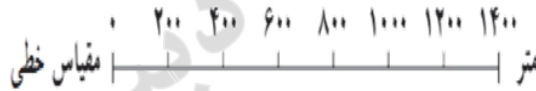
6 منظور از ..... چیز هایی است که یک انسان به دلیل مقام انسانی اش شایستگی داشتن آنها را دارد .

7 به منطقه بزرگی که در آن مجموعه ای از گیاهان و جانوران خاص زندگی می کنند ..... می گویند .

8 اگر افراد بخواهند ساختمانی برای محل سکونت یا کسب و کار خود بسازند باید از شهر داری ..... بگیرند .

9 خداوند در سوره اسرا آیه ۲۷ قران کریم می فرماید : همانا مبذرین ( ریخت و پاش کنندگان ) از ..... هستند .

۱۰ بر روی نقشه گردشگری شهر تبریز فاصله ی میدان بسیج تا میدان راه آهن 5 سانتی متر است . با توجه به مقیاس خطی زیر فاصله واقعی مکان ها روی زمین چند متر و چند کیلومتر است ؟



11 جمله ( همه افراد در برابر قانون مساوی اند ) را با ذکر مثال توضیح دهید.



12 بیمه چیست؟




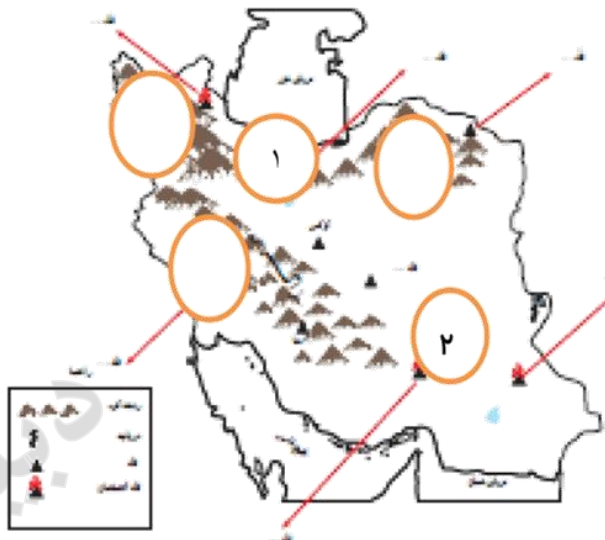
۱	<p>برای ویژگی های انسانی یا ویژگی های طبیعی شهر خود یک سوال جغرافیایی طرح کنید؟</p> <p>- ویژگی طبیعی</p> <p>- ویژگی انسانی</p> 	13									
۱	<p>دامنه های شمالی و جنوبی البرز را با یکدیگر مقایسه کنید :</p> <table border="1" data-bbox="247 535 1347 741"> <thead> <tr> <th data-bbox="247 535 614 604">بارش</th> <th data-bbox="614 535 981 604">پوشش گیاهی</th> <th data-bbox="981 535 1347 604"></th> </tr> </thead> <tbody> <tr> <td data-bbox="247 604 614 674"></td> <td data-bbox="614 604 981 674"></td> <td data-bbox="981 604 1347 674">دامنه های شمالی البرز</td> </tr> <tr> <td data-bbox="247 674 614 741"></td> <td data-bbox="614 674 981 741"></td> <td data-bbox="981 674 1347 741">دامنه های جنوبی البرز</td> </tr> </tbody> </table>	بارش	پوشش گیاهی				دامنه های شمالی البرز			دامنه های جنوبی البرز	۱۴
بارش	پوشش گیاهی										
		دامنه های شمالی البرز									
		دامنه های جنوبی البرز									
۱	<p>چه ارتباطی میان کلمات و جملات زیر وجود دارد ؟</p> <p>( حقوق متقابل - بیمه - همدلی و همیاری - حقوق طبیعی )</p> <p>- همانطور که ما حق داریم ، پدر و مادر و معلم و همسایگان و دوستان و... نیز حقی بر ما دارند .....</p> <p>- خداوند در قران کریم می فرماید : هر کس جان یک نفر را نجات دهد مانند این است که جان همه مردم را نجات داده است .....</p> <p>- برای جبران زیان های مالی و جانی به وجود آمده است . .....</p> <p>- انسان ها حق دارند آزاد باشند ، یعنی برده و بنده انسان های دیگر نباشند . زیرا خداوند آنها را آزاد آفریده است .....</p>	۱۵									
۱	<p>برای هر یک از مجموعه کلمات زیر یک سوال طراحی کنید.</p> <p>( منابع طبیعی - سرمایه - نیروی انسانی )</p>	16									
۱	<p>دو مورد از حقوق و مسئولیت های خود در خانه را بنویسید :</p> <p>۱- من حق دارم</p> <p>۱- من مسئول هستم</p>	۱۷									

نوبت امتحانی : نوبت اول  
پایه : هفتم  
تاریخ امتحان : ۹۵/۱۰/۲۲  
شماره ردیف .....  
مدت امتحان ۶۰ دقیقه

باسمه تعالی

سازمان آموزش و پرورش فارسی  
مدیریت آموزش و پرورش لارستان  
دبیرستان غیر دولتی کوشا (دوره اول)

نام .....  
نام خانوادگی .....  
نام پدر .....  
نام درس : مطالعات اجتماعی  
شماره صفحه : ۳

۱	<p>۱۸</p> <p>به طور کلی قانون و مقررات به چند دلیل بوجود آمده است ؟</p> 	
۱	<p>۱۹</p> <p>با توجه به تصاویر پاسخ دهید ، شما در برابر چه چیز و چه کسانی مسئول هستید ؟</p>   <p>.....</p> <p>.....</p>	
۱	<p>۲۰</p> <p>با توجه به نقشه طبیعی ایران پاسخ دهید :</p>  <p>۱- رشته کوه .....</p> <p>۲- دشت .....</p>	
۱	<p>۲۱</p> <p>در مورد چهار ناحیه آب و هوایی ایران به پرسش های زیر پاسخ دهید :</p> <p>-مرطوب ترین ناحیه آب و هوایی ایران است .....</p> <p>-در برخی ارتفاعات این ناحیه در هنگام زمستان برف زیادی می بارد و یخبندان های شدید به وجود می آید .....</p> <p>-در این ناحیه اختلاف دمای شب و روز زیاد است و تابستان هوا بسیار گرم است .....</p> <p>-این ناحیه از جلگه خوزستان تا بندر چابهار کشیده شده است .....</p>	

۱	 <p>۲۲ قوه مقننه از چند بخش تشکیل شده است؟ نام ببرید. ..... و.....</p>	۲۲
۱	 <p>۲۳ از ۳ سوال زیر به ۱ سوال به اختیار پاسخ دهید؟ ۱- چرا زیستگاه ها تخریب می شوند؟ دو مورد ۲- در مناطق حفاظت شده چه مقررات خاصی برای حفظ گیاهان و جانوران تعیین شده است؟ دو مورد ۳- شما برای حفاظت از محیط زیست چه کار هایی انجام می دهید؟ دو مورد</p>	۲۳
۱	 <p>24 در مرداد ماه ۱۳۹۱ زلزله ای در منطقه ارسباران آذر بایجان شرقی اتفاق افتاد. سازمان هلال احمر برای زلزله زدگان این منطقه چه اقداماتی انجام داد؟ دو مورد</p> <p>- شما و خانواده تان از همان محل زندگی خود چگونه به زلزله زدگان این منطقه کمک کردید؟ یک مورد</p>	24
۱/۵	<p>25 ۱- به منظور حفظ حقوق مصرف کننده چه قوانین و مقرراتی به وجود آمده است؟ دو مورد</p> <p>۲- چه اطلاعاتی روی برچسب کالا درج شده است؟ دو مورد</p> <p>۳- این علامت ها روی برچسب بسته بندی کالا نشانه چیست؟</p> <p>.....  .....</p> <p>.....  .....</p>	25
<p>نمره به عدد .....نمره به حروف .....نام و نام خانوادگی دبیر .....امضا</p>		