

۱- کدام یک از گزینه های زیر از ۲۴۸ بیش تر است؟

- (۱) ۲ تا صدتایی و ۵ تا یکی (۲) ۵ تا یکی، ۳ صدتایی و ۴ ده تایی
- (۳) ۲ تا صدتایی، ۷ تا یکی و ۴ تا ده تایی (۴) ۷ تا یکی، ۲ صدتایی و ۳ تا ده تایی

۲- در کدام عدد، رقم ۳ بالاترین ارزش مکانی را دارد؟

- (۱) ۹۳۹ (۲) ۳۸۱ (۳) ۹۸۳ (۴) ۹۷۳

۳- مجموع رقم های کدام یک از عددهای زیر از بقیه کم تر است؟

- (۱) ۹۹ (۲) ۱۷۳ (۳) ۴۸۱ (۴) ۱۸۸

۴- دقیقه شمار کدام ساعت زیر پیش تر حرکت کرده است؟

- (۱) دو و نیم (۲) ۲:۲۰ (۳) ۲:۱۵ (۴) یک ربع مانده به سه

۵- علی ۴ دسته ی ده تایی و ۷ یکی، حمید ۳ دسته ی صدتایی و ۲ یکی، رضا ۲ دسته ی صدتایی و ۱۱ دسته ی ده تایی و حسین ۹ دسته ی ده تایی و ۸ یکی مداد دارند. کدام یک از آن ها مدادهای بیشتری دارد؟

- (۱) علی (۲) رضا (۳) حمید (۴) حسین

۶- حاصل تقریبی تفریق رو به رو با حذف رقم یکان و دهگان کدام است؟

- (۱) ۳۰۰ (۲) ۳۰ (۳) ۳۳۳ (۴) ۳۲۰
- ۷۵۷
-
۴۳۴

۷- نیمه ی دیگر شکل رو به رو کدام است؟



- (۱) (۲) (۳) (۴)

۸- کدام حاصل جمع یا تفریق زیر به عدد ۴۷ نزدیک تر است؟

- (۱) $۱۸ + ۳۳ = \dots\dots\dots$ (۲) $۷۷ - ۳۲ = \dots\dots\dots$
- (۳) $۷۲ - ۲۸ = \dots\dots\dots$ (۴) $۲۹ + ۱۹ = \dots\dots\dots$



۹- در جای خالی کدام یک از گزینه های زیر علامت < = > قرار می گیرد.

(ب) $۱۰۰ + ۳۰۰ \bigcirc ۹۰۰ - ۵۰۰$

(الف) $۶۰۰ + ۲۰۰ \bigcirc ۵۰۰ + ۴۰۰$

(د) $۸۰۰ - ۶۰۰ \bigcirc ۱۰۰ + ۲۰۰$

(ج) $۷۰۰ - ۳۰۰ \bigcirc ۲۰۰ + ۳۰۰$

۱۰- جمع و تفریق های زیر را انجام بده.

$$\begin{array}{r} ۱۰۸ \\ - ۹ \\ \hline \end{array}$$

$$\begin{array}{r} ۸۹ \\ + ۷ \\ \hline \end{array}$$

$$\begin{array}{r} ۱۰۵ \\ - ۸ \\ \hline \end{array}$$

$$\begin{array}{r} ۹۶ \\ + ۷ \\ \hline \end{array}$$

ریاضی

۱- سایه ی دست من روی بهتر درست می شود.

- (۱) آینه (۲) شیشه (۳) طلق (۴) جلد کتاب

۲- موادی مثل نفت و گاز و بنزین و گازوئیل را می نامند.

- (۱) مواد آتش زا (۲) انرژی (۳) سوخت (۴) پول

۳- فرض کن ماه در دست راست کره ی زمین می تابد، می توانی بگویی کدام طرف زمین، روز است؟

- (۱) سمت راست (۲) قسمت بالای کره زمین
(۳) سمت چپ (۴) قسمت پایین آن

۴- بوی دود و صدای بلند بوق ماشین ها برای بسیار ضرر دارد.


- (۱) مردم (۲) بچه ها (۳) زن ها (۴) مردها

۵- انسان برای اطلاع رسانی و هشدار دادن از استفاده می کند.

- (۱) نور (۲) صدا (۳) پلیس (۴) صدا و نور

۶- تعداد چشمه های نور بسیار از چیزهایی است که از خود نور ندارند.

- (۱) کم تر (۲) بیش تر (۳) بزرگ تر (۴) با ارزش تر



فارسی

۱. به جمله های زیر (خواهم یا خواهد) اضافه کن و دوباره بنویس.

من با دوربین عکس گرفتم.

سفالگر با گل ، وسایل زیبا می سازد.

۲. جمله های زیر را مانند نمونه کامل کن.

من در مسجد نماز می خوانم.

من در مسجد نماز خواندم.

تو در مسجد

تو در مسجد

او در

او در

.....

ما

.....

شما


.....

آن ها





۳. در جاهای خالی کلمات مناسب بنویس.

..... در پارک بازی می کردند. (ما _ آن ها)

..... در حرم دعا می خواندی. (تو - شما)



۴. دختر گلم با شماره زدن پایین تصویرهای در هم ریخته، ترتیب و ارتباط تصویرها را نشان بده و سپس داستان کوتاهی درباره ی آن بنویس.
(رنگ آمیزی فراموش نشود.)



Handwriting practice area consisting of ten horizontal dotted lines for writing a story.

