


پایه ی اول  
به نام خدای خوب



نام زیبای من: .....

تاریخ: .....

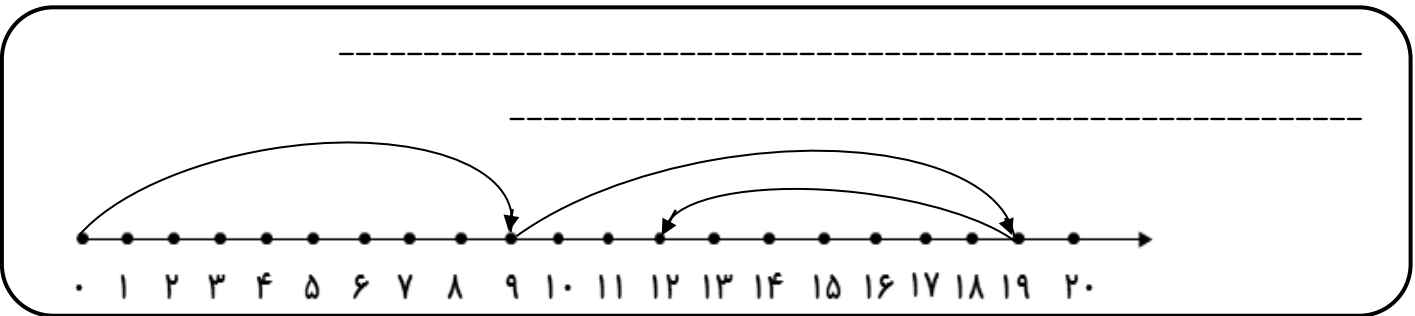
۱- جاهای خالی را با اعداد مناسب کامل کن.

۱۹	-----	۱۰۰	-----	۲۱	-----	۸۳
-----	نود و سه	-----	چهل و نه	-----	دوازده	-----

۷۸ - ۸۰ - ۸۲ -----

۵۵ - ۵۶ - ۵۷ -----

۲- برای محور یک مسئله بنویس و آن را حل کن.



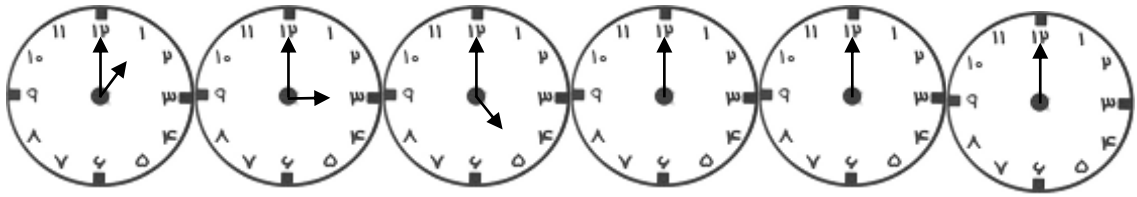
۳- مسئله را با توجه به شکل حل کن.

مادر علی ۲۸ کاموا داشت. او با ۷ کاموا کلاه بافت. با ۷ کاموای دیگر شال گردن بافت. چند کاموا برای او باقی مانده است؟

۴- با توجه به اعداد جاهای خالی را کامل کن.

ده تایی و یکی می شود -----	۱۸	ده تایی و یکی می شود -----	۳۴
با حروف: -----		با حروف: -----	
ده تایی و یکی می شود -----	۸۱	ده تایی و یکی می شود -----	۴۳
با حروف: -----		با حروف: -----	

۵- با توجه به الگو عقربه های ساعت ها را بکش و زمان هر کدام را بنویس.




۶- مسئله ها را با دقت بخوان و اگر اطلاعات مسئله کافی است آن ها را حل کن. روی اطلاعات اضافه ی مسئله خط بزن.

دانش آموزان کلاس اول و دوم دبستان ادب ۴۵ نفر هستند. در مسابقه ی فوتبال کلاس اولی ها ۲ گل زدند و کلاس دومی ها ۳ گل زدند. آن ها روی هم چند گل زدند؟

در دبستان شهید بهشتی ۳۰ دانش آموز در کلاس اول و ۴۰ دانش آموز در کلاس دوم درس می خوانند. این دو کلاس چند دانش آموز دارد؟

۱۵ مهمان در سالن پذیرایی نشسته بودند. ۲۵ میوه در ظرف بود. مهمان ها ۱۸ میوه را خوردند. حالا چند مهمان در سالن غذا خوری نشسته اند؟

۷- یک طرح فرش با سلیقه ی خودت بزن.



بازخورد آموزگار

