

(۱) کتاب ریاضی شما چند صفحه دارد؟

(۲) اگر تا پایان آذرماه قرار باشد، $\frac{2}{5}$ کتاب را خوانده باشید، حساب کنید چند صفحه

باید بخوانید؟

(۳) وقتی $\frac{2}{5}$ کتاب را حساب کردی، به چه صفحه ی چند رسیدی ؟

(۴) عنوان این درس چیست ؟




(۵) چه کسری از کتاب ، باید بعد از آذرماه خوانده شود؟

(۶) چند صفحه ی دیگر از کتاب باقی می ماند؟

(چند صفحه)

(۷) از مقداری که باید تا پایان آذر ، خوانده باشید ، عقب تر هستید یا جلوتر؟

(۸) روی شکل های زیر $\frac{2}{5}$ را مشخص کن.



| انتظارات | خ خ | خ | ق ق | ن ت |
|---|-----|---|-----|-----|
| می تواند از راه حل مناسبی برای یافتن دوپنجم کتاب استفاده کند. | | | | |
| تعداد صفحات باقی مانده را به درستی محاسبه می کند. | | | | |
| کسر باقی مانده ی کتاب را به درستی مشخص می کند. | | | | |
| می تواند روی شکل های هندسی کسردو پنجم را مشخص کند. | | | | |

مخصوص دانش آموز:

۱- کدام قسمت این تمرین را توانستی به خوبی پاسخ دهی ؟

۲- کدام قسمت این تمرین مشکل داشتی ؟

۳- برای برطرف شدن مشکل خود ، باید چه کار کنی ؟