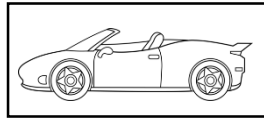
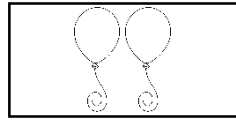
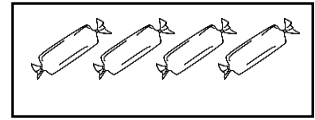


۱. عدد مناسب هر شکل را بنویس.




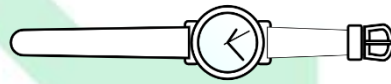







۲. اندازه ی هر شکل چند است؟





۳. با توجه به اندازه ی مدادها آن ها را رنگ کن.



اندازه ی مداد زرد ۳ تا است.

اندازه ی مداد سبز ۲ تا است.

اندازه ی مداد آبی ۴ تا است.

اندازه ی مداد قرمز ۱ عدد است.

۴. الگوی عددی را ادامه بده.

۴ ۲ ۲ ۳ ۲ ۲ ○ ○ ○ ○ ○ ○


۴ ۲ ۱ ۳ ۲ ۱ ○ ○ ○ ○ ○ ○



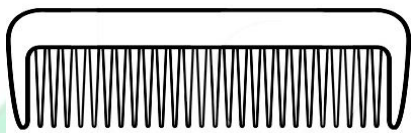
۵. جدول شگفت انگیز را کامل کن.

۱	۲	۳	۴
۴	۳	۱	۲
۲			۳

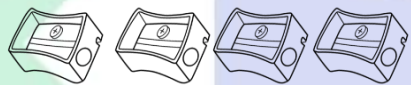
د	ب	ن	م
م	ن		
	د		ن
ن			ب

۶. شکل  از چند مربع ساخته شده است.

- ۲ ۳ ۴



۷. اندازه ی شانه چند  است؟



- ۲ ۳ ۴

فارسی

۱. در جاهای خالی کلمه ی مناسب بنویس.

آن آسب رام (داد - آست)


سارا در آمد. (باران - آسمان)

۲. جدول ها را کامل کن.

تَور			
			-

بادبان			

آناناس			



۳. کلمه ها را مرتب کن و بنویس. (دخترم در آخر جمله نقطه یادت نرود)

من - بوستان - در - بودم

انار - در - ساسان - دارد - انبار

باران - مادر - آمد - در

۴. پاسخ سوال ها را بنویس.

نام دومین ماه پاییز چیست؟

جایگاه ابر و ستاره ها کجاست؟

از ابر چه می بارد؟

یک میوه ی فصل پاییز را نام ببرید.

۵. با ترکیبات زیر کلمه و سپس جمله بساز.

نا

ب

س

۶. در هر ردیف کلمه های مناسب بنویس.

"ر" در آخر کلمه باشد.


"ر" در وسط کلمه باشد.

"ر" در اول کلمه باشد.

.....

.....

.....



۷. با کلمات داده شده جملات زیر را کامل کن.

سَبَد - نان - سَرَد

آستارا است. مادر دَر توت دارد. برادرم در دَسْت دارد.

علوم

۱. کدام وضعیت از خوابیدن مناسب است؟



۲. هنگام بازی کردن از کدام ابزار باید استفاده کرد؟



۳. برای سلامتی دیگران و جلوگیری از بیمار شدن دیگران کدام تصویر درست نیست؟

