



مقطع: دبستان

درس: ریاضی

استان:

دوره: اول

نوع آزمون: ارزشیابی مهرماه

شهرستان:

پایه: دوم

زمان آزمون: ۵۰ دقیقه

آموزشگاه:

<p>درج‌های خالی اعداد مناسب بنویسید.</p> <p>..... - - ۲۱ - ۲۰ - ۱۹ - -</p> <p>..... - - ۳۵ - - - ۲۰ - ۱۵</p>	۱
<p>حاصل جمع و تفریق‌های را به هر روشی که دوست دارید پیدا کرده و بنویسید.</p> <p>۹+۶=.....</p> <p>۵+۵+۱۰+۵۰=.....</p> <p>۱۶-۴=.....</p> <p>۸۰-۱۰=.....</p> <p>۴+۶+۳=.....</p> <p>۱۵-۶=.....</p>	۲
<p>عبارت‌های سمت راست را به عدد مناسب در سمت چپ وصل کنید .</p> <p>● ۲ده تایی و ۸ یکی می‌شود</p> <p>● ۶ده تایی و ۱ یکی می‌شود</p> <p>● ۹ده تایی و ۹ تا یکی می‌شود</p> <p>● ۴ده تایی و ۵ تا یکی می‌شود</p> <p>● نود و نه</p> <p>● بیست و هشت</p> <p>● چهل و پنج</p> <p>● شصت و یک</p>	۳
<p>هر یک از شکل‌های زیر از چند بسته‌ی ده تایی درس</p> <div style="display: flex; justify-content: space-around; align-items: center;"> <div style="border: 2px solid red; border-radius: 15px; padding: 10px; text-align: center;"> <p>☆ ☆ ☆ ☆ ☆ ☆ ☆ ☆ ☆ ☆</p> <p>☆ ☆ ☆ ☆ ☆ ☆ ☆ ☆ ☆ ☆</p> <p>تا</p> </div> <div style="border: 2px solid blue; border-radius: 15px; padding: 10px; text-align: center;"> <p>△ △ △ △ △ △ △ △ △ △</p> <p>△ △ △ △ △ △ △ △ △ △</p> <p>△ △ △ △ △ △ △ △ △ △</p> <p>تا</p> </div> </div>	۴
<p>با رقم‌های (۷ و ۰ و ۲) چند عدد دورقمی می‌توان نوشت؟ آن‌ها را بنویسید.</p>	۵
<p>بزرگ‌ترین و کوچک‌ترین عدد دورقمی که به رقم‌های (۷ و ۴) می‌توان نوشت، چه اعدادی هستند؟</p> <p>بزرگ‌ترین عدد:</p> <p>کوچک‌ترین عدد:</p>	۶



مقطع: دبستان

درس: ریاضی

استان:

دوره: اول

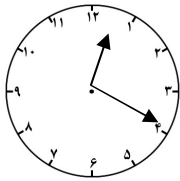
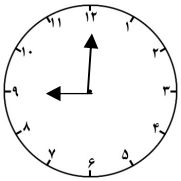
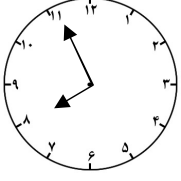
نوع آزمون: ارزشیابی مهرماه

شهرستان:

پایه: دوم

زمان آزمون: ۵۰ دقیقه

آموزشگاه:

$17 - \square = 14$	$\square - 5 = 12$	$\square + 8 = 19$	$7 + 8 = \square$	$8 + \square = 12$	۷ به جای <input type="checkbox"/> عدمناسب بنویسید .
شکوفه ۷ بسته ده تایی و ۴ تا یکی خودکار دارد. خودکارهای شکوفه را در جدول رو برو قراردادده و تعداد آن رابه رقم و به حروف بنویسید.					۱۰
زمانی راکه هر یک از ساعت های زیر نشان می دهند را بنویسید .					۱۱
 <input type="text"/>	 <input type="text"/>	 <input type="text"/>			
نرگس ۳ بسته ی ۱۰ تایی مدادداشت. اگر یکی از بسته هارابه دوستش ناهید داده و یکی دیگر از بسته هایش را باز کرده و ۴ تا از مدادهای آن بسته رابه دوست دیگرش نسترن بدهد، چند مداد برای خودش باقی می ماند ؟					۱۲
دفتر یادداشت داریوش ۲۷ برگ دارد. اگر ۹ عدد از برگ های این دفترچه را از آن جدا کند چند برگه ی دیگر باقی خواهد ماند؟					۱۳
اگر دیروز سه شنبه ۸ مهر باشد ۸ چه روزی است؟ (روز هفته و تاریخ)					۱۴

ارزیابی آموزگار:

.....

.....